

[1] 古代オリエント世界および地中海世界に関する次の設問に答えよ。

問1 古代エジプトに関する次の文章のうち、誤りを含むものを一つ選び番号で答えよ。

国王はファラオと呼ばれ、神の化身として崇拜され、全国土と人民を支配した。

古王国時代には、国王の地位が確立し、ギゼーの三大ピラミッドなどの巨大なピラミッドが建設された。

中王国時代の末期には、セム系のアッシリア人が馬と戦車を用いてエジプトに侵入し、中王国を滅ぼした。

新王国時代に、エジプトは征服戦争によって大発展をとげ、西アジアへも領土を拡大した。

問2 古代の西アジアに関する次の文章のうち、正しいものを一つ選び番号で答えよ。

メソポタミア南部に都市国家を建設したシュメール人は、粘土板に刻む神聖文字や六十進法を生み出した。

古バビロニア王国では、ハンムラビ王が全メソポタミアを統一し、大河の規則的な氾濫を観測することによって考案された太陽暦を採用した。

アナトリア高原に建国したヒッタイトは、鉄製武器を用い、強大な軍事国家となってシリアに進出した。

アラム人は、シドン・ティルスなどの都市国家を拠点に海上貿易に活躍し、地中海沿岸各地に植民市を建設した。

問3 アケメネス朝ペルシアに関する次の文章のうち、誤りを含むものを一つ選び番号で答えよ。

世界を光明の善神アフラ=アズダと暗黒の悪神アーリマンの対立の場としてとらえるゾロアスター教が信仰された。

帝国内の宗教の統一をすすめて、反乱防止のための被征服民を強制移住させ、重税を課すなど圧政をおこなった。

帝国内を20余の州に分け、各州にサトラップを置き、「王の目」「王の耳」とよばれる監察官を各地に派遣した。

スサとサルデイスを結ぶ「王の道」(国道)を建設し、各地を結ぶ駅伝制を整備して、都と地方を直結した。

問4 次の文中の(ア)に記入すべき語句として、適切でないものを一つ選び番号で答えよ。

ギリシア本土は耕地が乏しく、大河も大平野もなく、穀物栽培や牧畜に適さなかったため、ギリシア人は早くから海外進出をはかり、小麦などの穀物を輸入して、(ア)などを輸出する貿易を活発におこなうとともに、地中海沿岸・黒海沿岸の各地に植民市を建設した。

陶器 オリーブ油 ぶどう酒 絹織物

問5 次の文中の(イ)・(ウ)に記入すべき語句の組み合わせとして正しいものを一つ選び番号で答えよ。

スパルタでは、完全市民であるスパルタ人が、征服された先住民で農耕労働を強制される(イ)と、商工業に従事し従軍の義務はあるが参政権を持たない(ウ)とを支配下においていた。スパルタ人は生産労働を一切おこなわず、厳格な規律によって市民間の団結を高め、平等な戦士集団を維持するために、軍国的・閉鎖的な制度を確立した。

(イ)ヘロット - (ウ)ペリオイコイ (イ)ヘロット - (ウ)バルバロイ

(イ)ペリオイコイ - (ウ)ヘロット (イ)ペリオイコイ - (ウ)バルバロイ

問6 アテネ民主政に関する説明文として正しいものを一つ選び番号で答えよ。

ペロポネソス戦争で軍船のこぎ手として活躍した無産市民の政治的発言権が強まった。

ペシストラトスの時代に民主政が完成し、市民全員が参加する民会が国政の最高機関となった。

女性・在留外国人・奴隷はアテネ市民権を持たず、したがって参政権も認められなかった。

將軍職など少数の例外を除いて、ポリスの役人は市民による選挙で選ばれた。

問7 古代ギリシアの詩人とその説明文の組み合わせとして誤っているものを一つ選び番号で答えよ。

アイスキュロス - 『女の平和』など政治と世相を鋭く風刺した喜劇を作り、自由な言論をくりひろげた。

ソフォクレス - 神話・伝説を題材にした『オイディプス王』などの喜劇を著した。

ホメロス - ギリシア最古の詩人で、二大叙事詩『イリアス』・『オデュッセイア』の作者だとされている。

ヘシオドス - 農民の勤労の尊さをうたいあげた『労働と日々』を残した。

問8 ポエニ戦争を経て、前2世紀末にはローマは地中海の覇権を握った。その結果生じた社会の変化についての説明文として誤っているものを一つ選び番号で答えよ。

元老院議員層と騎士は広大な公有地を占有し、土地を買い占めて、大量の奴隷を使役する大土地経営をおこなった。

重装歩兵として従軍した平民の政治的要求が高まり、コンスルの一人を平民から選出する法律が制定された。

属州から流入する安価な穀物との競争に敗れて、ローマ発展の原動力であった中小農民は没落した。

グラックス兄弟は、有力者の公有地占有を制限し、無産市民に土地を再分配して重装歩兵市民軍を再建しようとしたが、大土地所有者の反対にあって失敗した。

問9 前2世紀末から前1世紀にかけて各地で奴隷の反乱が発生した。これらのうち、ローマを危機に陥れた大反乱を率いた剣闘士を次の中から選び番号で答えよ。

ハンニバル ポンペイウス マリウス スパルタクス

問10 カエサルに関する説明文として正しいものを一つ選び番号で答えよ。

アクティウムの海戦に勝利し、プトレマイオス朝エジプトを滅ぼした。

現在のフランスにあたる地域に対する征服戦争の体験をもとに、『ガリア戦記』を著した。

アントニウス、クラッススとともに三頭政治を始めた。

アウグストゥスの称号を得て帝政を開始した。

[2] 中世ヨーロッパに関する図を見て、設問に答えよ。

・ 図 A は、第二次民族移動のあと、おもに西ヨーロッパで成立した荘園をあらわした図である。

< 図 A >

問 1 図 A のように、おもな中世の荘園では、耕地を春耕地・秋耕地・休耕地に分けて耕作した。このような耕作の仕方を何というか、答えよ。

問 2 中世の荘園では、村の中心に教会があった。中世の精神世界を支配したローマ=カトリック教会について述べた文のうち、正しいものを一つ選び番号で答えよ。

教皇レオ 1 世の時、フランク国王カールにローマ帝国の冠を授け、東方教会に対抗した。

11 世紀には、ローマ=カトリック教会の腐敗を攻撃する修道院運動がおこったが、その中心となったのはモンテ=カッシノであった。

教皇グレゴリウス 7 世のとき、叙任権をめぐる神聖ローマ皇帝ハインリヒ 4 世と争った。

教皇インノケンティウス 3 世は、教皇権の優位を太陽にたとえ、カノッサの屈辱事件を起こすなど、皇帝をしのぐ勢いを誇った。

問 3 荘園の中央には、領主の館がそびえているが、領主と農民についての文で、誤っているものを一つ選び番号で答えよ。

封建領主は、互いに封土の授受を中心にした主従関係を結び、忠誠を誓った。

国王・貴族と同じように、高位聖職者も領主として荘園を支配した。

農民は奴隷として使役され、私有財産の所有は認められなかった。

荘園では、農民は教会に十分の一税を納めていた。

問

4 11 世紀には荘園における農業生産力が高まるにつれて人口が増え、西ヨーロッパ世界は拡大していった。東ヨーロッパに向かった東方植民にたいして、南のイベリア半島のイスラム教徒に向けた拡大運動を何というか、答えよ。

・ 写真 B は、今も残る中世の都市の写真である。

< 写真 B >

問 5 11 世紀に始まる十字軍の遠征以降、ヨーロッパでは都市が発展した。中世の都市についての以下の文で、誤っているものを一つ選び番号で答えよ。

北イタリア諸都市では、十字軍遠征以後東方貿易が活発化し、香辛料などの高級品を輸入した。

北海・バルト海沿岸の諸都市では、ロンバルディア同盟を中心に、生活必需品を扱う貿易が盛んであった。

フランスのシャンパーニュ地方では、南北の商業圏を結ぶ定期市が開かれた。

第 4 回十字軍は、ヴェネツィアがコンスタンティノープルの商業利権獲得をねらってすすめた遠征であった。

問 6 図 B の写真の中央には教会が見える。北フランスではとりわけ高い塔とステンドグラスを特徴とする教会が建設されが、この教会の様式を何というか、次の中から一つ選んで番号で答えよ。

ロマネスク様式 ゴシック様式 バロック様式 ビザンツ様式

問 7 都市の中心には広場と市庁舎がある。ところで、「都市の空気は()にする」という言葉は、ドイツにおける都市の自治権を示すことわざである。()内にあてはまる言葉を答えなさい。

問 8 都市の発達により、貨幣経済が浸透し、中世社会は大きく変化した。中世末期についての以下の文で、誤っているものを一つ選び番号で答えよ。

領主は農奴に貨幣地代を要求するようになり、フランスではワット=タイラーの乱がおこった。

没落した領主の中には宮廷貴族化して、国王にたよるものが現れた。

黒死病の流行により、農業人口が激減して、貨幣地代が普及していった。

イギリスではヨーマンと呼ばれる独立自営農民が現れた。

問 9 中世末には、十字軍の失敗と封建制の動揺により、教皇権は衰退した。教皇権についての出来事で、年代が古いもの順に並んでいるものを選び番号で答えよ。

アナーニ事件 - コンスタンツの公会議 - 教会大分裂 - 教皇のパピロン捕囚

コンスタンツの公会議 - 教皇のパピロン捕囚 - アナーニ事件 - 教会大分裂

アナーニ事件 - 教皇のパピロン捕囚 - 教会大分裂 - コンスタンツの公会議

教皇のパピロン捕囚 - アナーニ事件 - コンスタンツの公会議 - 教会大分裂

問 10 都市と対抗したり、同盟を結ぼうとした支配者についての文章で、正しいものを一つ選び番号で答えよ。

フランスでは、カペー家が勢力を強め、フィリップ 2 世の時代には教皇庁がアヴィニオンに移された。

イギリスのヘンリ 2 世は、失政が原因で貴族シモン=ド=モンフォールに迫られ、大憲章を認めた。

ドイツでは、カール 4 世の金印勅書により、皇帝権が強化された。

イタリアでは、皇帝派(ギベリン)と教皇派(ゲルフ)の対立が激しく、国家としての統一は見られなかった。

[3]16世紀の西ヨーロッパに関する次の年表をもとに下の問に答えよ。

イギリス	フランス	ドイツ・イタリア・オランダなど
1509 [A] が即位する	1515 フランソワ 1 世が即位する	1506 教皇が (1) の修築を始める 1514 (e) <u>贖宥状</u> が販売される 1517 (f) <u>ルター</u> が贖宥状の販売に疑問を表明する 1524 (g) <u>ドイツ農民戦争</u> が始まる
1534 [A] が首長法を發布する	1534 (b) <u>イエズス会</u> が作られる 1536 (c) 『 <u>キリスト教綱要</u> 』が出版される	1545 [E] 公会議が開かれ、教皇～63 至上権が確認される 1555 [F] の和議により <u>ドイツでルター派の信仰が認められる</u>
1558 [B] が即位する 1559 [B] が統一法を發布する	1562 [C] 戦争が始まる 1572 サン=バルテルミの虐殺が起きる	1581 オランダで独立宣言が出される
1588 (a) <u>スペインの無敵艦隊</u> と戦う	1589 (d) <u>アンリ 4 世</u> が即位する 1598 [D] の勅令が出される	

問 1 年表中の空欄 [A] と [B] に適する人名を答えよ。

問 2 年表中の空欄 [C] ～ [F] に適する語句を答えよ。

問 3 年表中の空欄 (1) に適する語句を、次の中から選び番号で答えよ。

セント=ソフィア大聖堂 ノートルダム大聖堂 ケルン大聖堂 サン=ピエトロ大聖堂

問 4 年表中の下線部 (a) をイギリスに派遣したスペイン国王を、次の中から選び番号で答えよ。

カルロス 1 世 ウィレム 1 世 フェリペ 2 世 フェルナンド 5 世

問 5 年表中の下線部 (b) がパリで結成された時、その中心となったスペイン貴族の名前を答えよ。

イグナティウス=ロヨラ マガリャンイス マテオ=リッチ ヴァスコ=ダ=ガマ

問 6 年表中の下線部 (c) を書いたフランスの宗教家を次の中から選び番号で答えよ。

ツヴィングリ コペルニクス フランシスコ=ザヴィエル カルヴァン

問 7 年表中の下線部 (d) について、次の中から正しいものを選び番号で答えよ。

マザランを用いてフロンドの乱を鎮圧した。 新教徒であったがカトリックへ改宗した。
リシュリューを起用して王権を強化した。 ドイツの三十年戦争に介入し新教徒を援助した。

問 8 年表中の下線部 (e) の贖宥状 (免罪符) について、次の中から正しいものを選び番号で答えよ。

メディチ家出身の教皇レオ 10 世が販売を認めた。 魂の救済が得られることをエラスムスが理論化した。
フィレンツェの富豪フッガー家が独占販売した。 所持すると異端裁判を免れることができるとされた。

問 9 年表中の下線部 (f) の人物の著作を次の中から選び番号で答えよ。


『痴愚神礼賛』 『神学大全』 『キリスト者の自由』 『告白録』

問 10 年表中の下線部 (g) について、次の中から正しいものを選び番号で答えよ。


農民はシュマルカルデン同盟を結成して戦った。 ミュンツァーらが指導し農奴制の廃止などが叫ばれた。
ルターは最後まで農民に同情的で支援を続けた。 デンマークやスウェーデンが新教徒の農民を支援した。

[4] 次の3つの図版とその解説文について、あとの設問に答えよ。


図版Cについては、作問の都合上、一部改変してある。また、図版の解説については『ドーミエ風刺画の世界』(喜安朗 編 岩波文庫)を参考にした。



図版 A



図版 B



図版 C

[図版 A] 図版 A はフランス七月王政を題材としたドーミエの風刺画である。寝そべっているのは、フランス革命期にミラボーらとともにフイヤン派として活動し、人権宣言の起草にも関わった **1** で、その上にのしかかる洋梨が国王 **2** を象徴している。**1** は1830年の七月革命でもパリ市民の指導的役割を果たしたが、結局 **2** に抱き込まれて、共和政実現への道は閉ざされた。この風刺画は、七月王政初期の両者の関係をうまく描いている。

[図版 B] 図版 B は、大量の (a) 鉄とガラスを使用して建築された「水晶宮」であり、1851年のロンドン万国博覧会の会場となっていた。この万博の背景には **3** のもとで繁栄する (b) 大英帝国の圧倒的な経済力が存在し、(c) 整備された鉄道網によって約600万人の入場者を集めた。ロンドン万博の成功は他国を刺激し、パリ(1867)・ウィーン(1873)・(d) フィラデルフィア(1876) など大規模な万博の開催が続いた。これらの万博には日本の物品も出品されて、(e) ジャポニスム を生む1つの契機となった。

[図版 C] 図版 C はドーミエの風刺画で、横たわった鷲が (f) フランス第二帝政の崩壊 を象徴している。鷲の上に乗っているのは **4** の詩集『懲罰』である。『レ=ミゼラブル』などの作品で知られる **4** は、帝政を行うナポレオン3世を鋭く批判してフランスを追放されたが、海外でこの詩集を発表し皇帝の没落を予言していた。

問1 文中の空欄に適する人名を答えよ。**3**には当時のイギリス国王を答えること。

問2 下線部(a)(c)に関して述べた以下の文のうち、正しいものを一つ選び番号で答えよ。

ダービー父子がコークス製鉄法を発明したことで、木炭を利用した製鉄が可能になった。

18、19世紀のイギリスで最も代表的な製鉄都市はマンチェスターであった。

ワットの改良した蒸気機関は鉄道の発達にも大きく貢献した。

イギリス最初の鉄道はロンドン-バーミンガム間に開通した。

問3 下線部(b)に関して述べた以下の文のうち、正しいものを一つ選び番号で答えよ。

アヘン戦争で開放された中国市場は19世紀末まで、イギリス東インド会社によって独占された。

イギリスでは抜きん出た経済力を背景に自由貿易政策が展開され、19世紀半ばには航海法が廃止された。

イギリスが農業国から工業国に転換する19世紀半ば穀物法が制定され、労働者の買う穀物の価格が低下した。

産業資本家に雇用される労働者の発言権も強まり、第1回選挙法改正でそのほとんどが選挙権を得た。

問4 下線部(d)はアメリカ独立100周年を記念する万博であった。この100年間に起こったアメリカに関する戦争について述べた以下の文のうち、正しいものを一つ選び番号で答えよ。

フランクリンの尽力によりフランスを中心とする武装中立同盟が成立し、独立戦争でアメリカ側を優位に導いた。

米英戦争(1812年戦争)の直後から、アメリカの綿工業・鉄鋼業はイギリスを圧倒するようになった。

メキシコとの戦争(1846~48)でアメリカはカリフォルニアなどを獲得し、太平洋岸まで領土を拡大した。

南北戦争中にリンカン大統領が発した奴隷解放宣言は、ヨーロッパ諸国による大規模な干渉を招いた。

問5 下線部(e)は印象派の芸術家に大きな影響を与えた。後期印象派を代表する人物で日本の浮世絵の影響を受けたと言われ、「ひまわり」などの強烈な色彩の作品を描いたオランダの画家(フランスに居住)は誰か。

問6 下線部(f)の原因の1つは、メキシコ出兵の失敗や普仏戦争の敗北によるナポレオン3世の威信低下にある。普仏戦争に乗じてイタリアはある地域を併合し、統一をほぼ完成させた。「ある地域」とはどこか、次から一つ選び番号で答えよ。

ローマ教皇領 サルディニア ヴェネツィア トリエステ

問7 下線部(f)の翌年、ドイツとの講和に反対する民衆が蜂起し、史上最初の労働者・市民による自治政府が成立した。これを何というか、答えよ。

[5]中国に関する次の文章を読み、下の設問に答えよ。

秦の始皇帝は中国を統一すると、貨幣・度量衡の統一や(a)思想統制などを行い中央集権化をはかった。しかし急激な改革や厳しい政治のため、始皇帝の死後、(ア)の乱を皮切りに各地で反乱が起こって秦は滅んだ。秦の滅亡後、(b)漢が中国を再統一し、前2世紀の(c)武帝の時代に最盛期を迎えたが、その後は衰退し、外戚の王莽に国を奪われた。しかし王莽の政治は社会の実情を無視していたため、(イ)の乱などが起こり、この混乱をおさめた劉秀が漢を復興した。

問1 下線部(a)に関連して、諸子百家について述べた文として正しいものを次の中から一つ選び番号で答えよ。

- 孔子に代表される儒家は、無差別の愛である仁を政治の基礎とし、戦争を否定した。
- 老子・荘子に代表される道家は、天体の運行と人間生活が密接に関係していることを説いた。
- 蘇秦・張儀らに代表される縦横家は、諸国の為政者に仕えて、合従連衡の策を説いた。
- 商鞅・韓非らに代表される法家は、自我を捨て無為自然に行動することを説いた。

問2 文中の空欄(ア)・(イ)に適する語句の組合せとして、正しいものを次の中から一つ選び番号で答えよ。

- (ア)陳勝・呉広 - (イ)黄巾 (ア)陳勝・呉広 - (イ)赤眉
- (ア)黄巢 - (イ)黄巾 (ア)黄巢 - (イ)赤眉

問3 下線部(b)の王朝の、建国当初の統治体制を説明している文として正しいものを、次の中から一つ選び番号で答えよ。

- 主要な国事はすべて神意を占い、それに基づいて政治が行われた。
- 一族・功臣などに封土を与えて世襲させ、貢納と軍事の義務を負わせた。
- 全国をいくつかの郡に分け、中央から官僚を派遣して直轄統治した。
- 一部の地域には諸侯を封じ、他の地域は中央から官僚を派遣して治めた。

問4 下線部(c)の皇帝について述べた文として、正しいものを次の中から一つ選び番号で答えよ。

- 西域諸国と貿易するため、張騫を西方へ派遣した。 南越を滅ぼし、ヴェトナム全土とカンボジアを支配した。
- 董仲舒の建議により、儒教を官学とした。 均輸・平準法や減税により、民生の安定をはかった。

中国では三国時代から隋の統一までの時期を、(d)魏晉南北朝時代と呼ぶ。この時期、江南では貴族文化が発達し、(e)仏教もさかんであった。その後、隋の短い統一期に続き、唐が中国を支配した。唐は2代太宗の時に(f)諸制度を整備し、それは(g)周辺諸民族にも大きな影響を与えた。また、(h)外国の影響を受けて文化は国際的なものとなった。

問5 下線部(d)の時代の文化について述べた文として、正しいものを次の中から一つ選び番号で答えよ。

- 知識人の間で、自由奔放な論議をする清談の風が広まった。 詩では陶淵明があらわれ、『文選』を編集した。
- 書では欧陽詢が出て、書道を芸術として高めた。 北魏の寇謙之が道教を大成し、苦行により救済されると説いた。

問6 下線部(e)について、北魏時代に造営された竜門の石窟の位置を、地図Aの

～ から一つ選び番号で答えよ。

地図A

問7 下線部(f)について、唐の制度に関して述べた文として、正しいものを次の中から一つ選び番号で答えよ。

- 均田制を採用し、建国当初は成年男女・奴婢・耕牛に口分田を支給した。
- 西魏以来の府兵制を採用したが、やがて募兵制に切り替えられた。
- 中央では三省六部が整備され、門下省が六部を統括した。
- 8世紀後半から兩税法を採用し、支給された口分田の面積に応じて課税した。

問8 下線部(g)について、8世紀に地図Aの斜線部Xに存在し、唐や日本と通交した国の名を次の中から一つ選び、番号で答えよ。

- 渤海 新羅 吐蕃 南詔

問9 下線部(g)について、唐の周辺にはトルコ系の民族もいた。東トルキスタンと呼ばれる地域を、地図Bの斜線部～ から一つ選び番号で答えよ。

問10 下線部(h)について、当時インドとの間を仏僧が盛んに往来した。唐僧の玄奘がインドへ赴いた時期のインドの王朝に関する説明として正しいものを、次の中から一つ選び番号で答えよ。

- 初めてインドの大部分を統一した王朝が存在し、各地に石柱碑や磨崖碑などが作られた。
- アフガニスタンから北インドまでを支配する王朝が存在し、ギリシア風の仏教彫刻を制作するようになった。
- ヒンドゥー教を信奉する王朝が北インドに存在し、サンスクリット文学が栄え、ナーランダー僧院が創建された。
- 北インドに統一王朝が存在したが、初代の王の死後、急速に崩壊して地方政権が乱立した。

地図B



[6] 次の文章を読み、下線部に関する設問に答えよ。

2008年に(a)中華人民共和国の首都、北京でアジアでは三度目のオリンピックが開催される。北京は戦国時代に燕の都が置かれたことがあり、その後も(b)燕雲十六州に含まれているなど、当時から北方へ向けての経済・軍事的に重要な地域であった。そして(c)北方警備の要衝であった、この地に歴代王朝が本格的な首都を設置するのは12世紀の(d)金以降のことである。モンゴルの(e)フビライがカラコルムから遷都して、国号を元と改めてからはさらなる大都市へ発達、(f)元代には諸外国から多くの人々がここを訪れ、国際都市として栄えた。(g)15世紀初めに明の首都がここに遷されて、初めて北京と呼ばれるようになった。清も(h)明滅亡の原因となった反乱に乗じて北京を陥落させ、首都として以来、(i)清の政治・経済・文化の中心としても繁栄を続けた。しかし清朝末期には、北京は(j)対外戦争や対外条約締結の場として欧米列強の干渉・介入を受けるようになった。

問1 下線部(a)建国の中心となり国家主席を務めた人物を次の中から一つ選び番号で答えよ。

毛沢東 蔣介石 周恩来 鄧小平

問2 下線部(b)を得た国名を次の中から一つ選び番号で答えよ。

北魏 遼 西夏 宋

問3 下線部(c)のため造られた右の写真の建造物は北京郊外に現存している。これを建造した王朝名を次の中から一つ選び番号で答えよ。

遼 元 明 清

問4 下線部(d)は女真人による征服王朝であったが、次の中から同じ女真人による征服王朝の一つを選び番号で答えよ。

北魏 遼 西夏 清

問5 下線部(e)の時代の出来事として適当でないものを次の中から一つ選び番号で答えよ。

チベット文字を原型としたパスパ文字が、公用文字として制定された。

日本に対する二度の侵攻には失敗したが、その間に南宋を滅亡させ中国を統一した。

ヨーロッパ遠征では、ワールシュタットの戦いでドイツ・ポーランド連合軍を撃破した。

イスラム暦の影響を受けて、郭守敬は精密な天文観測をもとにした授時暦を作成した。

問6 下線部(f)の中には、その繁栄の様子を旅行記に著したものも多い。その中で『三大陸周遊記』の著者名を次から選び番号で答えよ。

マルコ=ポーロ プラノ=カルピニ モンテ=コルヴィノ イブン=バトゥータ

問7 下線部(g)以前に明が首都を置いていた都市の位置を右の地図の中から一つ選び番号で答えよ。

問8 下線部(h)の明王朝滅亡の原因となった反乱名を次の中から一つ選び番号で答えよ。

紅巾の乱 安史の乱 李自成の乱 白蓮教徒の乱

問9 下線部(i)について、清朝時代の特色について正しいものを次の中から一つ選び番号で答えよ。

中央官庁の要職定員に漢民族と支配民族併用制を導入する一方、文字の獄や禁書令で漢民族への思想統制も行った。

支配民族第一主義による民族差別政策を採用したが、交鈔濫発は銀の準備不足も手伝い、経済を混乱させた。

メキシコ銀や日本銀の流入による銀の流通拡大で、田賦と徭役を一括して銀納させる一条鞭法が実施された。

支配民族に対しては猛安・謀克と称する部族制、漢民族に対しては州県制の二重統治を実施した。

問10 右の写真の廃墟は下線部(j)の例として、英仏連合軍によって略奪・破壊された北京市郊外にある清朝の円明園である。この離宮に関することで正しいものを次の中から一つ選び番号で答えよ。

フランスのサン=スーシー宮殿を模範にして宮殿や庭園は造営された。

イタリア人のイエズス会宣教師カスティリオーネによって設計された。

ロココ様式建築の洋館や庭園の壮麗さは、廃墟からもうかがい知れる。

設計者は他に中国最初の科学的世界地図「坤輿万国全図」を作成した。

写真

地図

写真

[7] 次のイスラム世界に関する設問に答えよ。

問1 イスラム教に関して、誤りを含む文を次の中から一つ選び番号で答えよ。

イスラム教はメッカに生まれたアラブ人のムハンマドがおこした宗教である。

イスラム教はアッラーに絶対的な服従を求める宗教で、ユダヤ教やキリスト教の影響を受けていない。

イスラム教の経典は『コーラン』で、ムハンマドが神から受けた啓示がアラビア語で示されている。

メッカに向けての礼拝は、信仰告白、喜捨、断食、カーバ神殿への巡礼と並びムスリムの義務の一つである。

問2 ムハンマドはメッカの大商人による迫害を受け、622年に少数の信者をひきいてメディナに移住した。この出来事を何というか、正しいものを一つ選び番号で答えよ。

ジハード

ウンマ

ヒジュラ

イクター

問3 イスラム世界の拡大に関して、誤りを含む文を次の中から一つ選び番号で答えよ。

メッカを征服したムハンマドは、やがてアラビア半島のほぼ全域を支配下においた。

正統カリフの時代に、アラブ人はビザンツ帝国よりシリア・エジプトを奪い、ササン朝ペルシアを滅ぼした。

ウマイヤ朝のもとでも征服活動が続けられ、西方では北アフリカやバルカン半島を征服した。

アッバース朝は中央アジアのタラス河畔で唐の軍隊を破り、この時唐軍の捕虜から製紙法が伝わった。

問4 アッバース朝に関して、誤りを含む文を次の中から一つ選び番号で答えよ。

イスラム教に改宗すればアラブ人でなくてもハラージュが免除された。

ティグリス川のほとりに新都バクダードが建設された。

カリフのハールーン=アッラシードの時代に最盛期を迎えた。

ギリシア語の古典がさかんにアラビア語に翻訳され、学問が発達した。

問5 10世紀半ばのイスラム世界に関して、正しい文を次の中から一つ選び番号で答えよ。

イベリア半島では後ウマイヤ朝が都グラナダを中心に栄えていた。

エジプトは、都カイロを建設したスンナ派のファーティマ朝が支配していた。

アッバース朝は、イラン系の軍事政権であるブワイフ朝にバクダードを占領され、政治の実権を奪われた。

トルコ系のサーマン朝が、イラン東部から中央アジアを支配していた。

問6 次の文章の空欄にあてはまる語句の組み合わせとして正しいものを一つ選び番号で答えよ。

北アフリカ西部では、11世紀半ばに先住民であるベルベル人の間にスンナ派の宗教運動が起こり、モロッコのマラケシュを首都として(1)が成立した。この王朝は西アフリカの黒人王国(2)を滅ぼし、サハラ砂漠以南のイスラム化への道を開いた。

1 - アイユーブ朝

2 - マリ王国

1 - アイユーブ朝

2 - ガーナ王国

1 - ムラービト朝

2 - マリ王国

1 - ムラービト朝

2 - ガーナ王国

問7 次の文章の中から誤りを含むものを一つ選び番号で答えよ。

13世紀半ば、モンゴル軍はバクダードを占領してアッバース朝を滅ぼした。

フラグは、イランを中心とする西アジアを領有してイル=ハン国をひらいた。

マムルーク朝は、シリアに侵入したモンゴル軍に敗れた。

イル=ハン国は、ガザン=ハンの時にイスラム教を国教とした。

問8 イスラム文化に関して、誤っているものを次の中から一つ選び番号で答えよ。

イブン=シーナーは『医学典範』を著した。

フワーリズミーは『世界史序説』を著した。

オマル=ハイヤームはペルシア語の詩を書いた。

イブン=ルシュドはアリストテレスの研究を行った。

問9 サファヴィー朝に関して、誤りを含む文を次の中から一つ選び番号で答えよ。

この王朝は、イランに成立したスンナ派の王朝である。

この王朝は伝統的なシャーの称号を用いた。

この王朝は、アッバース1世の時に新都を建設し、最盛期をむかえた。

この王朝は、オスマン帝国と領土をめぐって抗争した。

問10 ムガル帝国に関して、誤りを含む文を次の中から一つ選び番号で答えよ。

この国はティムールの子孫バーブルがデリーに開いた国である。

アクバル帝はヒンドゥー教徒とイスラム教徒の融和をはかった。

シャー=ジャハン帝は愛妃のためにタージ=マハルを建てた。

アウラングゼーブ帝が人頭税を復活したため、デカン高原のシク教徒が反乱をおこした。

[8] 19世紀から20世紀初めにかけての世界について述べた次の文章を読み、設問に答えよ。

19世紀から20世紀初めにかけて、(a)インド、(b)東南アジア、西アジア、(c)アフリカのほとんどが欧米列強の植民地となり、(d)中国やオスマン帝国といった国々も半植民地の状況におかれた。

しかし、こうした(e)欧米列強による植民地化は同時に、アジア、アフリカの各地で民族運動が高まるきっかけともなった。インドでは19世紀後半、商人・地主・知識人を中心にイギリスに協調的な組織である[A]が政府によりつくられていたが、この[A]がその後のインドの民族運動の中心となっていく。東南アジアでも民族運動が高まりをみせるが、ヴェトナムのファン=ボイ=チャウらを中心とする日本への留学をよびかける[B]運動もその一つのあらわれと思われる。また、カージャール朝の支配下にあった西アジアの[C]でも、タバコ-ボイコット運動や立憲革命などの運動がおこっている。そして(f)中国では、日露戦争後の1905年に孫文が東京で[D]を結成し、この組織がのちの辛亥革命の中心的存在となっていく。

問1 [A]～[D]に適する語句を答えよ。ただし[C]には国名が入る。

問2 下線部(a)について、イギリスがインドで最初に支配下においた地域を次の中から一つ選び番号で答えよ。

パンジャーブ ベンガル デカン高原 ネパール

問3 下線部(b)について、植民地(保護国)となった地域と植民地(保護国)とした欧米列強の組合せとして誤っているものを、次の中から一つ選び番号で答えよ。

ジャワ ----- オランダ シンガポール ----- イギリス

ヴェトナム ----- フランス ビルマ ----- フランス

問4 下線部(c)について、植民地(保護国)となった地域と植民地(保護国)とした欧米列強の組合せとして正しいものを、次の中から一つ選び番号で答えよ。

エジプト ----- ドイツ モロッコ ----- イタリア

アルジェリア ----- フランス エチオピア ----- イギリス

問5 下線部(d)について、欧米列強による中国(清)の半植民地化の過程について述べた次の文のうち、正しいものを一つ選び番号で答えよ。

アヘン戦争ののちも、イギリスはアヘン貿易をつづけた。

ロシアはアロー戦争中のアイグン条約で、沿海州を獲得した。

英仏両国はアロー戦争後の北京条約で、軍隊を北京に駐留させる権利を獲得した。

フランスは清仏戦争後の天津条約で、遼東半島や台湾などを獲得した。

問6 下線部(e)について、19世紀から20世紀初めにかけての欧米列強について述べた次の文のうち、正しいものを一つ選び番号で答えよ。

19世紀なかば「世界の工場」とよばれたイギリスは、第一次世界大戦に至るまで世界一の工業国であった。

ドイツはドイツ帝国成立後、首相ビスマルクのもとで積極的な海外進出政策をとり、次第にイギリスと対立した。

フランスは世界有数の植民地を獲得するとともに、ロシアなどに積極的な国外投資をして利益をあげた。

アメリカ合衆国は第一次世界大戦以前には、太平洋・アジア地域に植民地をもたなかった。

問7 下線部(f)の民族運動について述べた次の文のうち、正しいものを一つ選び番号で答えよ。

洪秀全がたてた太平天国は土地の均分や男女の平等、辮髪(べんぱつ)廃止などをかけ、地主や農民の支持を集めた。

康有為らは、西洋の軍事技術などの導入により従来の政治体制を守ろうとする変法運動をすすめるが失敗した。

義和団は「滅満興漢」をスローガンに排外運動を展開したが、日本など列強8か国の連合軍に敗北した。

孫文を臨時大総統とする中華民国の建国をみた袁世凱は、革命政府と交渉し宣統帝を退位させた。

[9]第一次世界大戦以降のアメリカを中心とした世界について、次の文を読み設問に答えよ。

第一次世界大戦には遅れて参戦したアメリカ合衆国だが、その参戦によって戦況は連合国側に傾いた。時の大統領ウィルソンは理想主義に燃え、(a)十四カ条の平和原則を発表し、戦後のパリ講和会議でもそれに基づいた主張をしたが、イギリス、フランスの現実的主張に押し切られた。しかも大戦終了と共にアメリカ国内での孤立主義の動きが強まり、ウィルソンはアメリカを自らが設立を主導した国際連盟に加盟させることができなかった。

1920年の大統領選挙では、「(ア)」を掲げた共和党のハーディングが勝利し、以後、3代にわたって孤立主義的な共和党の大統領が続く。だが、(b)経済的な繁栄を謳歌する中でも、(c)アメリカ社会の中核がワスプ(WASP)であることにはかわらず、民族差別はかえって露骨になり、この時期に排日条項を含む移民法が定められた。

しかし、アメリカは既に世界の政治経済に重きをなしていた。フランス・(イ)がルール地方を占領したことによる政情不安に対し、アメリカが賠償緩和案をまとめたのは、ドイツからの賠償金がイギリス・フランスのアメリカに対する負債の償還にあてられていたからである。

1921年には軍縮においても積極的な行動を取り、ワシントン会議が開かれた。また、国務長官(あ)はフランスのブリアンと共に不戦条約をまとめた。さらに、1929年にはアメリカの財政家(い)が中心となって、新しい賠償支払い計画をまとめた。こうしてアメリカは国際的に、特に経済面で重きをなした。そのため、同年の(d)ウォール街の株式市場における株式暴落で世界経済の安定は破壊され、それは第二次世界大戦の端緒となった。そして、(e)フランクリン=ローズヴェルトのもとで、革新的な経済政策と、戦争参加が遂行される。

問1 (ア)にあてはまるスローガンを次の中から一つ選び番号で答えよ。

永遠の繁栄 勝利なき平和 平常への復帰 無賠償・無併合・民族自決

問2 (イ)にあてはまる国の名を次の中から一つ選び番号で答えよ。

ベルギー オランダ ルクセンブルク ポーランド

問3 (あ)と(い)にはいる適切な人名の組み合わせを次の中から一つ選び番号で答えよ。

(あ)ケロッグ - (い)ヤング (あ)クーリッジ - (い)ケロッグ

(あ)ヤング - (い)フーヴァー (あ)フーヴァー - (い)クーリッジ

問4 下線部(a)の原則に入っていないものを、次の中から一つ選び番号で答えよ。

秘密外交の廃止 軍備縮小 民族自決 主要産業の国有化

問5 下線部(b)の象徴である自動車産業では、量産方式を成功させた人物が、1920年代に自動車を普及させた。この人物を次の中から選び番号で答えよ。

ライト兄弟 ダ임ラー フォード エジソン

問6 下線部(c)のワスプ(WASP)と呼ばれた人々の宗教を、次の中から一つ選び番号で答えよ。

カトリック プロテスタント ギリシャ正教 ユダヤ教

問7 下線部(d)が設置されている都市を、次の中から一つ選び番号で答えよ。

ワシントン ニューヨーク ロサンゼルス サンフランシスコ

問8 下線部(e)の大統領の政策として正しいものを、次の中から一つ選び番号で答えよ。

国際連盟参加 ソビエト連邦の承認 中国共産党への軍事援助 ポツダム会談参加

問9 1944年、ヨーロッパに第二戦線を作るため、後にアメリカ合衆国大統領となったアイゼンハウアーの指揮のもと、連合軍はノルマンディー上陸作戦を敢行した。ノルマンディーはどここの国の地方か。次の中から選び番号で答えよ。

ドイツ オランダ スペイン フランス

問10 第二次世界大戦末期に、原子爆弾の使用を決断したアメリカ大統領は誰か。次の中から選び番号で答えよ。

マッキンレー マッカーサー ケネディ トルーマン

[10]トルコ民族に関する次の文章を読み、設問に答えよ。

トルコといえば、われわれは西アジアのアナトリアを中心としたトルコ共和国のことを思い浮べるが、(ア)語族に属するトルコ民族の最初の居住地はモンゴル高原周辺であった。紀元前3世紀頃に丁零(ていれい)という遊牧民族が匈奴の北方にいたと中国の史書に記載されている。これがトルコ民族に関する最古の記述である。6世紀中頃になると(a)突厥がモンゴル高原からカスピ海までを勢力下においた大遊牧国家を形成した。8世紀中頃には、かつて突厥に服属していた(b)ウイグルが強大な国を築き、安史の乱では唐の要請に応じて援軍を派遣している。その後ウイグル国は、9世紀中頃に南シベリアのトルコ系のキルギスによって滅ぼされている。

10世紀中頃に成立した(イ)朝は、東・西トルキスタンを統一し、中央アジアに初めてイスラーム文化を導入したトルコ系王朝である。また10世紀後半アフガニスタンにおこった(ウ)朝は、11世紀初期から北インドへの侵入を始め、インドのイスラーム化の端緒となった。トルコ系のセルジューク族を率いたトゥグリル=ベクは、1055年にバグダードに入城している。セルジューク朝がビザンツ帝国を圧迫したことが、ヨーロッパからの十字軍の原因となったが、セルジューク朝自体は12世紀半ばにいくつかの地方政権に分裂してしまう。その一つの(c)ルーム=セルジューク朝が、アナトリア(小アジア)のトルコ化・イスラーム化を進めていった。

問1 空欄(ア)に入る適切な語句を、次の中から一つ選び番号で答えよ。

アルタイ セム インド=ヨーロッパ シナ=チベット

問2 下線部(a)に関して、次の文の中で正しいものを一つ選び番号で答えよ。

突厥は、はじめ鮮卑に服属していたが、6世紀中頃に勢力をたくわえて鮮卑を滅ぼした。

6世紀後半に、突厥は、ササン朝のホスロー1世と協力してエフタルを滅ぼした。

6世紀末に内紛によって突厥は東西に分裂し、東突厥は隋の羈縻政策の下に入った。

チベット文字に由来する突厥文字は、内陸アジア遊牧民が使用した最初の文字である。

問3 下線部(b)に関して、イスラーム化する前のウイグル族が信じていた宗教を、次の中から一つ選び番号で答えよ。

景教(ネストリウス派キリスト教) 大乘仏教 祆教(ゾロアスター教) マニ教

問4 空欄(イ)と(ウ)に入る王朝の組合せとして正しいものを、次の中から一つ選び番号で答えよ。

(イ)カラ=ハン - (ウ)ゴール (イ)カラ=ハン - (ウ)ガズナ

(イ)カラ=キタイ - (ウ)ゴール (イ)カラ=キタイ - (ウ)ガズナ

問5 下線部(c)に関して、トルコ民族の小アジア征服の契機となった1071年のビザンツ帝国との戦いは何か、次の中から正しいものを一つ選び番号で答えよ。

マンジケルトの戦い アンカラの戦い ニコポリスの戦い ニハーヴァンドの戦い

13世紀末に小アジア西北部で建国されたオスマン帝国は、やがてバルカン半島に進出し、1453年ついにビザンツ帝国を滅ぼして、イスタンブルを都として定めた。オスマン帝国の最盛期のスルタンが(d)スレイマン1世であり、当時のヨーロッパでは「トルコは、世界の脅威」という言葉が交されていた。

1571年のレパントの海戦での敗北がオスマン帝国衰退の大きな契機と言われることがあるが、実際に帝国の勢力に陰りがみられるのは、1683年の第二次ウィーン包囲の失敗と、1699年に結ばれた(エ)以後である。

18世紀末より、ヨーロッパ諸国の攻勢と帝国内の諸民族の離反に対応するため改革が試みられるようになる。(e)タンジマートもその一環であったが、途中で挫折してしまった。ナショナリズムの高まるなか、アブデュル=ハミト2世はパン=イスラーム主義によって帝国を存続させようとした。しかし西欧式の教育を受けた官僚・将校・知識人たちは、スルタンの専制政治に反対して、(f)「青年トルコ」を結成すると、1908年の革命で立憲王制の樹立に成功した。

第一次世界大戦で、トルコは同盟国側について敗北した。そして国土の大幅な縮小などの亡国の危機に対処できない弱体な政府を(g)ムスタファ=ケマルが批判した。彼は、アンカラでトルコ大国民議会を召集し、イスタンブルの政府と戦いをはじめた。さらに国民の広い支持を集め共和国の建国を宣言するとともに、大胆な改革(近代化政策)を続行していった。こうして現在のトルコ共和国の基礎が作られたのである。

問6 下線部(d)に関して、スレイマン1世の説明として誤りを含むものを、次の中から一つ選び番号で答えよ。

プレヴェザの海戦で、スペイン・ヴェネツィアなどの連合艦隊を破り、地中海の制海権を掌握した。

成功はしなかったが、第1次ウィーン包囲を実行し、神聖ローマ皇帝カール5世を大いに苦しめた。

マムルーク朝を滅ぼしてエジプトを支配すると同時に、メッカとメディナの保護権を獲得した。

治外法権などをふくむカピチュレーションを、外国人への「恩恵」としてフランス国王に与えた。

問7 空欄(エ)に関して、この条約によって、オーストリアはハンガリーを獲得した。何という条約か、次の中から一つ選び番号で答えよ。

トルコ=マンチャーイ条約 カルロヴィッツ条約 サン=ステファノ条約 ローザンヌ条約

問8 下線部(e)に関して、タンジマートの始まりとされる出来事を、次の中から一つ選び番号で答えよ。

マフムト2世によるイエニチェリの全廃 ムハンマド=アリーによるワッハーブ王国征服

ミドハト=パシャによるミドハト憲法の制定 アブデュルメジト1世によるギュルハネ勅令の発布

問9 下線部(f)に関して、いわゆる青年トルコ革命に乗じて、オーストリアが正式に併合した地域はどこか、次の中から一つ選び番号で答えよ。

ボスニア=ヘルツェゴヴィナ クロアチア アルバニア モンテネグロ

問10 下線部(g)に関して、ムスタファ=ケマルの業績としてまちがっているものを、次の中から一つ選び番号で答えよ。

イズミル(スミルナ)を回復した。 スルタン制を廃止した。

ゼーヴル条約に調印した。 女性参政権を認めた。