

1 富美子さんと壮一君は課題研究で地元の古墳を紹介することになり、その発表準備をしています。以下に示したのは発表で使用するスライドとナレーションの原稿です。以下の設問にそれぞれ答えよ。

堺市に広がる百舌鳥古墳群と、藤井寺市・羽曳野市に広がる古市古墳群が世界文化遺産に登録されたことは皆さんもご存じと思いますが、私たちの住む三島にも著名な古墳があることを知っていますか。

まず、茨木市の紫金山古墳を紹介します。墳丘長約 110m の前方後円墳です。戦後まもない時期に発掘調査され、[ A ] が確認されました、スライド 1 はその内部を写した写真です。平らな石を丹念に積み上げて壁を造っているのが見えるのでしょうか。[ A ] の中からは三角縁神獣鏡や（ア）などの副葬品が見つかり、前期古墳として全国的にも有名です。また、今から 20 年ほど前には墳丘の斜面が発掘され、(a) 円筒埴輪が確認されました。

<スライド 1>



問 1 空欄 [A] にあてはまる語句を漢字 5 文字で答えよ。

問 2 空欄 (ア) にあてはまる語句として正しいものを、次のうちから 1 つ選び番号で答えよ。

- ① 石包丁                      ② 馬具  
③ 碧玉製腕飾り          ④ 木簡

問 3 文中の下線部 (a) に関して、円筒埴輪のルーツは弥生時代の墳丘墓に用いられた特殊器台という土器であると考えられている。特殊器台は主にどの地域で用いられたか。正しいものを、次のうちから 1 つ選び番号で答えよ。


- ① 筑紫      ② 吉備      ③ 畿内      ④ 毛野

(『大阪府の主要古墳 紫金山古墳』大阪府立近つ飛鳥博物館図録 29 (2003 年))

<スライド 2> 『百舌鳥・古市 門前 古墳航空写真コレクション』大阪府立近つ飛鳥博物館図録 18 (1999 年)



続いて、茨木市の太田茶臼山古墳おおだちやうすやまを紹介します。この古墳は現在、宮内庁によって継体天皇陵に指定されています。スライド 2 は古墳の全景、スライド 3 は宮内庁が作成した測量図です。墳丘長は約 226m あり、旧・摂津国で最大の前方後円墳です。(イ) や、後円部と前方部が接しているところに「造り出し」と呼ばれる出っ張りのあることが分かるのでしょうか。これらは中期古墳の特徴です。陵墓に指定されているため発掘調査はされていませんが、他の中期古墳の例から類推して、内部に



ながもちがたは長持形石棺を収めた [ A ] があって、(b) 鉄製の武具や武器が副葬されていると思われます。(c) 長持形石棺は中期古墳にさかんに用いられた棺ですが、馴染みがないと思いますので、スライド 4 でお見せします。これは近つ飛鳥博物館で展示されている長持形石棺で、高槻市の前塚古墳から出土したものです。

<スライド 3> (末永雅雄『古墳の航空大観』学生社 (1975 年))

<スライド4>



問4 空欄(イ)にあてはまる文として正しいものの組み合わせを、次のうちから1つ選び番号で答えよ。

- I 後円部の直径と前方部の幅がほぼ等しいこと
- II 後円部の直径が前方部の幅よりも大きいこと
- III 後円部と前方部の高さがほぼ等しいこと
- IV 後円部に比べて前方部が低いこと

- ① I・III    ② I・IV    ③ II・III    ④ II・IV

問5 文中の下線部(b)に関して、鉄製の武具の名称として正しいものを、次のうちから1つ選び番号で答えよ。

- ① 鉄刀    ② 鉄鏃    ③ 鉄剣    ④ 甲冑

問6 文中の下線部(c)に関して、長持形石棺が収められた古墳として正しいものを、次のうちから1つ選び番号で答えよ。

- ① 高松塚古墳    ② 藤ノ木古墳    ③ 大仙陵古墳    ④ 黒塚古墳

次に高槻市の<sup>いましろづか</sup>今城塚古墳を紹介します。この古墳は陵墓に指定されていないので高槻市が10年間にわたって継続的に発掘調査を続け、多くの成果が得られました。スライド5は史跡公園として整備された今の様子です。遊びに行ったことがある人もいるのではないのでしょうか。出土した埴輪の特徴や古墳の形などから後期の前方後円墳であることが分かっています。墳丘長約190mという規模は(ウ)前半に限れば全国最大で、研究者の多くはこの古墳が真の継体天皇陵だと考えています。スライド6は家形埴輪で、高さが170cmもあります。棟の上に並んでいる丸太のような飾りは<sup>かつおぎ</sup>鰹木、屋根の両端についている十字形の飾りは<sup>ちぎ</sup>千木と呼ばれ、どちらも三重県にある(エ)の社殿にも見られるものです。この家形埴輪は神殿を表しているのでしょうか、それとも大王の宮殿を表しているのでしょうか。

<スライド5>



<スライド6>



問7 空欄(ウ)にあてはまる語句として正しいものを、次のうちから1つ選び番号で答えよ。

- ① 3世紀 ② 4世紀 ③ 5世紀 ④ 6世紀 ⑤ 7世紀


問8 空欄(エ)にあてはまる語句として正しいものを、次のうちから1つ選び番号で答えよ。

- ① 宇佐八幡宮 ② 伊勢神宮 ③ 石上神宮 ④ 石清水八幡宮

最後に、茨木市の<sup>みみはら</sup>耳原古墳を紹介します。今城塚古墳と同じく後期の古墳ですが、こちらは前方後円墳ではありません。直径が30mぐらいの円墳だと考えられています。スライド7は石室の内部を写した写真です。奥のほうが広がっているのが分かりますか。奥の広いところが[ B ]、そこへ通じる手前のところが羨道です。[ B ]の中に箱のような形をした石が写っていますが、あれは家形石棺です。発掘調査が実施されていないので副葬品については分かっていませんが、他の後期古墳の例から類推して、将来、発掘すれば(オ)はまず確実に出てくるでしょうし、馬具や金銅製の冠なども見つかるかもしれません。

私たちの身近な地元で祖先の生きた証がたくさん残されていることを実感してもらえたでしょうか、以上で発表を終わります。

<スライド7>



問9 空欄[B]にあてはまる語句を漢字2文字で答えよ。

問10 空欄(オ)にあてはまる語句として正しいものを、次のうちから1つ選び番号で答えよ。

- ① 須恵器 ② 銅鐸  
③ <sup>へきぎよく</sup>碧玉製腕飾り ④ 土偶

2 次の遣唐使に関わるⅠ～Ⅲの文または会話文を読み、下記の問題に答えなさい。

Ⅰ

(a) 中臣(藤原)鎌足の長男である定恵は、遣唐使の第二次の使節(653年)に付いて入唐した。彼は長安に住み、玄奘の弟子の神泰から仏教を学んだとされる。彼は儒教も修め、唐との外交折衝に当たることもあった。

その他、藤原氏では不比等の子で式家の祖である(ア)や、(b) 房前の子である清河などが入唐した。このように藤原氏は、当時の中央貴族の中でも、積極的に唐へ使節や留学生を派遣した。

問1 空欄(ア)に入る語句X・Yと、その彼の家系の説明a・bの組合せとして最も適当なものを、下の①～④のうちから1つ選び番号で答えよ。

語句

- X 宇合 Y 武智麻呂

説明

a 妹の葉子とともに、平城太上天皇の復位をはかった。

b 孝謙太上天皇の寵臣であった道鏡を除こうとした。

- ① X-a            ② X-b            ③ Y-a            ④ Y-b

問2 下線部(a)に関して、中臣(藤原)鎌足に関して述べた次の文 X・Y について、その正誤の組合せとして正しいものを、下の①～④のうちから1つ選び番号で答えよ。

X 中臣鎌足は中大兄皇子とともに、大極殿において蘇我入鹿を殺害した。

Y 改新政府において、中臣鎌足は右大臣となった。

- ① X-正 Y-正      ② X-正 Y-誤      ③ X-誤 Y-正      ④ X-誤 Y-誤

問3 下線部(b)に関して、以下の史料1は、彼の名が記されている史料である。この史料にある和上の功績 X・Y と、この史料から読み取れる内容 a・b の組合せとして最も適当なものを、下の①～④のうちから1つ選び番号で答えよ。

史料1 (『唐大和上東征伝』)

… (略) … 天宝十二載(753)歳次癸巳十月十五日壬午、日本国大使特進藤原朝臣清河(三人略)等、来りて延光寺に至り、和上もうに白して曰く、「弟子、早や和上の五徧海を渡りて日本国に向ひ、もつ將て教を伝へむるとするを知る。今親しく顔色したを奉みたまつり、頂礼して歡喜せり。… (略) …願わくは和上みずか、自ら方便なを作さむことを。… (略) …」と。… (略) …十一月十日丁未夜、(注1) 大伴副使 ひそか竊に和上及び衆僧を招き、己の舟に納れ、い惣て知らしめず。… (略) …十五日壬子、四舟同じく発つ。… (略) …廿一日戊午、第一・第二両舟、同じく(注2) 阿児奈波嶋に至る。嶋は(注3) 多禰嶋の南西に在り、第三舟は昨夜既に同処に泊す。

(注1)遣唐副使大伴古麻呂      (注2)沖繩      (注3)種子島

和上の功績

X 諸国を遊行し、京の市で浄土教を説き、民間に布教した。

Y 東大寺に初めて戒壇を設けた。

説明

a 和上に対して、正式な外交使節として扱う約束をした。

b 和上一行は、南西諸島を北上して、日本を目指している。

- ① X-a            ② X-b            ③ Y-a            ④ Y-b

II

(c) 遣隋使、遣唐使が行われている時代に、中国の皇帝の使いとして外交使節が来日した例は、(d) 裴世清の一行(608)、高表仁の一行(632)、孫興進の一行(778)の計3回である。

日本は、唐に対して外交上の名分を争うことを避け、国内では天皇を皇帝と位置付けた。そのため、(e) 律令制の完成後初めて来日した孫興進一行とは、日唐の外交的体面が衝突することもあり得た。

問 4 下線部(c)に関して、中国で隋王朝が存続した期間は 581 年から 618 年である。この期間に日本で起こった出来事として正しいものを、次のうちから 1 つ選び番号で答えよ。

- ① 蘇我馬子が崇峻天皇を暗殺して政治権力を握った。
- ② 皇極天皇の譲位を受けて、孝徳天皇が即位した。
- ③ 百濟復興支援のために、白村江に軍を派遣した。
- ④ 筑紫国造磐井が新羅と結んで戦乱を起こした。

問 5 下線部(d)に関して、裴世清が帰国の際に同行した人物としてあてはまらないものを、次のうちから 1 つ選び番号で答えよ。

- ① 高向玄理    ② 南淵請安    ③ 旻    ④ 玄昉

問 6 下線部(e)に関して、日本の律令制に関して述べた次の文 a~d について、最も適当なものの組合せとして正しいものを、下の①~④のうちから 1 つ選び番号で答えよ。

- a 律令の二官とは、神祇祭祀を担当する神祇官と行政全般を管轄する太政官である。
- b 惟宗直本<sup>これむねのなおもと</sup>によって、養老令の私撰注釈書の『令義解』が編纂された。
- c 律令の令は刑法であり、五刑や八虐などの規定がある。
- d 勘解由使は令外官にあたる。

- ① a ・ c                    ② a ・ d                    ③ b ・ c                    ④ b ・ d

### III

A : (f) 遣唐使が、中国に朝貢した品はどのような品があったのでしょうか？

B : 朝貢品の項目は(g) 『延喜式』(大蔵省 賜蕃客例)に見ることができるらしいよ。

そのうち「大唐皇」へ賜わる品が、朝貢品にあたるようで、表 1 に表したので確認してね。

A : 表の項目を 2 つに分けているのは何故ですか？

B : 表の例貢品が定例の朝貢品で、別送品がそれ以外の品と考えられているよ。<sup>あしぎぬ</sup> 絁や真綿などの絹製品は、主として ( イ ) で、朝廷に諸国の産物を納めたものに当たるね。

A : 銀や鉞物資源も輸出していたのですね。

B : 銀は、朝廷が対馬から (イ) として貢納させた品ですよ。唐代の遺跡からは、(h) 和同開珎の銀銭が出土していますね。

A : なるほど、この形で銀を輸出していた可能性があるのですね。

こうしてみると日本の輸出品の中心は、当時の貢納制度で徴収される品が多いですね。

そういえば、日本は唐から何を輸入することになったのでしょうか？

B : やはり当時の社会が求めたものがその中心でしたよ。(ウ) などが帰国する遣唐使からもたらされましたよ。

表1 『延喜式』による朝貢品（新訂増補国史大系『延喜式』による）

例貢品	銀	大	500 両	別送品	綵帛		200 疋
	絁	水織絁	200 疋		綿	疊綿	200 帖
		美濃絁	200 疋			屯綿	200 屯
		細絁	300 疋		布	紵布	30 端
		黄絁	300 疋			望陀布	100 端
		糸	黄絲		500 絢	木綿	100 帖
	綿	細屯綿	1000 屯		出火水精		10 顆
					瑪瑙		10 顆
					出火鉄		10 具
					海石榴油		6 斗
			甘葛汁		6 斗		
			金漆		4 斗		

問7 空欄イとウに入る語句の組合せとして正しいものを、次のうちから1つ選び番号で答えよ。

- ① イ 庸      ウ 景德鎮などで生産された陶磁器
- ② イ 庸      ウ 漢籍と呼ばれる書物や仏教経典
- ③ イ 調      ウ 景德鎮などで生産された陶磁器
- ④ イ 調      ウ 漢籍と呼ばれる書物や仏教経典

問8 下線部(f)に関して、遣唐使としてあてはまらない人物を、次のうちからすべて選び番号で答えよ。

- ① 吉備真備      ② 犬上御田歙      ③ 小野妹子      ④ 高向玄理

問9 下線部(g)に関して、『延喜式』の編纂を命じた天皇の説明として正しくないものを、次のうちから1つ選び番号で答えよ。なお、すべて正しい場合は④と答えよ。

- ① 紀貫之らに勅撰和歌集である『古今和歌集』の編纂を命じた。
- ② 延喜の荘園整理令を出すなど、律令政治への復帰を目指した。
- ③ 班田を12年1班から6年1班とした。

問10 下線部(h)が都城跡から発見された<sup>まっかつ</sup>靺鞨族や旧高句麗人を中心に建国された国はなにか。



3 次の〔Ⅰ〕～〔Ⅲ〕は、オンラインで開催された「高校生が語る中世武士団サミット」の発表の一部である。発表内容を読み、後の各問いに答えよ。

〔Ⅰ〕茨城県・A高校

私たちは、茨城県坂東市を訪れました。ここは平将門の拠点で、将門を祀った<sup>まつ</sup>国王神社<sup>こくおう</sup>があり（写真1）、彼は関東の“自立”をめざした英雄として親しまれています。将門は下総国を根拠地に一族と争い、その調停役も務めていましたが、対立する相手を追って(a)常陸国衙を攻撃したことから、反乱に発展しました。東国の大半を占領して「新皇」を名乗りましたが、下野国の（あ）であった藤原秀郷らに討たれました。

同じ頃、(b)伊予掾であった藤原純友は、瀬戸内海で反乱を起こし、大宰府を焼き討ちしました。合わせて(c)承平・天慶の乱（天慶の乱）と呼ばれています。



写真1 国王神社（国王神社 HP より）



写真2 源頼義墓（羽曳野市観光協会 HP より）

問1 文中の（あ）に当てはまる語句として正しいものを、次のうちから1つ選び番号で答えよ。

- ① 押領使      ② 在庁官人      ③ 検非違使      ④ 守護

問2 下線部(a)(b)は、次ページの地図上のそれぞれどこか。位置の組合せとして正しいものを、次のうちから1つ選び番号で答えよ。

- ① 伊予国－A      常陸国－C      ② 伊予国－A      常陸国－D  
③ 伊予国－B      常陸国－C      ④ 伊予国－B      常陸国－D

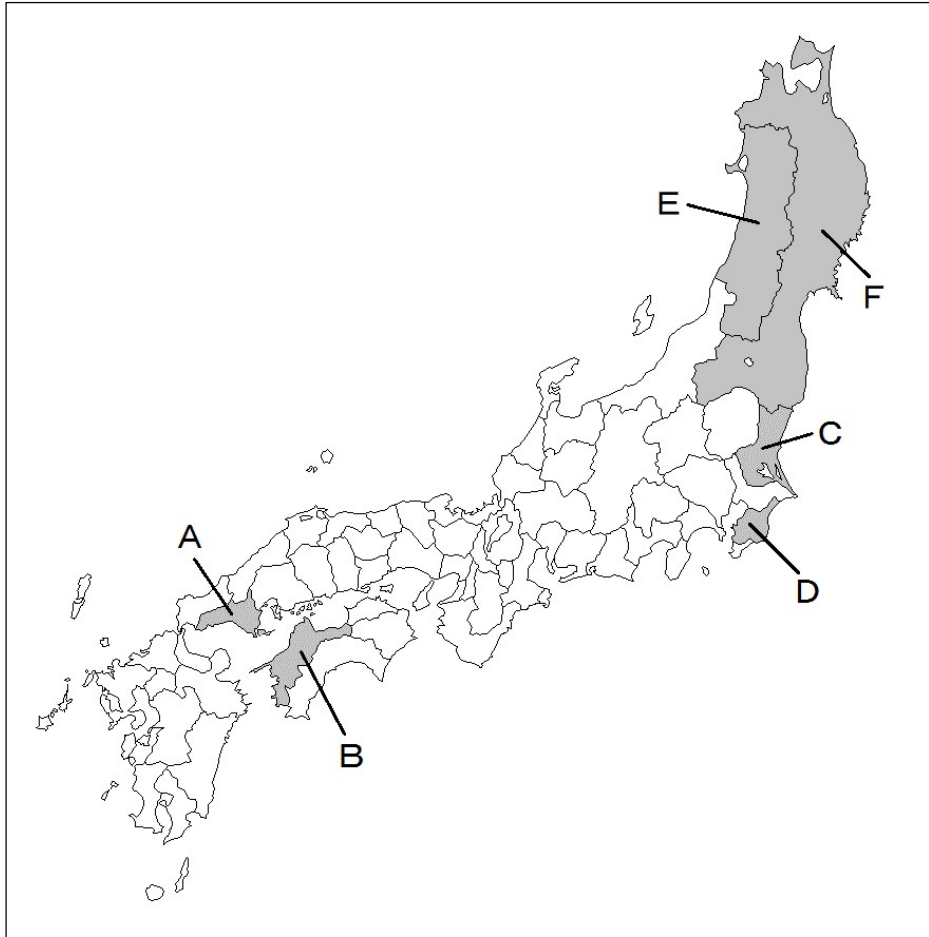
問3 下線部(c)に対する朝廷の対応に関して述べた次のX・Yについて、正誤の組合せとして正しいものを、次のうちから1つ選び番号で答えよ。

- X 遷都を繰り返した。      Y 軍団の兵士を動員した。  
① X 正      Y 正      ② X 正      Y 誤  
③ X 誤      Y 正      ④ X 誤      Y 誤

〔Ⅱ〕大阪府・B高校

私たちは、河内源氏の墓がある羽曳野市を訪れました。彼らが本拠地とした壺井の近くに、（い）、頼義、義家の墓と伝えられる石塔が残っています（写真2）。（い）は藤原道兼・道長に仕え、かつて上総介であった平忠常の乱（1028～31）を平定し、東国への源氏進出のきっかけになりました。永承元年（1046）には河内守であったことが確認でき、その任期後も土着して河内

源氏の祖となりました。その後、(d)頼義・義家は東北地方の争いに介入しました。その結果、源氏は東国の(e)武士団との主従関係を強めました。



問4 文章中の (い) に当てはまる人名をフルネームで記せ。

問5 下線部(d)に関連する出来事をカードに書き出して、年代順に並べた。A・Bに当てはまる内容の組合せとして正しいものを、次のうちから1つ選び番号で答えよ。

カード1

A

⇒

カード2

前九年の役が起こった

⇒

カード3

B

- a 安倍氏が地図中のEを勢力下においていた。
- b 安倍氏が地図中のFを勢力下においていた。
- c 源義家が地図中のE・Fを勢力下においた。
- d 清原氏が地図中のE・Fを勢力下においた。

- ① A-a    B-c            ② A-a    B-d
- ③ A-b    B-c            ④ A-b    B-d



問6 下線部(e)に関連して、平安後期の武士団の構造について述べた次のX・Yについて、正誤の組合せとして正しいものを、次のうちから1つ選び番号で答えよ。

X 武士(兵)の家は、主人のもとに一族の家子が従っていた。

Y 武士団は、土着した中下級貴族に対して、時に国人一揆を結んで対抗した。

- ① X 正 Y 正                      ② X 正 Y 誤  
③ X 誤 Y 正                      ④ X 誤 Y 誤

[Ⅲ] 発表後の討議のまとめ

武士は侍として貴族に仕え、朝廷は侍を内裏の警護を担当する(う)に用いました。それ以降、(f)朝廷や摂関家、院では彼らの武力を利用するようになりました。都では軍事貴族が形成され、地方では(g)地方武士が組織化されていくようになりました。その一方で、朝廷は、(h)地方の武士団の反乱を他の武士団に平定させました。

問7 文章中の(う)に当てはまる語句を記せ。

問8 下線部(f)に関連して、次の<事実>から導かれる<推論>の正誤の組合せとして正しいものを、次のうちから1つ選び番号で答えよ。

	<事実>	<推論>
A	清和源氏の源満仲は、安和の変で左大臣を密告した。	清和源氏は、天皇親政を支えていた。
B	平正盛は、北面の武士であった。	平氏は、院と結びついていた。

- ① A 正 B 正                      ② A 正 B 誤  
③ A 誤 B 正                      ④ A 誤 B 誤

問9 下線部(g)に関連して述べた次の文中の(え)(お)に当てはまる語句の組合せとして正しいものを、次のうちから1つ選び、番号で答えよ。

1019年、九州北部を女真族が襲った(え)が起こり、大宰権帥藤原隆家が武士を率いて撃退した。このことから九州に(お)ことが分かる。

- ① えー刀伊の入寇              おー武士団が形成されていた  
② えー刀伊の入寇              おー防人が再編されていた  
③ えー応永の外寇              おー武士団が形成されていた  
④ えー応永の外寇              おー防人が再編されていた

問10 下線部(h)に関連して、武士や武士団について、正しい説明の組合せを、次のうちから1つ選び、番号で答えよ。

ア 反乱を起こした平忠常や藤原純友は、元は国司であった。

イ 反乱を起こした平忠常や藤原純友は、元は郡司であった。

ウ 源氏や平氏は、最初に仕えた天皇の名を付けて清和源氏、桓武平氏などと呼ばれる。

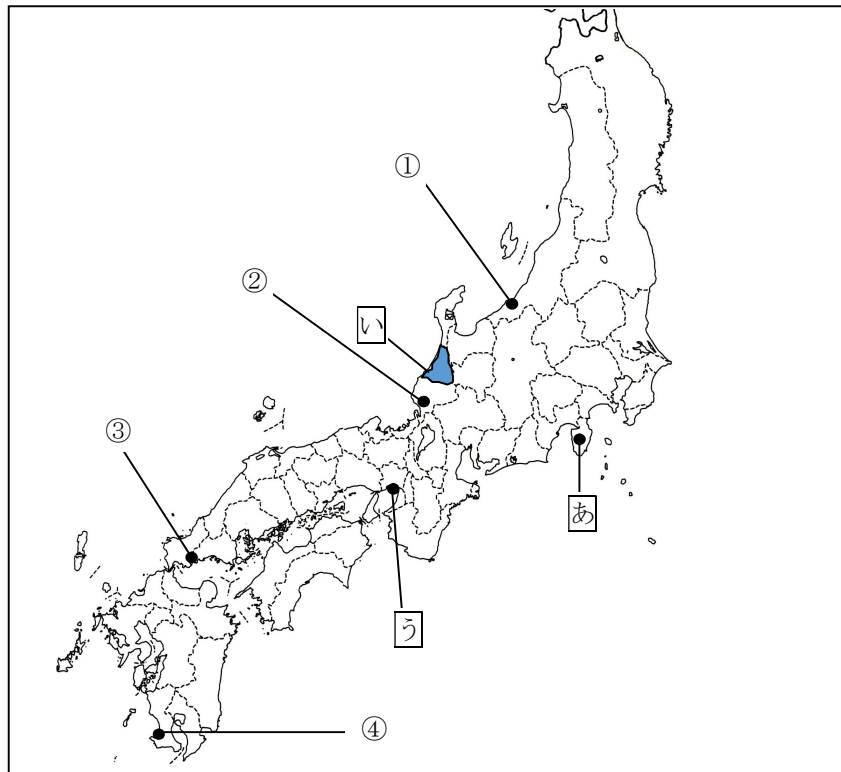
エ 地方の武士団は、中央貴族の血筋を引く清和源氏や桓武平氏を棟梁と仰いだ。

- ① ア・ウ              ② ア・エ              ③ イ・ウ              ④ イ・エ

4 次の文章と地図を見て、後の設問に答えよ。

- A 関東では、永享の乱後に鎌倉公方が分裂した。地図1中の「あ」の〔 A 〕公方には足利政知が就任したが、その子茶々丸の時代に〔 B 〕によって滅ぼされた。〔 B 〕の子や孫の時代にはさらに勢力を伸ばし、関東の大半をおさえた。
- B (a)畿内で室町幕府の主導権をめぐる争いが展開される一方で、他の地域では(b)戦国大名が実力で領国支配をおこなうようになった。戦国大名の中には(c)分国法を制定する者も多く現れた。
- C 浄土真宗(一向宗)は、本願寺の蓮如を中心に近畿・東海・(d)北陸などで布教活動をおこなった。これらの地域では(e)講の組織により門徒同士が強く結びついたため、大名勢力を衝突することもあった。

地図1



問1 空欄〔A〕～〔B〕に当てはまる語句を答えよ。

問2 下線部(a)に関連して、15世紀後半から16世紀にかけての畿内での出来事Ⅰ～Ⅲについて、古いものから年代順に並べたものとして正しいものを、下の①～⑥のうちから1つ選び番号で答えよ。

- Ⅰ 応仁の乱がおこった。  
Ⅱ 織田信長が足利義昭を奉じて入京した。  
Ⅲ 細川氏が家臣の三好氏に実権を奪われた。
- ① Ⅰ→Ⅱ→Ⅲ    ② Ⅰ→Ⅲ→Ⅱ    ③ Ⅱ→Ⅰ→Ⅲ  
④ Ⅱ→Ⅲ→Ⅰ    ⑤ Ⅲ→Ⅰ→Ⅱ    ⑥ Ⅲ→Ⅱ→Ⅰ

問3 下線部(b)について、戦国大名のおこなった領国支配の内容として誤っているものを、次のうちから1つ選び番号で答えよ。

- ① 太閤検地を行い、家臣の収入を把握した。  
② 寄親・寄子制により、家臣団を編成した。  
③ 楽市令を出して、自由な商取引を保障した。  
④ 領国内で、鉱山開発をおこなった。

問4 下線部(c)について、次の史料中の破線部の都市を、地図1中の①～④から1つ選び番号で答えよ。

一、朝倉が館の外、国内□城郭を構えさせまじく候。惣別分限あらん者、一乗谷へ引越、  
郷村には代官ばかり置かるべき事 (朝倉孝景条々)

問5 問4の一乗谷ともっとも近い性格を持つ都市を、次のうちから1つ選び番号で答えよ。

- ① 堺 ② 敦賀 ③ 小田原 ④ 長野

問6 下線部(d)について、地図1中の□の地域で1488年におこった一向一揆について述べた文として正しいものを、次のうちから1つ選び番号で答えよ。

- ① 初めての大規模な土一揆であり、徳政を求めて土倉・酒屋などをおそった。  
② 徳政を求めておこった一揆であり、その要求を入れた室町幕府が初めて徳政令を發布した。  
③ 守護の富樫政親を倒し、約1世紀にわたり一揆勢が実質的に支配した。  
④ 両派にわかれて争っていた畠山軍を国外に追放し、8年間にわたり一揆が自治をおこなった。

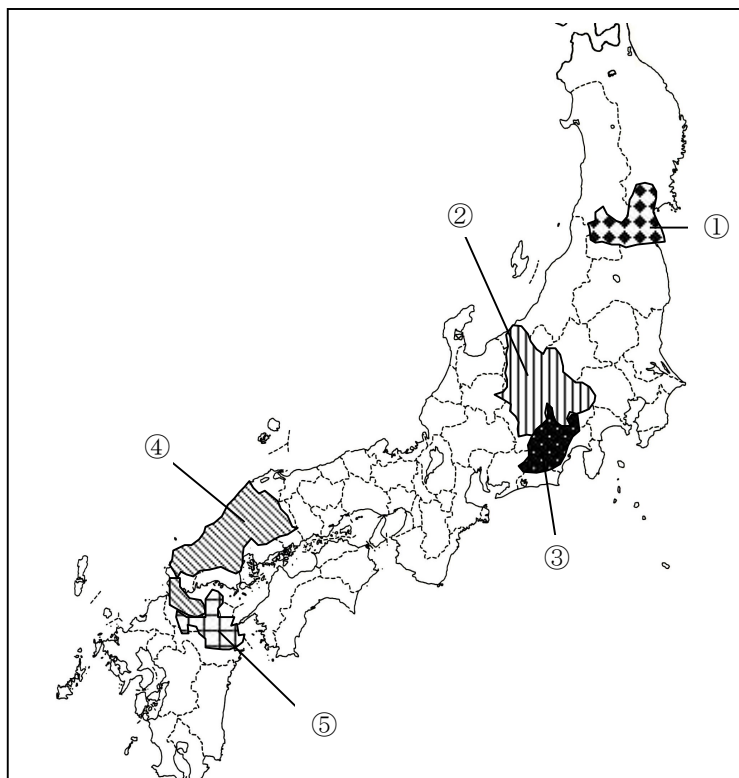
問7 下線部(e)について、地図1中の□の地に建立され、1570年から1580年にかけて、顕如(光佐)のもとで織田信長の勢力と戦った寺院の名称を答えよ。

問8 問7の寺院では、周囲を堀などで囲み、門徒の商工業者が集住した。このように、浄土真宗の寺院や道場を中心として形成された都市を何とよぶか。

問9 次のD・E・Fの戦国大名について、人物名を答え、その領国を下の地図2中の①～⑤から1つずつ選び番号で答えよ。

- D 国人から成長した戦国大名で、主君を自刃においこんだ陶晴賢を滅ぼし、さらに領国を拡大させた。  
E 川中島の戦いで上杉謙信と五度にわたる戦いを繰り広げた戦国大名で、領国内では治水事業にも尽力した。  
F キリシタン大名としても知られた戦国大名であり、有馬晴信・大村純忠とともに天正遣欧使節の派遣者に名を連ねている。

地図2



5 次の文は、高校生の隼人君が、江戸時代から代々農業を営んでいる古民家に住む伯父を訪問した時の会話である。これを読んで設問に答えよ。

隼人 伯父さん、こんにちは。今日は伯父さんの家を案内してくださるといふことで、楽しみにしてきました。

伯父 隼人君、よく来たね。まあ、入って。

隼人 うわー、広い土間ですね。そして、玄関の戸が大小二重になっているんですか。

伯父 よく気付いたね、これは大戸といふて、牛や馬が入る時はこれを開けていたんだ。

隼人 へえー。牛や馬も同じ家で住んでいたんですね。

伯父 そうだよ。④牛や馬は我が家の大切な家族だったんだ。近くを川越街道が通っているのて、牛馬はよく活躍したんだ。この右側の部屋が牛馬の部屋だった。今は、使わなくなった農具をおいているんだけど。中を見てみるかい？

隼人 はい、ぜひ……

隼人 あれ？これは何ですか？

伯父 [ A ]という道具だよ。丸いところの中心にハンドルがあるだろう。それを回せばこの中に風が起こって、その隣の台形の部分から米と粃殻の混じったものを落とすと、粃殻だけが左の出口から吹き飛ぶという仕組みになっている。私は使ったことはないけれど、私の父は小さいころに使っていたと聞いている。

隼人 へえー。……あっこれで田んぼを耕すんですね。

伯父 そう、[ B ]って言つてね、先が3つに分かれているので、平鋤よりも深く耕せるんだよ。そしてこれ、[ C ]と言つて、脱穀に使う。これが発明されるまでは稲穂を1本1本、扱箸という2本の棒に挟んでいた。これがつくられたことで、パートに来ていた後家さんが仕事を失った。そこで「後家倒し」という異名があるんだ。

隼人 桶がたくさんありますね。

伯父 これらは肥担桶とか肥桶といつてね、肥料を運ぶものなんだよ。

隼人 ここではどんな肥料を使っていたのですか？

伯父 古来からあるのは、⑥山で刈つてきた草や木の小枝をそのまま肥料として使うというものなんだがね、江戸時代には山の草木が少なくなったので、牛馬の糞と藁を混ぜて発酵させたものや、私たち⑦人間の糞尿を使うようになった。近くの町へ行って、武士や大商人と交渉して糞尿を汲ませてもらい、畑でできた新鮮な野菜を届けていたようだね。

隼人 授業では肥料として⑧干鰯とか粕を使つたと教えてもらいました。

伯父 そんな肥料は高くて使えなかった。木綿や菜種などの商品作物を作っている農家が主に買ったようだね。

隼人 なるほど。そうだったんですね。ところで、この奥は台所ですか？

伯父 うん、かまどだね。じゃあ部屋へあがって。右に梯子があるだろう。これは屋根裏へ入るためのもの。江戸時代はこの上で養蚕をしていたんだよ。

隼人 絹織物といふて⑨京都が有名だけれど、18世紀中ごろには⑩上野国や下野国でも高級品が生産されていたと授業で聞いたことがあります。

伯父 うちのはそこまで高級品じゃないけれど、江戸の町向けにつくっていたみたいだね。

隼人 伯父さんや伯母さんは食料も自給自足ですか？

伯父 米や野菜は自分の畑で採れるけれど、醤油は千葉県の（あ）から弟が送ってくれる。あそこの漁港は、すぐ北が九十九里浜でサンマやイワシが大量にあがる。魚がとってもおいしいんだよ。また、晩酌の日本酒は京都の（い）が女房の実家だから義兄が送ってくれて助かっているんだよ。隼人君も今日はゆっくりとくつろいでね。

隼人 ありがとうございます。

問1 文中の空欄 [A] ~ [C] にあてはまる農具を答えよ。

問2 文中の空欄 (あ)・(い) にあてはまる地名を、次のうちから1つずつ選び番号で答えよ。

- ① 野田 ② 銚子 ③ 宇治 ④ 灘 ⑤ 伏見 ⑥ 竜野 ⑦ 湯浅  
⑧ 山崎

問3 下線部①について、牛馬は田畑耕作の他にどのように利用されたと考えられるか。伯父の発言から想像して答えよ。

問4 下線部②・③の肥料を何というか。それぞれ漢字2字で答えよ。

問5 下線部④のような購入肥料を何というか。漢字2字で答えよ。

問6 下線部⑤について、金襴・緞子などの高級品を生み出した京都の町名を答えよ。

問7 下線部⑥に属する、著名な絹織物産地として誤っているものを、次のうちから1つ選び番号で答えよ。

- ① 上田 ② 桐生 ③ 足利 ④ 伊勢崎

6 次の史料を読み、下記の間それぞれ答えよ。

I いにしへは百姓より町人は下座なりといへども、いつの頃よりか天下金銀づかひとなりて、天下の金銀財宝みな町人の方に主どれる事にて、貴人の御前へも召出さるゝ事もあれば、いつとなく其品百姓の上にあるに似たり。況や百年以来は天下静謐の御代なる故、1 儒者、医者、歌道者、茶湯風流の諸芸者、多くは町人の中より出来る事になりぬ。(『町人囊』)

問1 下線部1に関連して儒学について適切な文を、次のうちから1つ選び番号で答えよ。

- ① 5代将軍徳川綱吉は学問を重視し、湯島聖堂を建て、林羅山を初代の大学頭に任命した。  
② 孔子や孟子の考えを重視する古学派が生まれ、中江藤樹や熊沢蕃山は陽明学を学んだ。  
③ 町人の伊藤仁斎は、京都の堀川に護園塾を開いたことから、この学派を堀川学派という。  
④ 山崎闇斎は、朱子学の道徳的な面を重んじ、神道と結びつけた垂加神道を唱えた。

問2 儒学が影響を与えたほかの学問分野について適切な文を、次のうちから1つ選び番号で答えよ。

- ① 歴史学では、水戸藩主の徳川光圀が多数の学者を招き、『大日本史』の編纂を始めた。  
② 古典の研究では、北村季吟は『万葉代匠記』を完成させ、文献による和歌の実証的な研究をおこなった。  
③ 医学では、山脇東洋は『解体新書』の翻訳に携わり、日本の西洋医学の発達に寄与した。  
④ 実用算術として和算が発達し、吉田光由の『発微算法』は筆算による代数学や高度な数学理論を説いた。

II 我久しく民間にありて、農人の日々に勤むる所をはかり見るに、其術委しからずして其法にたがふ事のみ多し。然るゆへに身を勞し心を苦しめて勤めいとなむといへ共、効を得る事すくなくしてややもすれば秋のなりはひの不足を見ることしばしばなり。……惣じて農具をえらび、それぞれの土地に随つて宜きを用ゆべし。凡農器の刃はやきとにぶきとにより其功をなす所遅速はなは甚だ違ふ事なれども、おろかなる農人は大形其考なく、纔の費をいとひて能き農具を用ゆることなし。(『農業全書』)

問3 上の史料『農業全書』の著者名を答えよ。

問4 上の史料の内容として適切な文を、次のうちから1つ選び番号で答えよ。

- ① 著者は、畿内や伊勢・志摩などの農業の調査と西欧の本草学・農書を学び、『農業全書』を執筆した。
- ② 著者によると、当時の農民は、農業技術を詳しく知らず、成果が得られず、秋の生活に不足が出ることもあった。
- ③ 著者は、どのような土地でも質の良い農具を使うことが良いと考えている。
- ④ 著者によると、出費を惜しむことなく農具を購入するできるくらいに、農民の生活は潤っていた。

問5 上の史料が執筆された時期の農業に関連する内容として適切な文を、次のうちから1つ選び番号で答えよ。

- ① 度重なる飢饉により、田畑面積や石高は減少し、幕府の財政は厳しい状況であった。
- ② 農具では、より深く耕せる備中鍬や脱穀用の唐箕が発明され、作業の効率化をもたらした。
- ③ 鎌倉時代に用い始めた草木灰などに加え、干鰯・油粕・メ粕などの使用が普及した。
- ④ 「天下の台所」とうたわれた大坂では、天満の米市場などが開設され、にぎわいをみせた。

III 三井九郎右衛門といふ男、手金の光むかし小判の駿河町と云所に、<sup>おもて</sup>面九間に四十間に棟高く長屋作りして、新棚を出し、<sup>よろず</sup>万現銀売にかけねなしと相定め、四十余人利発の手代を追いまはし、一人一色の役目、……<sup>ことさら にわ めみ のしめ</sup>殊更、俄か目見の熨斗目、いそぎの羽織などは、その使をまたせ、数十人の手前細工人立ちならび、即座に仕立、これを渡しぬ。さによって家栄え、毎日金子百五十両づつ、ならしに商売しけるとなり、……大商人の手本なるべし。(『日本永代蔵』)

問6 上の史料『日本永代蔵』の著者名を答えよ。

問7 上の史料の著者は金銭を巡って奔走する町人の姿を示す町人物に加えて、人間の愛欲を追求するジャンルの書物も遺している。そのジャンル名を答えよ。

問8 上の史料を参考にしながら、当時の商業や商人について適切でない文を、次のうちから1つ選び番号で答えよ。

- ① 三都や各地の城下町に問屋・仲買との売買の場である卸売市場が発達した。
- ② 越後屋三井家は新商法と堅実な経営で発展をとげた。
- ③ 大坂は堀と橋の多い水の都市で、舟の往来が多かった。
- ④ 材木を扱う商いで成功した江戸商人の淀屋辰五郎は一代で終わった。

問9 この時期の文化に関する文として適切でない文を、次のうちから1つ選び番号で答えよ。

- ① 松尾芭蕉が各地を旅し、わび、さびなどの境地と自然の中に人生をみつめる蕉風俳諧を確立した。
- ② 人形浄瑠璃が全盛期をむかえ、竹本義太夫らにより語られ人気を得た。
- ③ 歌舞伎の担い手は、幕府の方針により制限が加えられ、この時期には少年が若衆歌舞伎として発展した。
- ④ 民衆演劇では、和事の坂田藤十郎や芳沢あやめ、荒事の市川團十郎などの俳優が人気を博した。

問10 この時期の美術で「見返り美人図」などですぐれた才能を発揮した人物名を答えよ。



7 次の年表をみて、以下の間に答えよ。

外交担当	事項
岩倉具視	1871年 岩倉使節団、欧米に出発
寺島宗則	1876年 税権回復を目指しアメリカと交渉開始 1878年 アメリカが日本の税権回復に合意 1879年 イギリスなどが日本の税権回復を拒否して無効化 ] …(a)
井上馨	1883年 鹿鳴館外交の開始 …(b) 1886年 東京で条約改正会議 [ A ] 事件 1887年 法権回復の条件を承認 → 条件が批判を浴び、井上辞任
大隈重信	1888年 個別に秘密交渉を開始 1889年 アメリカ・ドイツ・ロシアと改正条約調印 → 大隈が襲撃され辞任 …(c)
青木周蔵	1891年 イギリスと交渉し、改正案への同意を得る …(d) 青木外相が大津事件で引責辞任 …(e)
陸奥宗光	1894年 日英通商航海条約の調印 → 法権の回復 …(f)
[ B ]	1911年 条約満期にともない新条約を締結 → 税権の回復

問1 年表中(a)に関して、次の〔表1・2〕を読み取り、アメリカが日本の税権回復に同意し、イギリスが拒否した理由として正しいものを、次のうちから1つ選び番号で答えよ。

〔表1〕

日本の主な輸出商品の主要輸出先シェア (1873-81年累計、%)			
蚕卵紙 (総額 9,050,000 円)		茶 (54,570,000 円)	
アメリカ	6.0	アメリカ	94.9
フランス	23.2	イギリス	1.6
イタリア	69.3	中国	2.1
その他	1.5	その他	1.4

〔表2〕

日本の主な輸入商品の主要輸入先シェア (1873-81年累計、%)			
綿織物 (34,165,000 円)		綿糸 (50,011,000 円)	
イギリス	80.9	イギリス	86.1
中国	16.7	インド	10.4
その他	2.6	中国	2.7
		その他	0.8

- ① アメリカと比べて、日本からの輸入額が大きかったイギリスでは、日本が関税を自由に決定できるようになると、利益が大きく減ってしまうと考えたから。
- ② イギリスと比べて、日本からの輸入額が大きかったアメリカでは、日本が関税を自由に決定できるようになると、利益が大きく減ってしまうと考えたから。
- ③ アメリカと比べて、日本への輸出額が大きかったイギリスでは、日本が関税を自由に決定できるようになると、利益が大きく減ってしまうと考えたから。
- ④ イギリスと比べて、日本への輸出額が大きかったアメリカでは、日本が関税を自由に決定できるようになると、利益が大きく減ってしまうと考えたから。

問2 年表中(a)に関して、その後、アメリカとの新条約も無効となった。その理由となる不平等条約の項目として正しいものを、次のうちから1つ選び番号で答えよ。

- ① 片務的最恵国待遇                      ② 領事裁判権の承認
- ③ 協定関税制の承認                    ④ 居留地の設置

問3 年表中(b)に関して、鹿鳴館外交などへの反発から生まれた思想として誤っているものを、次のうちから1つ選び番号で答えよ。

- ① 「…泰西の社会は平民的にして其の文明も亦平民的需要より生し来れるもの（中略）此の文明を我邦に輸入するや、不幸にして貴族的管中により成したるが故に、端なく貴族的の臭味を帯び、泰西文明の恩沢は僅に一種の階級に止り、他の大多数の人に於いては、何の痛痒もなく、何の關係もなく…」（徳富蘇峰『国民之友』）
- ② 「…夫れ一国の主権は不羈独立なり。仮令ひ貧弱なるも決して他国主権の拘束を受くべからず。（中略）欧米人を法官にせよ、民商法を改正せよと要求するは、是れ此の事既に内政干渉なり。…」（陸羯南『日本』）
- ③ 「…泰西の開化てふ栄養物を日本国土なる身体に飲食せしめ之を咀嚼し之を消化し、以て日本国土に同化せしむるに非ずして、只管之を以て日本の外面を虚飾塗抹せんとする（中略）虚飾はれ本領とする壮宏華麗なる建築物を新造し、無用の道路を修繕し、踏舞を勉強し、仮装舞会を奨励するてふ策略の如きは、是れ豈に「塗抹旨義」の本色に非ずして何ぞや（志賀重昂『日本人』）
- ④ 「…ルーソーと云ふ人の説に、人の生たるや自由なりとありて、人は自由の動物と申すべきものであります。されば人民の自由は縦令社会の法律を以て之を全うし得るとは申せ、本と天の賜にて人たるものの必ずなくてならぬものでござらう。若し人にして此の天の賜たる自由を取らざれば、是れ天に対して大なる罪となり自分に取っては大なる恥まり。…」（植木枝盛『民権自由論』）

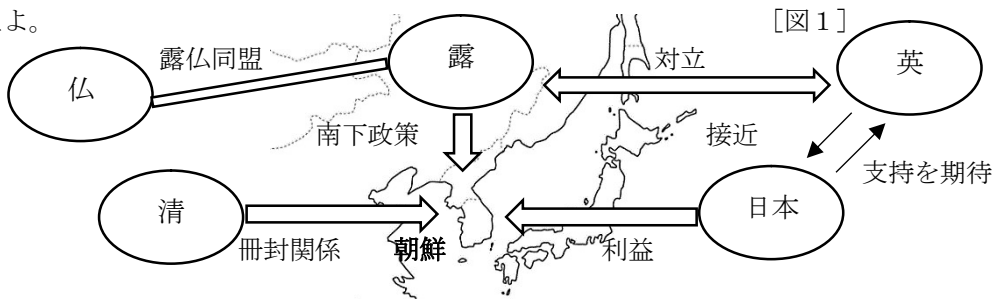
問4 年表中の [A] 事件をきっかけに国民が法権回復の必要性を痛感した。[A] にあてはまる語を答えよ。

問5 年表中(c)に関して、大隈の交渉内容に対する批判の中に、大隈の交渉内容が大日本帝国憲法第19条違反であるという意見があった。次の [表3] を参考に、大隈案のどの内容が違憲とされたか、正しいものを、表中①～④のうちから1つ選び番号で答えよ。

[表3]

大隈案 <ul style="list-style-type: none"> <li>・外国人に内地開放 …①</li> <li>・諸法典の改正 …②</li> <li>・大審院のみ外国人判事任用を認める …③</li> <li>・協定関税を平均11%に引き下げる …④</li> </ul>
大日本帝国憲法 19 条：日本臣民ハ法律命令ノ定ムル所ノ資格に應シ均シク文武官ニ任ゼラレ及キノ他ノ公務ニ就クコトヲ得

問6 年表中(d)に関して、次の19世紀後半の国際関係を表した [図1] を参考に、イギリスが改正案への同意をした背景を説明したものとして正しいものを次のうちから一つ選び、番号で答えよ。



- ① イギリスは、露仏同盟に対抗して日英同盟を結ぼうとした。
- ② ロシアの南下政策を警戒したイギリスが日本に接近した。
- ③ 清の冊封体制に日本が組み込まれることをイギリスが恐れた。
- ④ ロシアに対抗して、日本を足掛かりに朝鮮へと進出しようとしていた。

問7 年表中(e)に関する次の〔文章1〕を読み、空欄(あ)・(い)に入る語句の組み合わせとして正しいものを、次のうちから1つ選び番号で答えよ。 [文章1]

大津事件は訪日中のロシアのニコライ皇太子を警備の巡查津田三蔵が切りつけた事件である。日露関係の悪化を懸念した政府は、超法規的な措置で犯人を死刑にするように裁判所に圧力をかけたが、大審院長の(あ)は一般人に対する謀殺未遂罪を適用し、無期徒刑に処して、(い)を守った。この判決は内外から称賛された。

- ① あー児島惟謙 いー司法権の独立      ② あー谷干城 いー司法権の独立
- ③ あー児島惟謙 いー立法権の独立      ④ あー谷干城 いー立法権の独立

問8 年表中(f)に関して、次の〔史料1〕は陸奥宗光の『蹇蹇録』の一部である。この史料から読み取れることとして正しいものを、次のうちから1つ選び番号で答えよ。

…明治二十七年七月十三日付を以て、青木公使は余に電稟して曰く、「本使は明日を以て新条約※1に調印することを得べし」と。而して余が此電信に接したるは抑々如何なる日ぞ。鷄林八道※2の危機方に旦夕に迫り、余が大鳥公使に向ひ「今は断然たる処置を施すの必要あり、何等の口実を使用するも差支なし、実際の運動を始むべし」と訣別類似の電訓を発したる後僅に二日を隔つるのみ。…

※1 日英通商航海条約      ※2 朝鮮

[史料1]

- ① 条約調印は日清開戦の直前で、日本の朝鮮政策をイギリスが支持した。
- ② 条約調印は日露開戦の直前で、日本の朝鮮政策をイギリスが支持した。
- ③ 条約調印は日清開戦の直前で、日本の満州政策をイギリスが支持した。
- ④ 条約調印は日露開戦の直前で、日本の満州政策をイギリスが支持した。

問9 年表中の〔B〕に当てはまる語を答えなさい。

問10 当時の日本政府は、欧米との不平等条約を改正するため欧米式の近代法の整備を急いでいた。次の〔表4〕は高校生T君が法典の編纂の内容をまとめたものである。この表から読み取れるものを、次のうちから1つ選び番号で答えよ。

[表4]

法典名	公布年	施行年	内容
刑法	1880	1882	ボアソナード(フランス)起草 →1907年、ドイツ流の新刑法に改正
大日本帝国憲法	1889	1890	欽定憲法。ドイツ憲法に範をとった7章76箇条
民法(旧民法)	1890	延期	ボアソナード起草。民法典論争で施行延期。
民法(新民法)			ドイツの民法が模範
<1~3編>	1896	1898	…戸主権と長男単独相続の家督相続。家長が家屋
<4~5編>	1898	1898	員を支配する家制度。低い女性の地位。

- ① 刑法・憲法・民法いずれも国民の代表者によって制定されている。
- ② 民法典論争において、穂積八束は「民法出デト忠孝滅ブ」として民法案を支持していた。
- ③ 施行された民法では、家督・土地などの財産は、兄弟による分割相続が認められていた。
- ④ 刑法・民法いずれもフランス流のものからドイツ流のものに変更されている。

8 戦時統制と生活

「戦時統制と生活」に関する先生と生徒の会話文を読み、あとの設問に答えよ。

会話文

先生 今の渋谷のハチ公が2代目だということを知っていますか。

生徒 ハチ公の物語が第二次世界大戦前だということは聞いています。

ということは、その後の1945年3月の(a)東京大空襲で焼失したのですか。

先生 それは違います。実は初代のハチ公は1938年に公布された政府が必要な人的・物的資源を統制できるといった [ A ] 法に基づく金属類回収令により海軍省に供出されたのです。一般家庭からは鍋や釜が供出されました。

生徒 ハチ公が資源不足により供出されたことは知らなかったです。確か、大政翼賛会の末端に置かれた ( あ ) という組織が地域における供出などを担ったと授業で聞いた記憶があります。

先生 その通りです。 [ あ ] が戦時下の地域社会の互助・自警・配給などにあたりました。その後、1948年にハチ公は再建されました。

生徒 金属類の供出などそれほど(b)国民の生活の制限が必要だったのですね。

先生 そうです。政府はいかに多くの人的・物的資源を効率よく戦争へ供給していくことができるかということを最重要課題とされていました。

生徒 物資総動員計画が [ B ] によって作成されたのですよね。

先生 よく知っていますね。 [ B ] は内閣直属の機関として設置されましたが、経済界の強い反発もあり、のちに軍需省に吸収されています。

生徒 このような制限の多い生活の中では、文学作品などは生まれづらかったのでしょうか。

先生 確かに、統制の多いなかでプロレタリア文学の衰退や戦争を迎える戦争文学の隆盛が見られました。その中でも ( い ) による『細雪』といった大作が書かれ続け、後世に多大な影響を与えています。

生徒 戦時下の国民の生活についてもっと調べてみようと思います。

問1 下線部(a)は次の年表のⅠ～Ⅴのどの時期が適切か。次のうちから1つ選び番号で答えよ。

- ① Ⅰ ② Ⅱ ③ Ⅲ ④ Ⅳ ⑤ Ⅴ

Ⅰ
ヤルタ会談の開催
Ⅱ
沖縄戦の開始
Ⅲ
ポツダム会談の開催
Ⅳ
広島・長崎への原爆投下
Ⅴ

問2 空欄 [A] に適語を入れよ。

問3 空欄 [A] が公布された時の内閣総理大臣はだれか。次のうちから1つ選び番号で答えよ。

- ① 近衛文麿 ② 広田弘毅 ③ 平沼騏一郎 ④ 小磯国昭

問4 空欄 ( あ ) に入るものとして最も適当なものを、次のうちから1つ選び番号で答えよ。

- ① 隣組 ② 町内会 ③ 婦人会 ④ 五人組

問5 下線部(b)に関して戦時下の国民生活について述べた文として正しいものを、次のうちから1つ選び番号で答えよ。

- ① 太平洋戦争開戦後には米の配給制が始まった。
- ② 小学校は尋常小学校と改称され、教科編成も改訂された。
- ③ 文部省は『国防の本義』を発行し、国民思想の教化をはかった。
- ④ 木炭自動車などの代用品の使用が見られた。

問6 空欄 [B] に適語を入れよ。

問7 空欄 ( い ) に入る人物として最も適当なものを、次のうちから1つ選び番号で答えよ。

- ① 石川達三    ② 島崎藤村    ③ 火野葦平    ④ 谷崎潤一郎


9 大衆消費社会の誕生について、次のA～Hの写真と文に関して、各設問に答えよ。



A ヨーロッパにはじまった冷戦が東アジアに及んだ情勢を受けて、アメリカの占領政策が転換された。日本の経済再建に舵をきり、インフレ抑止・防止と赤字財政解消が目指された。そのためGHQから経済安定九原則が指示された。

問1 写真右の人物は、経済安定九原則の実施のためにGHQがアメリカから招請したデトロイト銀行の頭取である。この人物の説明について正しいものを、次のうちから1つ選び番号で答えよ。


- ① 直接税・所得税中心主義や地方税の独立など税制改革を日本に勧告した。
- ② 超均衡予算や単一為替レート設定などの施策で激しいインフレをおさえた。
- ③ アメリカの陸軍長官で、「日本の経済自立をうながし、共産主義の防壁にせよ」と演説した。
- ④ アメリカの国務長官マーシャルは、第二次世界大戦後の西側諸国を復興させるために経済復興援助計画をたてた。



B 朝鮮戦争がはじまると、日本は、国連軍の出撃基地となるとともに、軍需物資の補給基地ともなった。大量の軍需物資の需要で日本経済は息を吹き返した。

問2 写真は、朝鮮特需によるトラックの工場生産の様子である。朝鮮特需の結果の説明について誤っているのは次のうちどれか、1つ選んで番号で答えよ。

- ① 朝鮮特需の結果、日本国内の繊維産業が発展した。
- ② 朝鮮特需の結果、日本国内の自動車産業が発展した。
- ③ 朝鮮戦争が休戦となると、需要がなくなって急速に不景気になった。
- ④ アメリカから発注を受けた企業は、アメリカ式の大量生産技術を学ぶ機会を得た。



C 池田隼人内閣が「( あ )」をかかげて経済生活を豊かにすることを政策の中心にすえた。そのために新産業都市建設促進法が公布され、全国総合開発計画が定められて ( い ) などの工場建設が続き、太平洋ベルト地帯が形成された。池田はアメリカの物質的な豊かさを評価し、それと結びつくことで日本も豊かになると考え、公共投資を拡大した。その拡大は医療、製薬、建設、電機メーカーの発展をもたらした

問3 空欄 (あ) (い) にあてはまる言葉の正しい組み合わせは、次のうちのどれか、1つ選んで番号で答えよ。

- ① あ 国民所得倍増    い 石油化学コンビナート

- ② あ 日本列島改造      い 原子力発電所
- ③ あ 国民所得倍増      い 原子力発電所
- ④ あ 日本列島改造      い 石油化学コンビナート

問4 写真は、高度経済成長期のテレビの工場の様子である。この時期の工場労働者について正しい説明を、次のうちから1つ選び番号で答えよ。

- ① 雇用が多様化し、非正規労働者や派遣社員契約社員が増えた。
- ② 小作農など貧しい農家の子女が昼夜2交代制で働くのがふつうであった。
- ③ 高校進学率が高まり、教育水準の高い若い労働力が供給された。
- ④ 朝鮮半島から多くの朝鮮人が日本に移住してきて工場労働者となった。



D 巨大な企業の集まった首都東京と太平洋ベルト地帯の地方都市を結ぶ手段が(a)高速道路と(b)新幹線であった。さらに主要都市を中心とした交通網が整備され、社会資本の拡充が進んだ。

問5 下線部(a)高速道路について誤っている説明を、次のうちから1つ選び番号で答えよ。

- ① 1965年、名神高速道路全線が開通し、大都市間のバス・トラック・自動車による人員と物資の輸送に力を発揮した。
- ② 東名・名神高速道路の開通は、高速走行に耐えられるような国産自動車の性能の向上を促進した。
- ③ 舗装道路が増加し、高速道路が開通した事などが、通勤だけでなく、レジャー利用が進み、乗用車の所有を促した。
- ④ 東名高速道路全線の開通は、東京オリンピックの観光客の移動に力を発揮した。

問6 下線部(b)新幹線について正しい説明はつぎのうちどれか、1つ選んで番号で答えよ。

- ① 東京オリンピックの開催を前にして、政府は社会資本の充実を目指した結果、東海道新幹線の開通、首都高速の道路の開通、東京モノレールの開通が実現した。
- ② 鉄道国有法公布の結果、民営鉄道が国有化されて、各地の新幹線工事が推進された。
- ③ 中曽根康弘内閣による行政改革の結果、JR各社が生まれ、JR東日本によって東海道新幹線開通が実現した。
- ④ 東名・名神高速道路の全線が開通すると、モータリゼーションの発展によって東海道新幹線による人員の輸送は衰退した。



E 戦後高度経済成長期に、都市では、人口の都市集中に対応するため大規模な団地が次々と生まれた。団地などの新しい住宅様式が始まった。団地には洗濯場がなく、台所は日当たりがよかった。また、サラリーマンには、決まった労働時間と休日が保障され、余暇の過ごし方が問題となった。こうした都市型のサラリーマンの生活様式の変化にともなって各家庭に電化製品が普及した。

問7 写真は、初期の頃のテレビである。こうした電化製品について誤っている説明を、次のうちから1つ選び番号で答えよ。

- ① 団地には、たらいと洗濯板で洗濯する洗濯場がなかったので、電気洗濯機の需要が高まった。
- ② 団地には、日当たりのいい台所があったが、食品の保存のために電気冷蔵庫の需要が高まった。
- ③ 決まった労働時間と休日が保障されるサラリーマンの家庭には、余暇をすごすのにテレビ



が必需品となった。

- ④ 電気冷蔵庫と電気洗濯機とテレビは、3C と呼ばれて、それらを手に入れるのが高度経済成長期の家庭の目標となった。



F 食料や衣料がある程度持自給可能だった農村に対し、急速に都市化したサラリーマンの中心の社会では、日常生活の必需品を居住地域で商品として購入しなくなりました。そこで(c)いろいろな商品を大量に生産し、それを商品として大量に仕入れ、大量に販売する大規模小売店舗が生まれた。

こうした店舗による大量販売・廉価販売・セルフサービスの特徴とする（う）が1960年代から急増した。写真は（う）の店内の様子である。（う）の急増は価格を下げる（え）がおこった。生産と消費に介在するシステムに大きな変化がおこり、メーカーによる販売店系列化、卸売業者などの中間業者を排除、小売業者による販売技術の革新などがおきた。

問8 空欄（う）（え）にあてはまる言葉の正しい組み合わせは、つぎのうちのどれか、1つ選んで番号で答えよ。

- |               |           |
|---------------|-----------|
| ① う 百貨店       | え デフレーション |
| ② う スーパーマーケット | え デフレーション |
| ③ う スーパーマーケット | え 流通革命    |
| ④ う 百貨店       | え 流通革命    |

問9 下線部(c)について誤っている説明をつぎのうちから1つ選び番号で答えよ。

- ① モータリゼーションの発展とともに郊外のロードサイドに大型の量販店ができた。
- ② 初期の頃は、私鉄のターミナルに鉄道会社が開設し、文化施設をもって多種多様な催し物を開催し、都市文化を育てるうえで大きな役割も果たした。
- ③ 消費者が1つの店で生活必需品を揃えることができる便利さが、発展の一因となった。
- ④ 大規模な大型量販店の出店で、市街地の商店街が衰退する傾向が強まった。



G 高度経済成長期の終わり頃には消費生活の多様化にともなって、(d)緊急度の高い日常生活の必需品を手軽にいつでも買い物が可能で24時間営業の地域密着型の店舗が登場した。写真は、この会社の1号店である。

問10 下線部(d)について、正しい説明はつぎのうちどれか、1つ選んで番号で答えよ。

- ① 一般の小売業では提供できない便利さを提供することを目的として多様な注文・ニーズに対応して発展した、
- ② 衣食住全般にわたって大量の生活必需品をいつでも提供できる大型店舗としてとして発展した。
- ③ モータリゼーションの発展と郊外の大型量販店の登場で急速に衰退していった。
- ④ 電鉄直営の店舗では、“どこよりも良い品をどこよりも安く”をモットーにして郊外に住む通勤客や沿線居住者のニーズに応じて日用雑貨や食料品を中心に扱った。



H 1960年代にインスタント食品が急速に普及し、70年代になると、レトルト食品やカップ麺など調理に更に手間のかからない食品が登場した。また、1970年前後から外食産業の中で、安さと早さをモットーとして手軽に食事のできる店が登場し、チェーン店として拡大していった。写真は、あるチェーン店の日本1号店である。

問11 日本の近現代の食生活の変化について、次のI～IIIについて古い順番に並べたものとして正しいものを1つ選び番号で答えよ。

- I ダイニング・キッチンを備えた団地の普及とともにダイニング・テーブルを囲んで夕食をとる食生活の習慣が広がった。
- II 牛肉屋が、牛鍋やチーズを提供し、牛肉や乳製品を食べる習慣が始まった。
- III ハンバーガーを食べながらコーラを飲むというアメリカの食文化が日本に導入された。
- ① I－II－III      ② I－III－II      ③ II－I－III      ④ II－III－I
- ⑤ III－I－II      ⑥ III－II－I

10 2年3組の生徒は、日本史探究の授業で、日本の教育の歴史を調べることになった。A班は『古代の教育機関について』、B班は『中世の教育について』、C班は『近世の教育について』をそれぞれテーマにし、発表を行った。各発表に関する各問にそれぞれ答えよ。

### A班

私たちは、『古代の教育機関について』調べました。教科書に記述された教育機関は、奈良時代の中央に置かれた官吏養成機関の(a)大学と各国に置かれた(あ)が初見になります。大宰府に設置された府学も(あ)の一種です。751年に、現存する最古の漢詩集である(い)が編まれましたが、その序文に、天智天皇が学校を創設したという記述がみられ、これが日本最古の教育機関だと考えられます。大宝律令により国家体制が整備されると、式部省管轄下に大学が設置されました。757年には給食の制度も始まったそうです。平安時代になると、大学は内裏の南に設置され、有力貴族らが(う)と呼ばれる寄宿舎を作りました。大学の南に隣接して設置された(う)の(え)は藤原冬嗣が設置した藤原氏一族の寄宿舎でした。同様に(b)和気氏、橘氏、在原氏と皇族が大学周辺に(う)をつくりました。しかし、こうした有力氏族の(う)は他の貴族の学生との格差を招き、問題となったそうです。塾や予備校に通う現代と同じ問題があったのですね。(う)は現在の二条城周辺にありました。跡地には石碑が建っています。また、寺院も僧侶養成の教育機関の役割を持っていたと考えられます。空海は庶民も通うことが出来た(お)を東寺(教王護国寺)に隣接してつくりました。

問1 (あ)～(お)に適する語をそれぞれ記せ。

問2 下線部(a)の大学で教えられた教科の説明①～④で、誤っているものを、1つ選び番号で答えよ。

- ① 五経など儒教の経典を学ぶ教科は、明経道である。
- ② 律令など法を学ぶのが明法道である。
- ③ 平安時代には漢文・中国の歴史を学ぶ紀伝道が生まれた。
- ④ 釈迦の教えを経典から学ぶのが、顕教道である。

問3 下線部(b)と、その(う)の組合せで正しいものを、1つ選び番号で答えよ。

- ① 和気氏—奨学院      ② 橘氏—学館院      ③ 在原氏・皇族—弘文院
- ④ 和気氏—学館院      ⑤ 橘氏—弘文院      ⑥ 在原氏・皇族—学館院

B班

私たちは、『中世の教育について』調べ、足利学校に注目しました。軍記物の『鎌倉大草紙』には次のような記述がみられます。

(a) 武州金沢の学校は北条九代の繁盛のむかし学問ありし旧跡也。又上州は上杉が分国なりければ、足利は京都ならびに并 鎌倉御名字の地にて、たにことなりと、かの足利の学校を建立して、種々の文書を異国より求め続ける。此足利の学校は上代承和六年の (b) 小野篁、上野の国司たりしとき建立の所、同九年、篁、陸奥守になりて下向の時、此所に学所をたてけるよし、その旧跡いまにのこりけるを、応永元年、長尾景人が沙汰として、政所より今の所に移建立しける。近代の開山は、快元と申す禅僧なり。今度安房守あわのかみ、公方御名字がけの地なればとて、学領を寄進して、弥 書籍を納め学徒をれんみんす。されば此比諸国大いにみだれ、学道も絶えたりしかば、此所日本一所の学校となる。是より猶なおもって以 (c) 上杉安房守憲実を諸国の人もほめざるはなし。西国・北国よりも学徒ことごとく悉く集まる。

また、足利学校について、フランシスコ＝ザビエルも次のように述べています。

…いとも遠隔の地に、坂東と称する別の大学があり、ここは日本で最大かつ主要なる大学で、最も多くの学生を集めている。(1549年11月5日付 ザビエル書簡)

問4 下線部(a)と、またそれを創設した人物の組合せで正しいものを、次のうちから1つ選び番号で答えよ。

(a)

あ 鈴屋 い 芸亭 う 金沢文庫 え 和学講談所 お 弘道館

人物

ア 北条実時 イ 石上宅嗣 ウ 塙保己一 エ 本居宣長 オ 北条高時

① あーエ ② いーイ ③ うーア ④ えーウ ⑤ おーオ ⑥ あーイ

⑦ いーウ ⑧ うーオ ⑨ おーエ

問5 下線部 (b) の小野篁は、空海や嵯峨天皇・菅原道真と並ぶ平安初期の文人である。父は小野岑守である。嵯峨天皇の勅により編纂された勅撰漢詩文集で、岑守が編纂したものを、次のうちから1つ選び番号で答えよ。

① 『文華秀麗集』 ② 『経国集』 ③ 『性霊集』 ④ 『凌雲集』

問6 下線部 (c) の上杉憲実は、永享の乱を起こした。永享の乱の説明として正しいものを、1つ選び番号で答えよ。

① 関東管領の上杉憲実は、鎌倉府と幕府の間を取り持っていたが、鎌倉公方足利持氏に攻められ、将軍足利義教の命により持氏を破り、自害させた。

② 上杉憲実は、大名・公家・僧侶まで弾圧する将軍足利義教に疑心暗鬼になり、これを暗

殺し、山名持豊に討たれた。

- ③ 六分の一衆と呼ばれた有力守護大名の上杉憲実は、将軍足利義満に討たれ、上杉氏は弱体化した。
- ④ 鎌倉公方足利成氏が、関東管領上杉憲忠を殺害し、幕府の命により憲実が関東管領になり、成氏を追討し、成氏は古河に逃れた。

### C班

私たちは『近世の教育について』調べ、特に私塾に注目しました。

(a)芝蘭堂は江戸における蘭学研究の中心的役割をはたしました。寛政六年11月11日は西暦1795年1月1日にあたることから、多くの蘭学者をここに集めて祝宴を開きました。これを「オランダ正月」と称し、この催しは1837年まで続けられました。

大坂の懐徳堂は、江戸中期の1724年に大坂商人たちが設立した学問所で、1726年には8代将軍徳川吉宗から公認されて官許学問所となりました。開校時に初代学主となった三宅石庵は玄関に3ヵ条の「定」を掲げました。それが下記の内容です。

- 一 書物を持たないものも講義を聞いて良い
- 一 やむをえないよう用事があれば途中退席してもよい
- 一 席次は武家を上座と定めるが、講義開始後は身分によって分けない

という開かれた学問所でした。こうした学風から、儒教・仏教・神道を実証的に研究した富永仲基や、無神論・地動説の支持・応神天皇以前の『日本書紀』の真实性の否定をのべた『夢の代』を執筆した(あ)などの町人学者を輩出しました。

豊後日田に広瀬淡窓が創立した(b)咸宜園は、全寮制の私塾であり、'ことごとくよろし'を意味する咸宜の名のとおり、塾生の意志や個性を尊重する理念がありました。こうしたことから日本最大の私塾となり、80年間で入門者は約4800人におよびました。

問7 下線部(a)の芝蘭堂を創立した人物は、著名な2人の蘭学者の弟子であり、名前も2人に因んで名乗っている。この2人の蘭学者とは誰と誰か。

問8 (あ)に適する町人学者を記せ。

問9 下線部(b)の咸宜園で学んだ人物の組合せを、次のうちから1つ選び番号で答えよ。

- ① 本居宣長—塙保己一      ② 橋本左内—福沢諭吉      ③ 高杉晋作—伊藤玄朴
- ④ 平田篤胤—生田万      ⑤ 宇田川榕庵—箕作阮甫      ⑥ 高野長英—大村益次郎