

# 社会科学標準問題

平成 30 年度

---

## 注意

1. 問題は 1 から 10 までであるが、そのうち 5 題を解答すること。どの 5 題を解答するかは学校の指示に従うこと。
2. 解答はすべて解答用紙の所定の欄に指示通り記入すること。
3. 所要時間は 50 分とする。
4. 解答用紙の選択した（または指定された）問題番号の口に○を記入すること。

1 次の文章を読み、あとの設問に答えなさい。



この写真は東京・丸の内にある明治生命館である。1934年に竣工したこの建物は、(ア)とよばれる古代ギリシアの建築様式に倣って建てられた。この写真のように、近代化を進める日本においても古代ギリシア文明は西洋の象徴として取り入れられている。

ギリシア人の祖先は、紀元前 2000 年頃にバルカン半島へ南下したとされる。前 1600 年頃～前 1200 年頃に栄えたギリシア人の文明を(a)ミケーネ文明とよぶ。前 8 世紀から定住生活をおくるようになり、ポリスが形成された。人口は増加して(b)遠隔地交易も復活した。ポリスは城壁で囲まれた市街と周辺の農地からなる。城壁内には(イ)とよばれる広場があり、集会や市場が開かれた。また、町の中心にある(ウ)とよばれる丘の上には、神殿が築かれることが多かった。

ポリスの中には(c)アテネや(d)スパルタなどがあったが、特に民主政が発達したのがアテネである。アテネは前 4 世紀から 5 世紀にかけて黄金期を迎えた。ソクラテスや(e)プラトンなどの哲学者が活躍したのもこの時期である。その後、ギリシアの文化はオリエントへと広まり、現地の文化と融合して(f)新たな文化を生み出した。そのきっかけとなったのが、(g)アレクサンドロスの東方遠征である。彼は前 333 年の(エ)で(オ)ペルシアのダレイオス 3 世を破り、その後インド西北部まで征服していったのである。

問 1 (ア)に適する語句を選べ。

- ① バロック式
- ② ドーリア式
- ③ ロココ式
- ④ コリント式

問 2 下線部(a)について述べた文として正しいものを、次のうちから 1 つ選べ。

- ① 線文字 A とよばれる文字が用いられており、ヴェントリスらが解読に成功した。
- ② 堅固な城塞を備えていたほか、青銅器を用いており、尚武的な文明であった。
- ③ ゲルマン人により滅ぼされたと考えられている。
- ④ エヴァンズの発掘により存在が知られるようになった。

問3 下線部(b)について述べた文として正しいものを、次のうちから1つ選べ。

- ① ギリシアにヘブライ文字が伝えられ、アルファベットが用いられるようになった。
- ② ギリシアから各地の植民市に穀物が大量に輸出された。
- ③ ニケーアやネアポリスなどの植民市を建て、交易ネットワークを形成していた。
- ④ ヒッタイト王国で造られはじめた貨幣が広まり、さらに交易がさかんになった。

問4 (イ)と(ウ)に適する語句の組み合わせを①～④から選べ。

	(イ)	(ウ)
①	アクロポリス	シノイクスモス
②	パンテオン	アクロポリス
③	アゴラ	パンテオン
④	アゴラ	アクロポリス

問5 下線部(c)のアテネで起こった以下の出来事のうち、誤りを含むものを1つ選べ。

- ① ペイシストラトスが平民の支持を受けて政権を掌握した。
- ② ソロンが改革を行い、血統によって市民の政治的権利・義務に差をつけた。
- ③ クレイステネスが旧来の部族制を解体し、新たに10の部族を作った。
- ④ 陶片追放により、テミстокレスはペルシアに亡命した。

問6 下線部(d)のスパルタに関する説明として正しいものを、次のうちから1つ選べ。

- ① 平民たちが三段櫂船のこぎ手として活躍した。
- ② 男子は幼少期から親元を離れて戦士として訓練された。
- ③ リュクルゴスの制により、ヘイロータイを解放することが定められた。
- ④ デロス同盟を結成し、ペロポネソス戦争でアテネに勝利した。


問7 下線部(e)のプラトンについて述べた文として正しいものを、次のうちから1つ選べ。

- ① マケドニアの王子であったアレクサンドロスの家庭教師となった。
- ② 民主政を最も発達した政治形態であると論じ、特定の権力者による統治を批判した。
- ③ 現実世界のものや行為は善や美といったアイデアが現れた形態であると唱えた。
- ④ 万物の根源は数であると考え、世界のしくみを数学によって解き明かそうとした。

問8 下線部(f)の時期につくられた作品のうち正しいものの組み合わせを選べ。




(あ)



(い)



(う)



(え)

- ① (あ) と (い)    ② (い) と (う)    ③ (い) と (う)    ④ (い) と (え)

問9 下線部(g)について、アレクサンドロスの東方遠征以前の出来事として正しいものを、次のうちから1つ選べ。

- ① ローマでは慣習法が成文化された。
- ② ローマはシチリアを属州として支配した。
- ③ カルタゴが滅亡した。
- ④ イタリア半島の全自由民にローマ市民権が認められた。

問10 (エ)と(オ)に適する語句の組み合わせを①～④から選べ。

	(エ)	(オ)
①	イッソスの戦い	アケメネス朝
②	イッソスの戦い	ササン朝
③	アルベラの戦い	アケメネス朝
④	アルベラの戦い	ササン朝

2 次の A～E は中世のローマ教皇に関する文章である。これらを読んで、以下の問いに答えよ。

- A この人物が生きた時代の西ヨーロッパは、(a)ユスティニアヌス帝による地中海世界再征服後、東ローマ帝国による支配の実効性を残しながらも、部族国家に分断されつつあった。そのなかで彼はキリスト教会の統一性を維持するため、核としての教皇の地位、そしてキリスト教会の基礎を築いた。その例として(b)修道院活動を支持し、ゲルマン人の一派や(c)イングランドへの布教活動を進めた。
- B この人物は、教皇(d)グレゴリウス 7 世の補佐を務めており、教皇就任後もその遺志を継いで教会改革の路線を忠実に踏襲した。ビザンツ皇帝の要請を受けて、クレルモン宗教会議を招集し、(e)十字軍の派遣を呼びかけた人物としても知られている。
- C この人物は、神聖ローマ皇帝フリードリヒ 2 世と激しく対立し、フリードリヒ 2 世を破門して、皇帝廃位を決定した。そのため、イタリアは教皇を支持するゲルフと皇帝による統一を支持するギベリンに分かれ、激しく対立することとなった。またプラノ=カルピニをモンゴル帝国に派遣したのも、この人物である。
- D この人物はローマの貧民階級の出身者であったが、聖職者の道を歩んで頭角を現し、教皇に就任した。しかし、貧民階級出身の教皇に対して反発する者も多かったため、フランク王国の(f)カール大帝の保護を受けるに至った。その後、東ローマ帝国庇護下にあるコンスタンティノーブル教会と対抗するため、(g)サン=ピエトロ大聖堂にてカール大帝に帝冠を授けた。
- E 教皇が広大な教皇領を支配する(h)封建領主の一面をもちあわせるようになると、贅を尽くした生活をする教皇が現れるようになった。フランス国内の教会に課税を企てた当時のフランス王と対立したこの人物も、そのひとりであった。(i)この人物はフランス王の部下によって軟禁されて退位をせまられ、約 1 ヶ月後に憤死した。

問 1 下線部(a)について、この人物が行った政策について述べた文として正しいものを、次の

①～④から 1 つ選べ。

- ① 一切の偶像を否定するイスラームに対抗するため、聖像禁止令を發布した。
- ② 貴族の大土地所有が広がり、テマ制が崩壊し始めたため、プロノイア制を導入した。
- ③ 帝国領内の全自由民にローマ市民権を与え、ローマ法を万民法とした。
- ④ トリボニアヌスらに命じて、ローマ法の集大成である『ローマ法大全』を編纂させた。

問 2 下線部(b)に関して、修道院および修道会について述べた文として正しいものを、次の①

～④から 1 つ選べ。

- ① ベネディクトゥスによって、イタリアにクリュニー修道院が創設された。
- ② ドミニコ修道会はイタリアのモンテ=カシノに創設された。
- ③ フランチェスコ修道会は、財産の無所有と清貧を強く主張した。
- ④ シトー修道会は、衣服以外に一切の財産を持たない托鉢修道会であった。

問3 下線部(c)に関して、ゲルマン人の大移動の開始からプランタジネット朝成立までのイングランドにおける出来事について述べた文として正しいものを、次の①～④から1つ選べ。

- ① アングロ=サクソン人は大ブリテン島にわたり、七王国をたてた。
- ② アルフレッド大王は諸王国を征服し、イングランドを統一した。
- ③ デーン人の王であったクヌートはイングランドを征服し、ノルマン朝を創始した。
- ④ ロロ率いるノルマン人の一派はイングランドに上陸し、ノルマンディー公国をたてた。

問4 下線部(d)について、グレゴリウス7世は当時の神聖ローマ皇帝ハインリヒ4世と激しく争ったことで知られている。教皇と各国の君主の関係について述べた文として正しいものを、次の①～④から1つ選べ。

- ① フランス王フィリップ2世は、教皇庁をアヴィニョンに移した。
- ② イングランド王ヘンリ2世は教皇インノケンティウス3世と争い、破門された。
- ③ 教皇ヨハネス12世によるオットー1世への戴冠が、神聖ローマ帝国の起源となった。
- ④ 皇帝が教皇の聖職叙任権を認めたヴェルダン条約の成立で、叙任権闘争が終結した。

問5 下線部(e)に関して述べた文として正しいものを、次の①～④から1つ選べ。

- ① 第3回十字軍では、イングランド王リチャード1世がサラディンと講和し、巡礼の安全を確保した。
- ② ルイ9世は第4回、第5回の十字軍を指揮したが、聖地回復の目的を果たすことはできなかった。
- ③ 巡礼の保護のため設立されたドイツ騎士団は、その後東方植民を展開し、ポーランドの前身となった。
- ④ 十字軍の失敗により、遠征を指揮した国王の権威が失墜した。

問6 下線部(f)について、この人物に関して述べた文として正しいものを、次の①～④から1つ選べ。

- ① トゥール・ボワティエ間の戦いでイスラーム勢力を撃退した。
- ② ランゴバルド王国を征服し、さらにザクセン人を従え、領土を拡大した。
- ③ マジャーール人やスラヴ人の侵入を退け、征服活動と共にキリスト教の布教にも努めた。
- ④ ラテン文芸の復興に努め、アンセルムスを始めとして多くの学者を宮廷に招いた。

問7 下線部(g)について、この時代のサン=ピエトロ大聖堂は改築前であり、前庭を持つバシリカ式聖堂であった。下記の写真 A、B の建造物とその建築様式の組み合わせとして正しいものを、次の①～④から1つ選べ。

A



B



- ① A-ビザンツ様式 B-ゴシック様式      ③ A-ビザンツ様式 B-ロマネスク様式  
 ② A-バシリカ様式 B-ゴシック様式      ④ A-バシリカ様式 B-ロマネスク様式

問8 下線部(h)に関して、西ヨーロッパにおける封建社会について述べた文として誤っているものを、次の①～④から1つ選べ。

- ① 封建社会の基盤となった封建的主従関係は、ローマの恩貸地制とゲルマンの従士制に起源がある。  
 ② 農民たちは領主直営地で労働する賦役と、農民保有地から生産物を納める十分の一税を領主より課されていた。  
 ③ 荘園領主は国王の役人が荘園に立ち入ったり、課税したりするのを拒む不輸不入権を有していた。  
 ④ 10世紀以降、三圃制の普及や犁・水車の改良などの農協技術の進歩により、農業生産は増大した。

問9 下線部(i)について、この出来事の後、ローマ教皇庁に対するフランスの支配が強まったことから、イングランド王家とフランス王家の対立を仲裁することができなかったことが百年戦争の一因であった。百年戦争中の出来事について述べた文として誤っているものを、次の①～④から1つ選べ。

- ① ヘンリ7世がテューダー朝を開き、絶対王政の基盤を築いた。  
 ② ワット=タイラーの乱には、ジョン=ボールなどの聖職者も参加していた。  
 ③ ジャンヌ=ダルクがフランス軍を率い、オルレアンを解放した。  
 ④ フスはコンスタンツ公会議において異端とされ、火刑に処された。

問10 A～Eの教皇の在位期間を古いものから順番に並べていくと、最初はA、最後はEとなる。残りのB、C、Dの順番として正しいものを次の①～⑥から1つ選べ。

- ① B → C → D      ② B → D → C      ③ C → B → D      ④ C → D → B  
 ⑤ D → B → C      ⑥ D → C → B



3 次のA・Bの絵画とそれに関する文章を読み、下の設問に答えよ。

A



『(ア)時のエリザベス』ジョージ・カヴァー画(1588年頃)

「このころの海洋貿易はほぼ(a)スペインと(b)ポルトガルに牛耳られており、イギリスの出る幕はなかった。そこで登場したのがフランシス・ドレークをはじめとした自称「探検家」、内実は海賊。(中略)(c)フェリペ2世はイギリスに海賊取り締まりを要求してくる。彼女は何喰わぬ顔で承諾したが、とうぜんながら効果はない。まもなくスペイン側も、裏で操っているのが女王本人と気づく。1588年の「(ア)」はこうして始まった。(中略)(d)エリザベスがこの勝利を大々的に宣伝したのは当然であろう。また、このときの勝利をさっそく肖像画にした(上図)。背後の壁には二枚の絵が飾られ、左は湾内で対峙する両軍、右は嵐に沈む敵軍。世界の海を我がものにしようと云わんばかりに、地球儀の上に手をのせる。」(下線引用者)

中野京子『名画で読み解くイギリス王家12の物語』(光文社、2017) p.67-68

問1 (ア)に入る言葉を答えよ。

問2 下線部(a)のアメリカ大陸進出について述べた文から正しいものを1つ選び番号で答えよ。

- ① アフリカからの黒人奴隷の供給請負契約はエンコミエンダと呼ばれた。
- ② ピサロはアステカ帝国を征服し皇帝アタワルパを処刑した。
- ③ バルトロメウ=ディアスはサンサルバドル島に到達した。
- ④ バルボアがパナマ地峡を横断し、太平洋に到達した。

問3 下線部(b)のアジア進出の拠点ではない都市を1つ選び、番号で答えよ。

- ① ゴア
- ② マカオ
- ③ マニラ
- ④ マラッカ

問4 下線部(c)の君主のときに起こったできごとではないものを1つ選び、番号で答えよ。

- ① スペイン継承戦争でルイ14世と争った。
- ② ネーデルラントの北部7州はユトレヒト同盟を結成した。
- ③ ポルトガルを併合し、「太陽の沈まぬ帝国」を作った。
- ④ レパントの海戦でオスマン帝国と争った。

問5 下線部(c)について、「フェリペ2世の夢」を描いたエル=グレコはルネサンス期に活躍した画家である。ルネサンス期における人物と関連する語の組み合わせが正しいものを1つ選び、番号で答えよ。

- ① マキアヴェリ — 「デカメロン」                      ② ガリレイ — 「惑星運行の三法則」  
③ ブラマンテ — 「サン=ピエトロ大聖堂」            ④ エラスムス — 「ユートピア」

問6 下線部(d)について、父のヘンリ8世による宗教改革について述べた文で、正誤の組み合わせの正しいものを1つ選び番号で答えよ。

- (あ) 国王至上法(首長法)を制定し、長老制にもとづく神権政治をおこなった。  
(い) アウクスブルクの宗教和議により、諸侯や都市はカトリックか英国国教会を選択できるようになった。

- ① (あ) - 正    (い) - 正                      ② (あ) - 正    (い) - 誤  
③ (あ) - 誤    (い) - 正                      ④ (あ) - 誤    (い) - 誤

B



『 Cromwell と 柩 中の Charles I 』 ( Douglas Sutherland 画、 1831 年 )

「このスチュアート朝二代目に嫁いだのが、(e)ブルボン家のヘンリエッタ・マリアである。(中略)革命から裁判へ至る数年、王妃は、イギリスにもどってはまたフランスへ逃げるを繰り返した。そしてついに1649年、(f)チャールズ一世が「暴君、裏切り者、虐殺者、民衆の敵」という物凄い罪状で首を刎ねられた。(中略)斧で切り離された首は再び元の位置へもどされ、政敵(g) Cromwell の手で今しも蓋を閉じられようとしている。だが勝者に喜びの色はない。この後の展開を知る者が描いたからであろう。(h)王政復古後、 Cromwell の一族郎党は皆殺しになり、本人の遺体も掘り起こされ、改めて斬首の後、長く晒し台に放置されるのである。」(下線引用者)

中野京子『名画で読み解くブルボン王朝12の物語』(光文社、2010) p. 48-54

問7 下線部(e)の王について述べた文で正しいものを1つ選び番号で答えよ。

- ① アンリ4世は三部会の招集を停止した。
- ② ルイ13世は新教側にたって三十年戦争に介入した。
- ③ ルイ14世の頃に七年戦争がおこった。
- ④ ルイ15世は財務総監コルベールのもと重商主義政策をおこなった。

問8 下線部(f)と議会の関係について述べた文で正誤の組み合わせの正しいものを1つ選び番号で答えよ。

- (あ) 議会が「権利の請願」を提出したため、王は議会を解散した。
- (い) 王がカトリック化をはかったため、議会は審査法を制定した。

- ① (あ) - 正 (い) - 正      ② (あ) - 正 (い) - 誤
- ③ (あ) - 誤 (い) - 正      ④ (あ) - 誤 (い) - 誤

問9 下線部(g)について述べた文で誤っているものを1つ選び番号で答えよ。

- ① 独立派に属し、鉄騎隊をもとに軍隊を編成して王党派をやぶった。
- ② アイルランドを王党派の拠点とみなし、征服した。
- ③ 共和政を樹立したのち、護国卿に就任して独裁を行った。
- ④ オランダ船の排除とイギリス貿易の保護を目的に穀物法を制定した。

問10 下線部(h)について述べた文で正誤の組み合わせの正しいものを1つ選び番号で答えよ。

- (あ) ジェームズ2世のころに議会で人身保護法が制定された。
- (い) 王権に寛容なトーリ党と批判的なホイッグ党の二つの党派が成立した。

- ① (あ) - 正 (い) - 正      ② (あ) - 正 (い) - 誤
- ③ (あ) - 誤 (い) - 正      ④ (あ) - 誤 (い) - 誤

4 次の文章を読んで、以下の設問に答えなさい。

たったひとつのパンを盗んで 19 年間の監獄生活をおくることになったジャン=ヴァルジャンの生き方を描く (a) 小説「レ=ミゼラブル」が刊行されたのは 1862 年のことである。

1815 年、南フランス・トゥーロンの監獄を出獄したジャン=ヴァルジャンはディーニュの司教館で銀の食器を盗むが、彼を捕らえた憲兵に対して (b) 司教は「その食器は私が与えたものだ」と証言した上、銀の蜀<sup>しよくだい</sup>台をも彼に与える。この司教との出会いをきっかけに、改心し生まれ変わった彼の激動の後半生がこの小説の主題となっている。

問 1 下線部 (a) の小説の作者を次の中から選び、番号で答えなさい。

- ① ラブレール      ② スタンダール      ③ ユゴー      ④ ソラ

問 2 下線部 (a) の小説が刊行された頃、この作者は当時の為政者と対立して英仏海峡に浮かぶイギリス領チャンネル諸島で亡命生活を送っていた。当時のフランスの状況を述べた文①～④のうち、最も適するものを 1 つ選び、番号で答えなさい。

- ① シャルル 10 世がアルジェリア出兵をおこなった。  
② ブルボン朝の施政に反発したオルレアン公ルイ=フィリップが王位についた。  
③ ナポレオン 3 世が起用したセーヌ県知事オスマンによるパリ大改造が進んでいた。  
④ ブーランジェ將軍を中心とする右翼勢力のクーデタが未遂に終わった。

問 3 下線部 (b) の司教とは、カトリック教会における位階の一つである。フランスにおけるカトリック教会について述べた文①～④を古いものから時代順に並び替えた際に、2 番目にくるものはどれか、番号で答えなさい。

- ① ローマ教皇とのコンコルダート（宗教協約）が締結され、国家と教会の和解が成立した。  
② カトリック勢力とユグノー勢力の対立が、戦争に発展した。  
③ ナントの王令が廃止され、カトリックは国教の地位を与えられた。  
④ 十分の一税の廃止が決議され、カトリック教会の土地・財産が国家によって没収された。

改心したジャン=ヴァルジャンは過去の経歴を隠して (c) 北フランスの町モントルイユ=シュル=メールで、実業家として (d) 技術革新に成功していた。人望を集めた (e) 彼は 1820 年、この町の市長に任命される。薄幸の女性ファンティエヌは、娘コゼットを彼に託してこの世を去る。一方、(f) 囚人だった彼の過去を暴こうとする人物が彼の前に現れる。

問4 下線部(c)に関して、モントルイユ=シュル=メールはフランドル地方に隣接し、中世には毛織物産業で繁栄した町である。フランドル地方における産業革命の進展に関して述べた文①～④のうち、正しいものを1つ選び、番号で答えなさい。

- ① 農奴解放により自由労働力が創出されたことで、主に外国資本によって工業化が進んだ。
- ② 多くの犠牲を出した内戦の後、鉄道建設による国内市場の一体化とともに工業化が進んだ。
- ③ 関税同盟による地域の経済的統一が進んだことにより、重工業を中心に工業化が進んだ。
- ④ 後背地の豊富な石炭・鉄鉱石資源をもとに、イギリスに続いて工業化が進んだ。

問5 下線部(d)に関連して、技術革新について述べた文①～④のうち誤りを含むものを1つ選び、番号で答えなさい。

- ① ワットによって蒸気機関が改良された。
- ② スティーヴンソンによって蒸気船が実用化された。
- ③ カートライトによって力織機が発明された。
- ④ ジョン=ケイによって飛び杼が発明された。

問6 下線部(e)のころのヨーロッパ各国の状況について述べた文①～④のうち誤りを含むものを1つ選び、番号で答えなさい。

- ① 審査法が廃止されるなど、イギリスでは自由主義的改革が始まっていた。
- ② フランスは国内産業の育成のため、大陸封鎖令によってイギリスに対抗していた。
- ③ イギリスは新たな市場の獲得をめざし、ラテンアメリカ諸国の独立を支持した。
- ④ スペインでは、復活したブルボン朝に対して立憲革命が起こった。

問7 下線部(f)に関して、囚われの身となった歴史上の人物についての文①～④のうち、内容の正しいものを1つ選び、番号で答えなさい。

- ① ハイチ独立運動の指導者で黒人奴隷出身のトゥサン=ルヴェルチュールはスペイン軍に捕らえられ獄死した。
- ② 民族運動で投獄された経験のあるコシュートは、青年イタリアを組織して蜂起するが、ロシアの支援を受けたオーストリア軍に鎮圧された。
- ③ オーストリア皇帝の弟マクシミリアンはフランスなどの支援でメキシコ皇帝に即位したが、共和政府軍との戦いに敗れて捕らえられ、処刑された。
- ④ プロイセン=オーストリア戦争直後のイタリア国王ヴィットーリオ=エマヌエーレ2世による教皇領併合をうけて、教皇は自らを「ヴァチカンの囚人」と自称した。

美しい女性に成長したコゼットは、(g) 政治運動を行う自由主義者の若い学生マリウスと愛し合うようになる。父親がわりのジャン=ヴァルジャンはそんな二人を見守るしかなかった。1832年6月、マリウスは(h) 民衆蜂起に参加し(i) パリ市内のバリケードに向かう。

問8 下線部(g)に関して、ウィーン体制下でおこった運動もしくは結社にあてはまらないものを1つ選んで、番号で答えなさい。

- ① チャーティスト運動
- ② ナロードニキ運動
- ③ カルボナリの革命運動
- ④ ブルシェンシャフト運動

問9 下線部(h)の民衆蜂起は1848年、ヨーロッパ全体をゆるがす動乱となる。1848年におきた出来事にあてはまらないものを1つ選び、番号で答えなさい。

- ① オスマン帝国からのギリシアの独立
- ② フランクフルト国民議会の開会
- ③ オーストリア宰相メッテルニヒの失脚
- ④ ルイ=ブランらによる国立作業場の設置

問10 下線部(i)で開かれた1867年の万国博覧会に、日本から徳川幕府と薩摩、佐賀両藩が初参加し、ジャポニズム（日本趣味）流行のきっかけとなった。浮世絵から大きな影響を受けた次の絵画の作者と絵画様式の名称の正しい組み合わせを1つ選び、番号で答えなさい。

- ① ドラクロワ — 野獣派
- ② ドラクロワ — 印象派
- ③ モネ — 野獣派
- ④ モネ — 印象派



「日本娘 (La Japonaise)」ボストン美術館蔵

5 次の中国の各皇帝に関する文章A・Bを読み、以下の設問に答えなさい。

A

皇帝となった始皇帝は、封建制を否定し、郡県制を全国的に施行した。この政策は（あ）の強い進言を受け入れた結果であった。郡県制の施行とともに、(a) 全国の民間所有の兵器が没収され、都の咸陽に集められた。このような兵器の没収は、民衆の抵抗力を削ぐ効果があり、(b) 隋の文帝が南北朝を統一した際も行われた。

天下を統一した始皇帝は、(c) 前220年から各地に皇帝の威光を示すため地方巡幸を行った。第二回巡幸の際に、泰山にて封禪の儀式を行い、神に天下統一を報告したとされる。しかしこの内容は、正確には判明していない。この封禪の儀式を次に行ったのは、前漢の武帝であり、その次は(d) 後漢の光武帝であった。その後第五回の巡幸中に始皇帝は病死した。即位した末子の胡亥が、北方で（い）と争っていた長子の扶蘇と蒙恬を死に追いやったが、そこには(e) 宦官の趙高の策謀があったとされている。秦はこの二世皇帝の代で急速に衰退した。

問1 文章中の空欄（あ）と（い）に入れる語句の組み合わせとして正しいものを、下の①～④のうちから一つ選べ。

- |        |      |        |      |
|--------|------|--------|------|
| ① あー商鞅 | いー匈奴 | ② あー商鞅 | いー柔然 |
| ③ あー李斯 | いー匈奴 | ④ あー李斯 | いー柔然 |

問2 下線部(a)に関して、始皇帝が他に実施した政策と、咸陽の位置を示す右図の〈1〉または〈2〉との組合せとして正しいものを、下の①～④のうちから一つ選べ。



- |                         |        |
|-------------------------|--------|
| ① 政策ー中国初の統一通貨の半両銭を鑄造した。 | 位置ー〈1〉 |
| ② 政策ー中国初の統一通貨の半両銭を鑄造した。 | 位置ー〈2〉 |
| ③ 政策ー衛氏朝鮮を滅ぼし、楽浪郡を設置した。 | 位置ー〈1〉 |
| ④ 政策ー衛氏朝鮮を滅ぼし、楽浪郡を設置した。 | 位置ー〈2〉 |

問3 下線部(b)に関して、隋の歴代の皇帝について述べた文章として正しいものを、下の①～④のうちから一つ選べ。

- 文帝は南朝の梁を滅ぼし、西晋以来の中国全土の統一を成し遂げた。
- 文帝は郷挙里選を廃して、科挙を導入した。
- 煬帝は大運河を完成させ、南北朝時代に開発の進んだ江南を華北と結びつけた。
- 煬帝による新羅遠征失敗を契機に、各地で反乱が起こった。



問4 下線部(c)に関して、紀元前3世紀の中央アジア・南アジアでの出来事について述べた下の文(あ)と(い)の正誤の組合せとして正しいものを、下の①～④のうちから一つ選べ。

(あ) アルサケスがセレウコス朝から独立して、イラン系のパルティアを建国した。

(い) カニシカ王がプルシャブラに都をおき、仏教を保護し、仏典結集も行った。

- ① (あ) - 正 (い) - 正 ② (あ) - 正 (い) - 誤  
③ (あ) - 誤 (い) - 正 ④ (あ) - 誤 (い) - 誤

問5 下線部(d)に関して、下の文(あ)～(え)のうち、光武帝が皇帝として統治している期間の出来事を述べた文の組合せとして正しいものを、下の①～⑥のうちから一つ選べ。

(あ) 「大秦王安敦」の使者が日南郡を訪れた。

(い) 倭の奴国に対して、「漢委奴國王」と刻まれた印章が授与された。

(う) 赤眉の乱が鎮圧された。

(え) 班超が西域都護に任命された。

- ① (あ) - (い) ② (あ) - (う) ③ (あ) - (え)  
④ (い) - (う) ⑤ (い) - (え) ⑥ (う) - (え)

問6 下線部(e)に関連して、中国の宦官が関わった出来事について述べた下の文(あ)と(い)の正誤の組合せとして正しいものを、下の①～④のうちから一つ選べ。

(あ) 蔡倫が改良した製紙法は、唐がウマイヤ朝と争ったタラス河畔の戦いでイスラーム世界に伝播した。

(い) 鄭和は永楽帝の命をうけ、東南アジア、インド洋沿岸地域などに遠征を行った。

- ① (あ) - 正 (い) - 正 ② (あ) - 正 (い) - 誤  
③ (あ) - 誤 (い) - 正 ④ (あ) - 誤 (い) - 誤

## B

武照は、十四歳の時に唐の太宗の後宮に入ったが、太宗没後に尼となった。しかし高宗の即位後に再び後宮に入り、最終的には皇后の地位まで上り詰めた。高宗が政務を行う際に、武照による垂廉聴政すいれんちやうせいが行われ、権力の掌握が次第に見え始めた。高宗の死後、武照は高宗の後を継いだ中宗を早々に廃し、次の睿宗の代には、洛陽を神都と改称し事実上の都とするなど、直接的な政治を執った。武照に対する武力的抵抗も行われたが、これらを抑え、690年に唐を【 A 】と改め、自らを聖神皇帝として中国史上唯一の女帝となった。

(f)皇帝即位後の武照は、科挙による積極的な人材登用を行った。内政においては、すでにほころびが見えだした(g)均田制や府兵制を破綻させることなく維持し、対外的な関係にも大きな亀裂を生じさせなかった。武照は(h)即位当初仏教を尊崇していたが、晩年には不老長生を願い、一時は仏教の下に置いていた道教にも傾倒した。

問7 文章中の空欄【 A 】に入る語句を埋めよ。

問 8 下線部(f)に関して、この出来事以後に起こった出来事として正しいものを、下の①～④のうちから一つ選べ。

- ① 新羅が高句麗を滅ぼした。      ② ウイグルが突厥を滅ぼした。  
③ 吐蕃が建国された。      ④ ハルシャ＝ヴァルダナの国が建国された。

問 9 下線部(g)に関して、これらの制度が作られた当初の特徴を下記にまとめた。この文章の波線部の正誤を判断し、また【      】の内の語句（ア～ウ）から正しいものを選び、その組合せとして正しいものを、下の①～⑥のうちから一つ選べ。

均田制は北魏の孝文帝によって実施された政策で、15歳以上の男子のほか、女性・奴婢・耕牛にも給田された。府兵制は【ア 西魏      イ 東晋      ウ 北周】で実施された政策で、他国との敗戦後の兵力補充政策がその起源とされている。

- ① 正—ア      ② 正—イ      ③ 正—ウ  
④ 誤—ア      ⑤ 誤—イ      ⑥ 誤—ウ

問 10 下線部(h)に関して、中国における仏教・道教について述べた文章として誤っているものを、下の①～④のうちから一つ選べ。

- ① 東晋の法顕は、グプタ朝のインドに赴き、旅行記『仏国記』を著した。  
② 北魏時代に造られた雲崗の石窟寺院の仏像は、ガンダーラ様式・グプタ様式の影響が見られる。  
③ 魏・晋期に老荘思想に基づく哲学議論の清談が流行した。  
④ 北魏の寇謙之は太平道を始め、国家宗教として仏教と対抗して勢力を伸ばした。

6 交易や戦争によって様々な技術やモノが伝播したが、火器もその一つである。火器について述べたA、Bの文章を読み、後の問いに答えよ。

A 火器は、北宋で発明されたとされる。(a)宋代の三大発明の一つ黒色火薬は、軍事に転用され兵器として使用されるようになったが、燃焼効果を期待したものだったため、爆発威力はそれほど大きくなかったとされている。12世紀に金が成立すると、宋は金との抗争の中で火器を使用した。その製造技術は金に流出した。金は、(b)南宋戦でもモンゴル戦でもさかんに火器を使用し、やがてモンゴルに技術が流出する。その過程で「震天雷」がつくられているが、これは鉄缶の中に火薬を入れ爆発させるもので、『蒙古襲来絵詞』の中で「てつほう」と記されたものである(右図)。元は火器の規格化・量産化を進め、元末には金属製銃筒をもつ火器が出現している。また、火器は元からイスラーム、ヨーロッパ世界に伝えられ、それぞれ発達を遂げた。



14世紀半ば、(c)朱元璋は火器の重要性にいち早く気づき、明朝を樹立するとただちに火器製造の専門機関を設立した。そこでは大小の膨大な数の火器が製造されるとともに、技術の機密性保持が図られた。

問1 下線部(a)の発明のうち、火薬以外の二つを書け。

問2 下線部(b)について次の小問に答えよ。


- (i) 南宋の経済的繁栄を示す「江浙(蘇湖)熟すれば天下足る」という文の意味を書け。その際、「江浙」が示す地域を明らかにするとともに、「占城稻」の語句を使用して当時の状況も含めて説明すること。(50字前後で書くこと。)
- (ii) この時代に、火薬の原料の一部である硫黄を宋に輸出して蓄財し、権力を握った日本人は誰か。また彼の一族の盛衰を記した軍記物語の表題を書け。

問3 下線部(c)の施策として正しいものを、次の中からすべて記号で選べ。

- ① 門下省の廃止                      ② 中書省の廃止                      ③ 殿試の導入
- ④ 内閣大学士の設置                ⑤ 軍機処の設置                      ⑥ 一世一元の制の制定

B 16世紀半ば、日本にポルトガル製鉄砲が伝来した。その量産化に成功した織田信長が長篠の戦いで鉄砲隊を活用し、勝利したことは有名である。豊臣秀吉も、(d)朝鮮侵攻に際し鉄砲隊の輪番一斉射撃戦術を使った。一方、明軍の銃は命中度が低いうえに強度も低く、また朝鮮軍は火器を持たなかったため、日本軍の威力は絶大だった。だが戦争が長引く間に、数万の日本兵が捕らえられ、自ら投降する者も出現した。明軍・朝鮮軍は、これら日本人捕虜の多くを斬首刑にしたが、鹵獲した銃・刀とともに自軍の兵士として組み入れることもあった。

朝鮮侵攻が起こった時期には、明国内で反乱が続き、(e)張居正が進めた改革に対して官僚の反発も激しくなっていた。北方では女真との戦いが続き、明の武将の中には、自軍を率いたまま女真の傘下に入る者もいた。その中には日本人捕虜の鉄砲隊も含まれていたため、(f)女真の軍事力は急速に高まった。サルフの戦いでは、朝鮮軍が鉄砲隊を率いて救援したにもかかわらず、明軍は大敗を喫している。これに衝撃をうけ、軍事改革を訴えたのが(g)徐光啓である。彼は日本式銃よりも威力をもつヨーロッパ式銃や「紅夷砲」を、(h)マカオのヨーロッパ人から購入し、ヨーロッパ人技師も集めている。しかし、異民族の力を活用することに対する朝廷の反発は強く、新式火器が明の正規軍に用いられる機会は少なかった。これに対し、女真は新式火器の導入に積極的で、投降する明の武将を優遇した。こうして17世紀半ばに、明が倒れ、(i)清が成立するのである。



『軍器図説』17世紀  
明軍の鉄砲隊

問4 下線部(d)について次の小問に答えよ。

- (i) 朝鮮王朝で官僚を事実上独占した特権的支配階層を何というか。
- (ii) 朝鮮王朝について述べた文①～④のうち、誤りを含むものを一つ選べ。
  - ① 李成桂が樹立した王朝である。
  - ② 訓民正音（ハングル）が制定された。
  - ③ 科挙が実施された。
  - ④ 都は開城に置かれた。

問5 下線部(e)に関連して述べた次の文中の空欄に適切な語句を入れよ。

張居正が政権を握ったころ、税制改革が進みつつあった。(ア)が地方で始まり、全国へと広がりつつあった。張居正はさらに税収増大をはかり、綱紀肅正にも取り組んだ。このため既得権の保持を図る官僚の反感を買い、彼の死後、(イ)書院に拠る官僚を中心に党争が起こった。

問6 下線部(f)について述べた次の文a、bの正誤の組み合わせとして正しいものを、後の①～④のうちから一つ選べ。

- a ヌルハチによって統一され、後金が樹立された。
- b ホンタイジはチャハル部を征服し、国号を「清」に改めた。

- ① a - 正 b - 正    ② a - 正 b - 誤    ③ a - 誤 b - 正    ④ a - 誤 b - 誤

問7 下線部(g)の著わした作品を、次の①～④のうちからすべて選べ。

- ① 『本草綱目』    ② 『農政全書』    ③ 『天工開物』    ④ 『崇禎曆書』

問 8 下線部(h)について述べた次の文 a、b の正誤の組み合わせとして正しいものを、後の①～④のうちから一つ選べ。

a 17 世紀になると、この地はオランダが奪い支配下においた。

b この地は、20 世紀に中華人民共和国領となった。

① a - 正 b - 正      ② a - 正 b - 誤      ③ a - 誤 b - 正      ④ a - 誤 b - 誤

問 9 下線部(i)は、18 世紀に最盛期を迎えるが、新たな火器の製造も技術の刷新も鎮静化した、いわゆる軍縮の時代だった。この最盛期の三人の皇帝の名をすべて挙げよ。

7 次の文章を読み、下の問いに答えなさい。

イスラームの聖典はクルアーン(コーラン)と呼ばれる。これはアラビア語で「詠まれるもの」を意味する。(a)ムハンマドに下された神の啓示は弟子たちによって暗記され、暗誦された。クルアーンが現在のような書物の形となったのは、(b)650年頃にカリフのウスマーンが正典化を命じてからであった。これは、イスラーム世界が拡大する過程で、優秀な暗誦者たちが戦争で亡くなったためであり、また征服地の拡大につれて、伝承に異同が生じたからであった。こうしてテキストが確定されると、それ以外のものは焼却されていった。

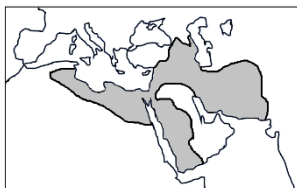
クルアーンは全部で114章から成るが、ヒジュラを境に大きく2つに分けられる。(c)の時代の啓示は各章が短く、唯一神の信仰、多神教の否定、(d)終末と来世に関する警告を内容とする。一方の(e)の時代の啓示は、共同体(ウンマ)の運営のためか(f)社会生活や法規定に関する具体的な記述が多い。

問1 下線部(a)について、次の①～④のうち誤りを含むものを一つ選び記号で答えなさい。

- ① ムハンマドが属したクライシュ族は、アクスム王国の王族であった。
- ② ムハンマドは、唯一神アッラーの啓示を受け、神の使徒と名乗った。
- ③ ムハンマドは、イスラームの神はユダヤ教やキリスト教の神と同じであると説いた。
- ④ ムハンマドは、多神教の神殿であったカーバ神殿をイスラームの聖殿に改めた。

問2 下線部(b)について、当時のイスラーム勢力の支配領域を下の地図①～④から選びなさい。

地図①



地図②



地図③



地図④



問3 文中の(c)と(e)には都市名が入る。その適当な組み合わせを次の①～⑥から選びなさい。

- ① (c)=メディナ (e)=メッカ
- ② (c)=メディナ (e)=イエルサレム
- ③ (c)=イエルサレム (e)=メッカ
- ④ (c)=イエルサレム (e)=メディナ
- ⑤ (c)=メッカ (e)=メディナ
- ⑥ (c)=メッカ (e)=イエルサレム

問4 下線部(d)について、イスラームにおける終末と来世に関する次のX・Yの文を読み、その正誤の組み合わせを①～④から選びなさい。

X 世界の終末におこなわれる「最後の審判」の思想は、ゾロアスター教に起源をもつ。

Y イスラームでは、現世の行いによって来世が決定され、生死をくり返すという思想がある。

- ① X=正 Y=正 ② X=正 Y=誤 ③ X=誤 Y=正 ④ X=誤 Y=誤

問5 下線部(f)について、次の①～④のうち正しいものを一つ選び記号で答えなさい。

- ① ムスリムは、太陽に向かって一日に五回の礼拝をおこなう。
- ② ムスリムは、ラマダーン月に断食をおこない、その間は水以外の物を一切口にしない。
- ③ ヒジュラ暦は、一か月を 29 日か 30 日とし、閏月をおかない純粋な太陰暦である。
- ④ ムスリムは、牛を神の使いの聖なる動物とみなし、食べることが禁じられている。

クルアーンは、ムハンマドに下った啓示の言葉であるため、それを神の言葉そのものと信じることは、イスラームの基本教義の一部である。そして、(g)ムハンマドが啓示についておこなった解説や解釈などの言行(スンナ)がクルアーンに次いで重要となった。こうした言行は伝承とともに集められ、(h)9世紀から10世紀に編纂された。この伝承を(i)という。イスラーム法は、これらの言行と伝承を重要な根拠として成立しているため、イスラーム世界では、法と宗教は密接な関係をもっている。そのため、イスラーム世界では、伝承の収集や法の制定に国家が関与しないことが特徴である。これらの活動をおこなったのは、(j)と呼ばれる知識人であった。(k)彼らはイスラーム世界各地の学院(マドラサ)で学びながら、様々な知識を身につけた。そうして数学・天文学・法学・医学・歴史学・哲学などの諸学を深め、社会秩序の維持や文化の発展に貢献していった。一方で、国家も彼らを必要とし、特に(l)ブワイフ朝以降の軍人政権は政権の正統性を確保し、国家を運営するために彼らの協力を必要とした。

問6 下線部(g)について、このスンナを重視するのがイスラームの多数派であるスンナ派である。

次の①～④のうちスンナ派の政権でないものはどれか。

- ① ウマイヤ朝    ② ファーティマ朝    ③ ホラズム朝    ④ ムラービト朝

問7 下線部(h)について、次の①～④のうち9世紀～10世紀の出来事であるのはどれか。

- ① 第4代正統カリフのアリーが暗殺された。
- ② アッバース朝軍がタラス河畔の戦いで唐軍に勝利した。
- ③ アッバース朝のほかにはファーティマ朝と後ウマイヤ朝でも君主がカリフを称した。
- ④ 第1回十字軍が聖地にエルサレム王国を建国した。

問8 文中の(i)と(j)に適する語句の組み合わせは次の①～④のどれか。

- ① (i)=シャリーア (j)=マワーリー    ② (i)=シャリーア (j)=ウラマー
- ③ (i)=ハディース (j)=マワーリー    ④ (i)=ハディース (j)=ウラマー

問9 下線部(k)について、こうした知識人のうち、天文学者としてはジャラリー暦の制定に参加し、詩人としては『四行詩集』(『ルバイヤート』)を残した人物は次の①～④のどれか。

- ① フィルドゥシー    ② イブン=ルシュド    ③ フワーリズミー    ④ オマル=ハイヤーム

問10 下線部(l)について述べた次の①～④のうち誤りを含むものはどれか。

- ① ブワイフ朝は、アッバース朝カリフからスルタンに任命され、軍事・行政権を委ねられた。
- ② セルジューク朝のトゥグリル=ベクは、アッバース朝カリフの要請によりブワイフ朝を倒した。
- ③ アイユーブ朝は、クルド人武将のサラディンがカイロを都に建国した王朝である。
- ④ マムルーク朝は、アイユーブ朝の奴隷軍人がクーデタで建国した王朝である。

8 次の文章を読んで、以下の設問に答えなさい

18世紀半ばに起こった(あ)により資本主義経済が確立されると、最初に(あ)を経験したイギリスは、(a) 支配地域を利用して自国の経済発展を実現していくようになった。イギリスが不平等条約の締結や(b) 資本の投下などをおこなって支配地域を拡大したことに影響を受けた西欧諸国も、イギリス同様に支配地域の獲得を目指したので、19世紀後半には(い)の時代が到来し、(c) アジアやアフリカが支配された。

強力な軍力で支配を迫る西欧諸国が(d) ウエスタン=インパクト (西洋の衝撃)を各地域に与えていく中で、イスラーム世界で最初に反植民地の思想を唱えたのがアフガーニーである。1838年に生まれた彼は、20代で(e) イギリスによるインド支配を目の当たりにして植民地支配に抵抗することを決意した。その後も(f) オスマン帝国などの各国を遍歴する中で、(g) 71年から8年間はエジプトに滞在して弟子や信奉者と共に学び、その考えの基礎を固めた。宗派・国をこえてイスラームの統一やその復興などを掲げたアフガーニーの思想は、84年にパリで刊行した『固き絆』で広く知れ渡ることとなる。(h) 81年の植民地支配に対する抵抗運動に加え、(i) イランのナショナリズムにも影響を与えたその思想は、パン=イスラーム主義と呼ばれ、アフガーニーは反植民地運動を鼓舞した思想家として西欧社会で認識されていった。

問1 文中の空欄(あ)、(い)の組み合わせが正しいものを次の①～④から選びなさい。

- ① あー商業革命 いー帝国主義      ② あー商業革命 いー国民主義  
③ あー産業革命 いー国民主義      ④ あー産業革命 いー帝国主義

問2 下線部(a)について、イギリスがインドでおこなったこととして不適切なものを次の①～④から一つ選びなさい。

- ① ザミンダーリー制やライヤットワーリー制でインドの人々から地税を収奪した。  
② イギリス製の綿織物を輸出して原料の綿花を輸入した結果、インドの綿工業が衰退した。  
③ 輸送網を形成するため、鉄道の建設に投資がなされてインド全域に鉄道網を拡大した。  
④ 強制裁培制度を導入し、サトウキビやコーヒーなどを栽培させて、安価で買い上げた。

問3 下線部(b)に関連して、ロンドンのシティを中核にした証券・金融業界をリードし、イギリスの経済力を支えた支配階級を何というか。



問4 下線部(c)について述べた次のa、bの正誤の組み合わせが正しいものを次の①～④から選びなさい。

a 北京条約では上海など5港の開港と公行の廃止により、海禁体制が解体した。

b 下関条約で朝鮮が独立国であると認められたことにより、冊封体制が解体した。

- ① a－正 b－正    ② a－正 b－誤    ③ a－誤 b－正    ④ a－誤 b－誤

問5 下線部(d)について、この出来事に直面しておこなわれた次の①～④の西欧型の近代化政策のうち、不適切な政策を一つ選びなさい。

- ① ワッハーブ運動    ② タンジマート（恩恵改革）    ③ 戊戌の変法    ④ 明治維新

問6 下線部(e)について、イギリスがインドを支配するまでにおこなったことについて述べた次のa、bの波線部の正誤の組み合わせが正しいもの次の①～④から選びなさい。

a インド大反乱を鎮圧後、ヴィクトリア女王を皇帝としたインド帝国を成立させた。

b インド大反乱の結果、東インド会社の対インド貿易独占権が廃止された。

- ① a－正 b－正    ② a－正 b－誤    ③ a－誤 b－正    ④ a－誤 b－誤

問7 下線部(f)について、オスマン帝国の領土縮小に関わる①～④の出来事のうち、不適切なものを一つ選びなさい。

- ① カーナティック戦争    ② ギリシア独立戦争    ③ クリミア戦争    ④ ロシア＝トルコ戦争

問8 下線部(g)について、この頃のエジプトは、財政難のためにある会社の株式をイギリスに売却した。世界の交通事情を変えたこの会社を何というか。

問9 下線部(h)について、1881年に起こった抵抗運動について述べた次のa、bの波線部の正誤の組み合わせが正しいもの次の①～④から選びなさい。

a イスラームの「救世主」(マフディー)が、アフガニスタンで抵抗運動を起こした。

b 将校ウラービーが、「エジプト人のためのエジプト」をスローガンに反乱を起こした。

- ① a－正 b－正    ② a－正 b－誤    ③ a－誤 b－正    ④ a－誤 b－誤

問10 下線部(i)について、イランのナショナリズムに影響を与えた次のa～cの出来事について、年代の古い順に並んでいるものとして正しいものを、後の①～⑥から選びなさい。

a バーブ教徒の反乱    b イラン立憲革命    c タバコ＝ボイコット運動

- ① a→b→c    ② a→c→b    ③ b→a→c

- ④ b→c→a    ⑤ c→a→b    ⑥ c→b→a

9 次の文章を読み、設問に答えよ。

2018年、(a)ポーランド、(b)チェコ、バルト三国などは独立から100周年を迎え、各国で記念行事が開催されている。

100年前のヨーロッパでは、(c)サライェヴォ事件を発端に起こった第一次世界大戦は長期化しており、参戦国は疲弊していた。

連合国側で参戦していたロシアでは、1917年に首都(d)ペトログラードでの国際女性デーのデモをきっかけに革命が起こった。帝政は打倒され、臨時政府を抑えて政権を握った(e)ソヴィエト政権はドイツと単独講和交渉に乗り出し、1918年、(f)休戦条約が締結された。

同年、オスマン帝国、オーストリア＝ハンガリー帝国、ドイツ帝国が相次いで連合国側と休戦協定に調印した。

これらの帝国から独立を表明していた国々は、1919年、(g)パリ講和会議において、連合国側に独立が追認された。このときの講和の原則は、アメリカ大統領ウィルソンが1918年1月に発表した(h)十四カ条であった。

このようにして、東ヨーロッパでは、ドイツ、オーストリア＝ハンガリー、ロシアの3帝国が解体したことによって(i)新しい諸国家が誕生した。

問1 下線部(a)の国について述べた次の文A、Bについて正しい組み合わせを1つ選べ。

- A ロシア、プロイセン、オーストリアにより18世紀に分割され消滅した。  
B ソ連が、この国に侵攻したことから第二次世界大戦が勃発した。

- ① A—正 B—正                      ② A—正 B—誤  
③ A—誤 B—正                      ④ A—誤 B—誤

問2 下線部(b)は、チェコスロヴァキア共和国として1918年にどこの国から独立宣言をしたか。次の①～④のうち1つ選べ。

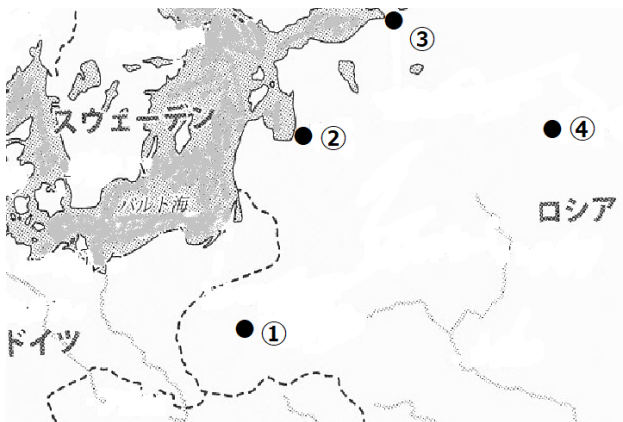
- ① オーストリア＝ハンガリー帝国  
② ドイツ帝国  
③ ロシア帝国  
④ オスマン帝国

問3 下線部(c)について述べた次の文章中の空欄(ア)と(イ)に入れる語の組合せとして正しいものを次の①～④のうちから1つ選べ。

1914年6月28日、(ア)にある都市サライェヴォにて(イ)帝位継承者夫妻が暗殺された。

- ① (ア) — セルビア                      (イ) — ドイツ  
② (ア) — セルビア                      (イ) — オーストリア  
③ (ア) — ボスニア                      (イ) — ドイツ  
④ (ア) — ボスニア                      (イ) — オーストリア

問4 下線部(d)の位置はどこか。地図中①～④のうちから1つ選べ。



問5 下線部(e)について、対ソ干渉戦争について述べた次の文A, Bについて正しい組み合わせを1つ選べ。

- A 日本は、シベリア出兵を行い、ソヴィエト政権を支援した。
- B ソヴィエト政権は、赤軍を強化し、チェカ（非常委員会）を設けて反対派を取り締まった。

- ① A—正 B—正                      ② A—正 B—誤
- ③ A—誤 B—正                      ④ A—誤 B—誤

問6 同じく下線部(e)の経済政策に関連する出来事について述べた次の文 a～c が年代の古いものから順に正しく配列されているものを下の①～⑥のうちから1つ選べ。

- a 戦時共産主義をしいて、穀物の強制的徴発・中小企業にまで及ぶ国有化を行った。
- b 急速な工業化による社会主義建設をめざし、第1次五か年計画に着手した。
- c 農業生産の回復をはかるため、小規模の私企業を認める新経済政策を採用した。

- ① a → b → c    ② a → c → b
- ③ b → a → c    ④ b → c → a
- ⑤ c → a → b    ⑥ c → b → a

問7 下線部(f)が結ばれた地名を選べ。次の①～④のうちから1つ選べ。

- ① ラパロ
- ② ヌイイ
- ③ サン＝ジェルマン
- ④ ブレスト＝リトフスク

問 8 下線部(g)について述べた次の文①～④のうちから誤っているものを1つ選べ。

- ① この会議は連合国側とドイツとの講和条件が話し合われ、その結果、第一次世界大戦の戦争責任はドイツに帰せられた。
- ② 会議の主導権は、ロイド＝ジョージ首相（イギリス）、クレマンソー首相（フランス）、ウィルソン大統領（アメリカ）が握った。
- ③ イギリス・フランス・アメリカ・イタリア・中国の五大国が主に会議を進行したが、ソビエト政権はこの会議の参加国から除外された。
- ④ 国際平和維持を目的に、国際連盟の設立が決定され、ヴェルサイユ条約にて国際連盟規約が盛り込まれた。

問 9 各国の独立は下線部(h)の内容①～④のうちどの内容が適用されたものか。

- ① 秘密外交の廃止
- ② 軍備縮小
- ③ ヨーロッパ諸国の民族自決
- ④ 植民地問題の公正な解決

問 10 下線部(i)について、第一次世界大戦後に成立した国家でないものを次の①～④のうちから1つ選べ。

- ① セルブ＝クロアト＝スロヴェーン
- ② アルバニア
- ③ リトアニア
- ④ フィンランド

10 人間をはじめ動物が生きていくために必要な塩に関する設問に答えよ。

問1 次の文章の（ア）に入る適切な語句と、ティグリス川で洪水がおこる時期との正しい組み合わせを①～⑥より選べ。

紀元前13世紀のメソポタミアでは、都市文明の進展にともなって、鉄・れんが・塩の需要が増大した。これらを生産する過程で大量の薪炭が消費された結果、ティグリス川上流地域の（ア）が進んだ。そして洪水によって運ばれた土砂が、下流地域の灌漑設備にダメージを与えたのである。乾燥地域での灌漑には、耕作地への給水のみならず、地表に上昇してくる塩分を洗い流すという重要な役割もあったため、塩害が進行したのである。

- |        |   |      |        |   |    |
|--------|---|------|--------|---|----|
| ① 森林破壊 | － | 雪どけ期 | ② 森林破壊 | － | 雨季 |
| ③ 大気汚染 | － | 雪どけ期 | ④ 大気汚染 | － | 雨季 |
| ⑤ 地盤沈下 | － | 雪どけ期 | ⑥ 地盤沈下 | － | 雨季 |

問2 次の文章の（イ）に入る適切な語句と、この兵制改革の前にローマ軍の再建を試みた人物との正しい組み合わせを①～④より1つ選べ。

ポエニ戦争後、軍事力の弱体化が深刻となっていたローマでは、紀元前107年に従来の（イ）という原則が廃された。この兵制改革によって、兵士となる者には sal（ラテン語の塩。salary の語源）が支給されるようになった。

- |        |   |               |        |   |         |
|--------|---|---------------|--------|---|---------|
| ① 従士制  | － | リキニウスとセクスティウス | ② 従士制  | － | グラックス兄弟 |
| ③ 市民皆兵 | － | リキニウスとセクスティウス | ④ 市民皆兵 | － | グラックス兄弟 |

問3 中国の歴代王朝は、民生と財政の安定のために塩に関する行政を重視してきた。次のA～Cの3つの王朝に関する文章を読み、小問 i～iv に答えよ。

A：この王朝は、農作物からの税収よりも専売収益と商業税を重視した。とくに塩の収益は中央財政の5～8割に達した。政府は、(a)塩引（塩の販売許可証）を商人に売却して利益を得ていた。塩引は前の王朝より利用されていたが、政府は、銀と連関させることで塩引を事実上の高額補助通貨としたのである。

B：匈奴との戦いで財政が悪化したこの王朝は (b)財政再建策の一環として塩・鉄・酒を専売にした。その成果は必ずしも十分ではなかったが、その後、法家と儒家の間で専売制の是非が論じられ、さらに『塩鉄論』としてその議論の内容がまとめられることとなった。

C：(c)安史の乱の後、財政状況を改善するために、この王朝は塩を専売した。価格10銭の塩が110銭となったが、30年後には370銭にまで値上げされた地域もでてきた。このため“半額”で売る密売業者（塩賊）が各地に現われ、民衆も彼らを支援した。やがてそういった塩賊の反乱が、この王朝の滅亡につながった。

小問 i : 下線(a)に関連して、この王朝では、銅銭にかわり、銀と紙幣の使用がすすめられた。この王朝で使用された紙幣を①～④より1つ選べ。

- ① 交子    ② 交鈔    ③ 会子    ④ 牌符

小問 ii : 下線(b)について、宋代にも、内容は少し異なるが同じ名前の物価調整に関する法律が実施されている。その法律名を答えよ。

小問 iii : 下線(c)は、ユーラシア中央にまで広がる大反乱となった。その一因として、反乱の首謀者たちの出身民族との関係が考えられる。東西交易で活躍していたイラン系民族の名を答えよ。

小問 iv : A～Cの王朝を、時代の古い順に記号で並べよ。

問 4 次の文章の ( ウ ) に入る適切な人名と、マリ・ソングイ両王国の経済・文化の中心となった都市との正しい組み合わせを①～⑥より選べ。

12世紀から16世紀にかけてニジェール川流域のガーナ王国・マリ王国・ソングイ王国の3つの王国では、ムスリム商人がもたらす塩の対価として、砂金を支払う塩金取引が行われていた。14世紀の旅行家である ( ウ ) の『三大陸周遊記』によれば、一般的な隊商のラクダの頭数は1000程度、ときには数千頭の隊商もあったという。

- ① マンサ=ムーサ — キルワ                      ② マンサ=ムーサ — トンブクトゥ  
③ イブン=ハルドゥーン — キルワ              ④ イブン=ハルドゥーン — トンブクトゥ  
⑤ イブン=バットゥータ — キルワ              ⑥ イブン=バットゥータ — トンブクトゥ

問 5 中世ヨーロッパに関する次の文章を読み、小問 i～ii に答えよ。

10世紀の ( エ ) は、領内の塩田で製造した塩を内陸の諸都市に販売していた。やがて ( エ ) は、商売敵である都市の塩田を破壊して、( エ ) 産の塩だけを購入するように販売地域に義務づけた。十字軍の遠征が始まると ( エ ) は、遠征軍の物資などの運搬に携わり、さらに東方貿易にも進出していった。しかしその繁栄の基盤となったのは、塩の独占販売であった。

14世紀初めにフランドルで始まったとされるニシンの樽詰めは、たんぱく質を多く含む食品の保存の点で画期的だった。羊毛・材木・(d)毛皮・塩とニシンの貿易などでハンザ同盟は栄えた。15世紀以降に活躍した航海者や貿易商人の胃袋を満たしたのは、ニシン・タラの塩漬け、そしてハム・ベーコン・ソーセージ(畜肉の塩漬け)であった。塩による食料の保存技術(塩蔵)がヨーロッパの世界進出を支えていたのである。

小問 i : ( エ ) に入る適切な都市と、( エ ) を含む地域がイタリア王国に併合された時期との正しい組み合わせを①～④より選べ。

- |          |   |      |          |   |      |
|----------|---|------|----------|---|------|
| ① フィレンツェ | － | 普仏戦争 | ② フィレンツェ | － | 普墺戦争 |
| ③ ヴェネツィア | － | 普仏戦争 | ④ ヴェネツィア | － | 普墺戦争 |

小問 ii : 下線(d)を入手するために、ハンザ同盟は在外商館の1つをロシアに置いた。その都市はどこか。

問 6 下の文章を読み、下線(e)について、なぜこのようなことが可能となったのか。「塩税」という語句を用いて簡潔に説明せよ。

イギリスによって植民地化が進められたインドでは、19世紀初めに国内の製塩業が崩壊した。東インド会社が綿布を運搬する時にバラスト（船底の重し）として用いた塩の価格がインド産の塩より安かったためである。その後、インドに輸入される塩を独占したイギリスは、インドに対し過酷な塩税を課した。1860年代には塩税は当初の20倍になっていた。

「塩税は権力の濫用だ」と考えたガンディーは、1930年3月12日にアフマダバードから、80人ほどの支持者とともに、ダンディー海岸までの386kmを歩きだした。4月6日早朝、数千人の民衆の前で、ガンディーは浜辺の塩と泥の塊を手にとり、それを煮始めた。そして、その一部始終をマスコミが世界に報道したのである。

(e)「塩の行進」は、インド人を一つにまとめた。大勢の人々がガンディーを見習い、「製塩」を始めた。イギリスの官憲は4月末までに数千人を逮捕し、5月初めには、ついにガンディーも逮捕した。しかし翌1931年、イギリスは、インドでの製塩をみとめた。「塩の行進」は、インドのイギリスからの独立運動の重要な転換点となったのである。

1

出典

明治生命館 <https://www.meijiyasuda.co.jp/enjoy/open/>

サモトラケのニケ

[http://musee.louvre.fr/oal/victoiredesamothraceJP/victoiredesamothrace\\_acc\\_ja\\_JP.html](http://musee.louvre.fr/oal/victoiredesamothraceJP/victoiredesamothrace_acc_ja_JP.html)

クーロス像

[http://www.namuseum.gr/collections/sculpture/archaic/images/4890\\_m.png](http://www.namuseum.gr/collections/sculpture/archaic/images/4890_m.png)

ポセイドン、またはゼウスの像

<http://www.namuseum.gr/collections/sculpture/classical/classic02-en.html>

ラオコーン

<http://www.museivaticani.va/content/museivaticani/en/collezioni/musei/museo-pio-clementino/Cortile-Ottagono/laocoonte.html>

2

問7 A ハギア=ソフィア聖堂

山川出版社『新訂版 流れ図 世界史図録ヒストリカ』2017年 p.87

B ピサ大聖堂

第一学習社『グローバルワイド最新世界史図表 初訂版』2018年 p.151

3

中野京子『名画で読み解くイギリス王家 12 の物語』光文社、2017

中野京子『名画で読み解くブルボン王朝 12 の物語』光文社、2010

9

地図出典：飯倉章『第一次世界大戦史』中公新書、2016年