

社会科標準問題

平成29年度

注意

- 問題は1から10までであるが、そのうち5題を解答すること。
どの5題を解答するかは学校の指示に従うこと。
 - 解答はすべて解答用紙の所定の欄に指示通り記入すること。
 - 所要時間は50分とする。
 - 解答用紙の選択した（または指定された）問題番号の□に○を記入すること。
-

1 歴史サークルに所属する弥生さんと博史さんは「百舌鳥・古市古墳群」が世界文化遺産登録をめざす国内候補に決まったことをニュースで知り、古墳に興味を持ちました。写真を見ながら次の会話を読み、以下の設問に答えなさい。

弥生：夏休みに二人で近^{ちか}つ飛鳥博物館^{だいせんりょう}に行つて来ました。大仙陵古墳（伝仁徳陵）の模型が、とても迫力がありました。図1がその写真です。

顧問：墳丘の長さが日本最大で486m、その周囲に2～3重の（あ）がめぐって全体

の長さは850mにもなる。だから、縮尺150分の1でもあれだけの大きさになるんだね。

弥生：墳丘は三段に築かれていて、斜面に（い）がびっしりと敷かれ、平らなところには円筒埴輪が整然と立て並べられている様子がよくわかりました。

博史：古墳というと、木がうっそうと茂っているイメージがあるけれど、築かれた当時の姿はまったく違ったんですね。白く輝く異様なモニュメント…。

顧問：百舌鳥古墳群も古市古墳群も、大仙陵古墳や（ア）古墳を中心にいくつもの前方後円墳や円墳、方墳で構成されている。建設中のモニュメントが至るところに見える、そんな光景を想像できるかな。

博史：どちらの古墳群も前方後円墳は主に中期に築かれたものだと思いますから、(a) 5世紀のヤマト政権の首長が葬られているんですね。いったいどんな権力者だったのかな。

顧問：中期古墳の副葬品は、前期のように大量の鏡や碧玉製腕飾りなど祭祀具と考えられるものは少なくなるんだ。それに替わって目立つのが鉄製品だね。だから、被葬者の性格は司祭者から武人へと変化したと考えられている。

博史：そう言えば、大量の鉄製品が副葬されている様子を復元した展示がありました。図2がその写真です。

顧問：アリ山古墳の展示だね。この古墳は（ア）古墳に隣接する方墳で、1500本を超す鉄鏃^{てつそく}や80本近い鉄刀などが副葬されていた。埋めるという行為は永遠に使わないことを意味するから、ヤマト政権はそれらをはるかに上回る量の武器を持っていたんだろう。

弥生：大仙陵古墳の模型では後円部の中心に（う）が再現されていましたが、実際に発掘で確認されたんですか。

顧問：大仙陵古墳は宮内庁が仁徳天皇陵として管理していて、発掘調査は行われていないんだ。ただ、明治時代の初めに前方部で（う）が見つかり、その中に長持形石棺が安置されて

いることがわかった。それに、古市古墳群で最初の大型前方後円墳である津堂城山古墳でも大正時代に（う）と長持形石棺が見つまっているから、中期古墳の埋葬施設はおおむねこのスタイルだと考えられている。

弥生：ところで、首長を葬るために大きな墓を造るという行為はいつ頃から始まったんでしょうか。

顧問：弥生時代からだね。今から40年ほど前までは、古墳は突然、出現すると考えられていたけれど、その後、調査が進んで吉備地方や出雲地方などで弥生時代の後半に（イ）が築かれていることが分かり、今では（イ）が前方後円墳のルーツであることが広く認められている。岡山県の[A]遺跡は円形の墳丘の両側に突出部があって全長は推定で80mにもなる。図3は[A]遺跡が築かれた当時の姿を描いた想像図だよ。

弥生：全長が80mもあるのなら、古墳と呼ばばいいんじゃないですか。

顧問：いい質問だ。実は「古墳とは何か」「古墳時代とは何か」という重要な定義の問題があってね、単に大きい墓があるから古墳時代ではなく、前方後円墳が出現して以降の時代を古墳時代と呼ぼうという考え方が主流なんだ。

博史：つまり、前方後円墳が出現する前は弥生時代で、たとえ大きな墓があってもそれは（イ）と呼ぶべきだということですね。

弥生：なぜ、そこまで前方後円墳を重視するんですか。

顧問：前方後円墳には墳形や埋葬施設などに一定の共通点があるし、北は（え）から南は（お）にまで分布している。そこに日本列島的な広がりを持つ政治勢力の成立が読みとれると考えているんだ。

弥生：なるほど。その政治勢力こそがヤマト政権なんですね。

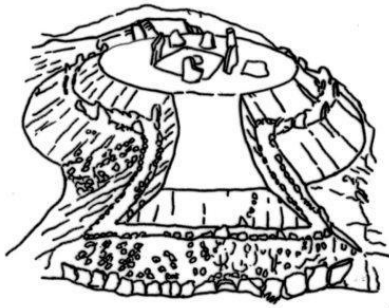
<図1>



<図2>



< 図 3 >



問 1 空欄 (あ) (い) にあてはまる語句の組み合わせとして正しいものを、次のうちから 1 つ選び番号で答えよ。

- ① あー環濠 いー葺石 ② あー周濠 いー葺石
③ あー環濠 いー礎石 ④ あー周濠 いー礎石

問 2 空欄 (ア) には墳丘の長さが全国 2 位で古市古墳群で最大の規模を持つ古墳が入る。古墳名として正しいものを、次のうちから 1 つ選び番号で答えよ。

- ① 箸墓 ② こんだごびょうやま 誉田御廟山 ③ 造山 ④ 稻荷山 ⑤ 高松塚

問 3 文中の下線部 (a) に関して、5 世紀のヤマト政権の最高首長は何と呼ばれていたか。正しいものを次のうちから 1 つ選び番号で答えよ。

- ① 大王 ② 公方 ③ 親魏倭王 ④ 法王 ⑤ 天皇

問 4 空欄 (イ) にあてはまる語句として正しいものを、次のうちから 1 つ選び番号で答えよ。

- ① 甕棺墓 ② 支石墓 ③ 方形周溝墓 ④ 再葬墓 ⑤ 墳丘墓

問 5 空欄 [A] にあてはまる墓の名を漢字 2 文字で答えよ。

問 6 空欄 (え) (お) にあてはまる語句の組み合わせとして正しいものを、次のうちから 1 つ選び番号で答えよ。

- ① えー栃木県 おー鹿児島県 ② えー北海道 おー沖縄県
③ えー岩手県 おー沖縄県 ④ えー岩手県 おー鹿児島県

博史：では、巨大古墳はいつ頃まで造られ続けたんでしょうか。

顧問：前方後円墳の築造は 6 世紀まで続くけれど、しだいに規模は小さくなる。替わって大型の方墳や円墳が築かれるようになり、埋葬施設も (う) から (か) へと替わるんだ。

弥生：小学校の遠足で飛鳥に行ったとき、石舞台古墳を見学しました。大きな (か) の中に入ったことを思い出しました。

顧問：石舞台古墳は一辺が約50mの方墳で、巨石墳として有名だね。この古墳の主は飛鳥時代に厩戸皇子とともに政治の実権を握った（ウ）だという説がある。

博史：でも、同じ飛鳥時代の古墳でも、壁画古墳として有名な（エ）古墳は（か）じゃないですね。

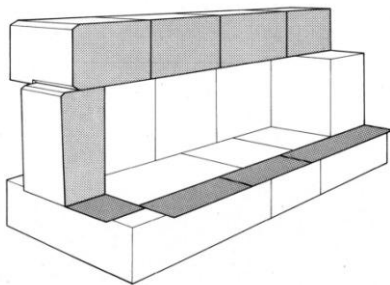
顧問：よく気が付いているね。（エ）古墳の埋葬施設は横口式石槨^{せきかく}と呼ばれるもので、表面を平らに磨いた石を組み合わせて造られ、内法は高さ、幅ともに1mぐらいしかないから中に棺を入れたら余分な空間はほとんどない。1979年に奈良市で直径5mほどの円墳が見つかったんだけど、副葬されていた銅製の墓誌から『古事記』を編纂した（オ）の墓であることが分かった。

弥生：奈良時代には、大きな墳丘を築いたり、豪華な副葬品を納めたりすることをしなくなり、遺体を葬るというお墓本来の役割に戻ったということですね。

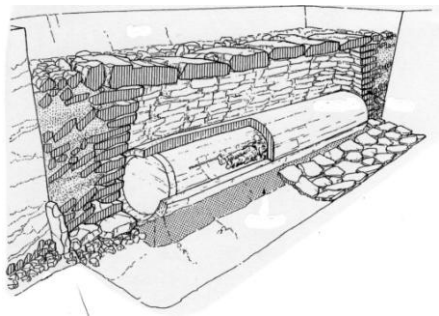
問7 空欄（う）（か）にあてはまる語句に該当する図の組み合わせとして正しいものを、次のうちから1つ選び番号で答えよ。

- ① うーA かーC ② うーA かーD ③ うーB かーC
④ うーB かーD ⑤ うーD かーB ⑥ うーD かーC

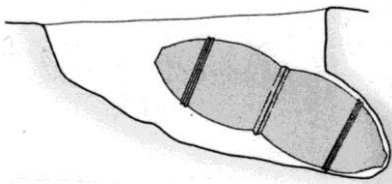
A



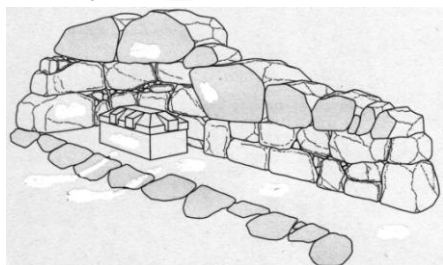
B



C



D



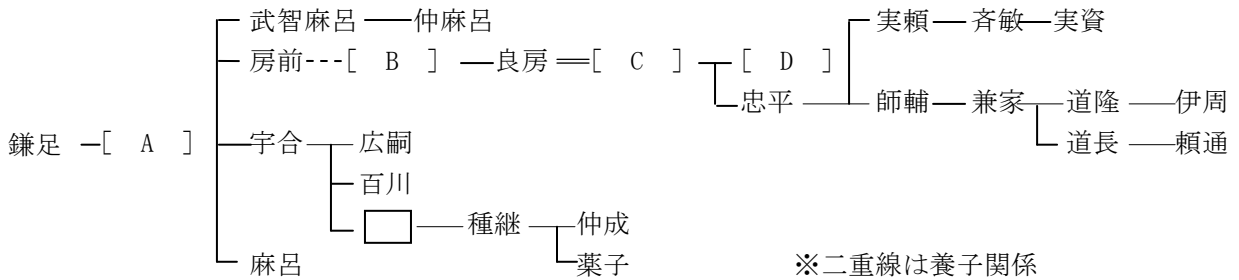
問8 空欄（ウ）（エ）（オ）にあてはまる語句として正しいものを、次のうちから1つずつ選び番号で答えよ。

(ウ) : ① 物部守屋 ② 蘇我馬子 ③ 物部尾輿 ④ 蘇我蝦夷 ⑤ 中臣鎌足

(エ) : ① 箸墓 ② 誉田御廟山 ③ 造山 ④ 稻荷山 ⑤ 高松塚

(オ) : ① 舍人親王 ② 山上憶良 ③ 太安万侶 ④ 柿本人麻呂 ⑤ 持統天皇

2 次の藤原氏の系図とそれに関するあとの文章を読んで、各問に答えなさい。



I [A] は、大宝律令・養老律令の編纂に関わり (a) 天皇家とも婚姻関係を結び、藤原氏繁栄の基礎を固めた。

II [B] は嵯峨天皇の厚い信任を得て蔵人頭に任命された。

III 藤原良房は (b) 842年に謀反を企てたとして伴健岑・橘逸勢らの勢力を斥けた。

IV 良房の養嗣子である [C] は光孝天皇を擁立し、さらに勢力を拡大した。

V 宇多天皇は学者の (ア) を重用したが、続く醍醐天皇のとき [D] は策謀を用いて (ア) を大宰府に左遷し、政界から追放した。

VI 969年の安和の変で (イ) が左遷されると、藤原氏の勢力は不動のものとなった。その後、(c) 藤原氏の内部では摂政・関白の地位をめぐる争いが続いたが、道長のときにおさまった。

問1 文中および系図中 [A] ~ [D] にはそれぞれ共通する人名が入る。その人名 (名のみ) を答えよ。

問2 文中の (ア) (イ) に入る人物名の組み合わせとして正しいものを、次のうちから1つ選び番号で答えよ。

① (ア) 菅原道真 (イ) 源高明 ② (ア) 菅原道真 (イ) 源頼政

③ (ア) 小野篁 (イ) 源高明 ④ (ア) 小野篁 (イ) 源頼政

問3 文中の下線部 (a) について、[A] の娘で729年に皇后に立てられた人物は誰か。

問4 文中の下線部 (b) の事件を何というか。次のうちから1つ選び番号で答えよ。

① 承久の乱 ② 承和の変 ③ 昌泰の変 ④ 阿衡の紛議

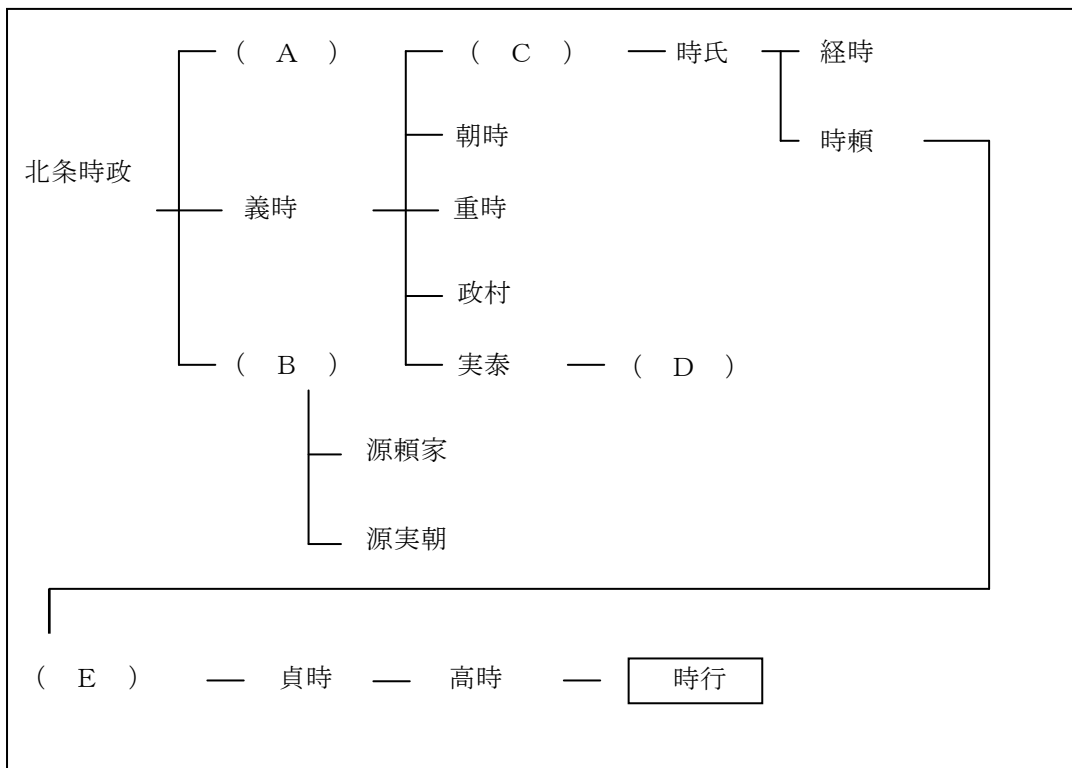
問5 文中の下線部 (c) について、道長と争った人物を、系図中から選んで答えよ。

- 問6 以下の(1)～(3)の各文が示す人物の名前を、系図中から選んでそれぞれ答えよ。
- (1) 光仁天皇を擁立し、政界の刷新をはかった。
 - (2) 孝謙太上天皇の信任を得て勢力を伸ばす道鏡を排除すべく挙兵したが敗れた。
 - (3) 長岡京の造営責任者であったが785年に暗殺された。

問7 系図の人物に関する次の文で、正しいものを1つ選び番号で答えよ。

- ① 藤原広嗣は国博士として登用された高向玄理や旻の排除を求めて反乱を起こしたが鎮圧された。
- ② 藤原仲成・葉子の兄妹は平城太上天皇と結んで嵯峨天皇と対立したが敗れ、これにより藤原京家の勢いは衰えた。
- ③ 藤原良房は応天門の変の処理を通じて伴・紀両氏を没落させた。
- ④ 藤原道長は摂関政治の全盛期を築いたが、地方政治は乱れ始めており、承平・天慶の乱が起こったのはちょうど同じ頃である。

3 次の北条氏の系図を見て、あとの設問に答えよ。



- 問1 次の文は、①～⑤が自らの政策等を語ったものである。①～⑤はそれぞれ誰か答えよ。
- ①：私は子孫とともに、六浦の金沢に金沢文庫を設置し、和漢の書物を集めて学問に励みました。
 - ②：私は承久の乱の時に京都を占拠し、六波羅探題となりました。また、のちに連署として甥を補佐しました。

- ③：元がたびたび朝貢を強要してきたのでこれを拒否しました。その後、元と高い麗の軍勢が日本に押し寄せてきてしまいました。
- ④：この時代は、「女人入眼の日本国」と慈円が著書『愚管抄』で述べています。私は、東で権力を握った女性として紹介されました。
- ⑤：私は、北条氏を中心とした有力御家人の合議政治をめざし、執権政治の体制を整えました。

問2 問1の人物1～5は、上の家系図A～Eに対応している。人物1～5に適当な人物をA～Eのなかからそれぞれ答えよ。

問3 源頼朝没後から幕府が滅亡するまでの間に起きた出来事として、適切なものを次のうちから1つ選び番号で答えよ。

- ① 承久の乱で、幕府は3上皇を配流し、仲恭天皇の即位を図った。
- ② 北条義時は皇族将軍を擁立することに成功した。
- ③ 北条時頼は摂家将軍と結びついた安達泰盛を滅ぼし、北条氏の地位を不動にさせた。
- ④ 元寇後、多くの御家人はわずかな恩賞しか得られず困窮したが、九州の有力御家人の竹崎季長は交渉の結果、恩賞地を得た。

問4 北条氏一門に関する次の出来事を古い順に並び替えよ。

- ① 源頼家を修禅寺に幽閉した。
- ② 後嵯峨上皇の院政下で院評定衆がおかれた。
- ③ 内管領の長崎高資らに実権を委ねた。
- ④ 無学祖元を招き、円覚寺を開いた。

問5 系図中の 時行 は、1335年に鎌倉幕府再興を目的に乱を起こした。この乱の名称を答えよ。

問6 問5の乱の前後に起きた出来事として適切なものを、次のうちから1つ選び番号で答えよ。

- ① 六波羅探題を攻略するなど、天皇側に加担していた足利尊氏は天皇政権に反旗をひるがえした。
- ② 守護や持統の任務と権限を定めた御成敗式目が制定された。
- ③ 御内人の中心人物の平綱頼が有力御家人の安達泰盛を滅ぼした。
- ④ 畿内・西国地方にも多くの地頭が任命され、東国出身の武士が各地に新たな所領をもつようになった。

4 次の文章を読んで、あとの設問に答えよ。

中世は、志や生活・利害を同じくする人間同士が対等の関係で取り結んだ組織や人間関係をあらわす「一揆」の時代である。村落の民衆がつくりあげた惣村や、商工業者が自分達の権益を守るために作った座も一揆の結合である。(a)惣村は名主や国人とよばれる在地領主を中心に自治的に運営され、団結の力で自分たちの要求の実現を求める行動を起こした。

室町幕府8代将軍のとき将軍家で起きた家督争いは、管領家の相続問題ともからみ、幕府の実権争いに発展して(あ)(西軍)と(い)方(東軍)に分かれ(b)応仁・文明の乱がはじまった。乱は京都中心に11年間続いた。戦乱により、幕府の権威は著しく失墜した。守護大名らが戦争で京都に釘付けになっている間に、地方では守護代や国人達が力をのばして守護大名を倒し、領国の実権を握った。このような、(c)下の地位のものが上位のものをしのいで実力を伸ばす風潮の中で、それまでの秩序は壊れ、およそ150年間戦国の世が続いた。守護大名の家督争いが激しくなり、国人達が自分たちの共通の権益を守るため、一揆を結ぶことが

多くなった。中でも(ア)山城国では、応仁・文明の乱後も(ウ)氏の相続争いが長引いていた。(d)1485年、国人や有力農民が平等院で集会して、戦闘を続けている両(ウ)氏に対して国外退去を求め、以後8年間にわたり自治を展開した。また、浄土真宗は本願寺の(エ)が平易な文章で布教し、近畿・東海・北陸地方に広まった。浄土真宗門徒の国人・百姓が中心となり、(イ)加賀国では(e)1488年、守護(オ)氏を倒し、この後約百年間にわたって門徒百姓の一揆が国を支配したため、加賀国は「百姓の持ちたる国」と言われた。また、京都では日蓮宗の(カ)の布教で富裕な商工業者のあいだに日蓮宗が広まった。彼らは法華一揆を結び、一向一揆に対抗し、自治を行った。しかし、比叡山との対立をうんで、(f)1536年京都市中の日蓮宗寺院は比叡山の僧兵による焼き討ちにあった。

問1 空欄(あ)～(か)に入る適語を、次のうちから1つ選び番号で答えよ。

- ① 日親 ② 日蓮 ③ 畠山 ④ 細川 ⑤ 斯波
⑥ 山名 ⑦ 富樫 ⑧ 親鸞 ⑨ 足利 ⑩ 蓮如

問2 下線部(a)について、次の土一揆を古い順に正しく配列したものを、次のうちから1つ選び番号で答えよ。

I 嘉吉の土一揆 II 正長の土一揆 III 播磨の土一揆

- ① I→II→III ② II→III→I ③ III→II→I
④ I→III→II ⑤ II→I→III ⑥ III→I→II

問3 下線部(b)について、この時代から右図のような軽装の兵が活躍するようになった。彼らを何と呼ぶか。

問4 下線部(c)について、この風潮を何というか。


問5 下線部(d)について、この事件を何というか。

問6 下線部(e)について、加賀で一向一揆が自治を行っていた時期の出来事として誤っているものを、次のうちから1つ選び番号で答えよ。

- ① 鉄砲の伝来 ② 三浦の乱
③ 応永の外寇 ④ 寧波の乱

問7 下線部(f)について、この事件を何というか。

問8 下波線(ア)山城国(イ)加賀国は現在の都道府県ではどこにあたるか、それぞれ答えよ。



『真如堂縁起絵巻』

5 次の文章と史料を読んで、あとの設問に答えよ。なお、本文中の引用史料は『信長公記』である。

16世紀半ば、ヨーロッパ人が始めて来航し、思想や文化が日本に伝えられた。この時期に少年時代を送った織田信長はこれらに興味を持つとともに、統一政権の樹立をめざすことになった。1560年には、「御敵今川義元は、四万五千引率し、[A] 山に、人馬の休息これあり。」を、わずか2000の手勢で勝利し、その名を天下にとどろかせた。1568年、畿内を追われていた[B]を奉じて入京した。[B]はその後15代将軍となる。信長は[C]を徴収するため長い間設置されていた「御分国中に数多これある諸関」を「且天下の御為め、且往還の旅人御憐愍の儀をおぼしめされ、」廃止した。さらに1576年から建設を始めた[D]の城下では楽市令を出し、経済を支配してきた座や一切の税を廃止したことは有名である。

信長は比叡山の勢力や一向一揆など仏教勢力と対立したが、異国の宗教であるキリスト教は

保護をした。下の史料Ⅰは(a)京都を追われていた司祭らに、京都での自由な居住を許可したものである。また、異国人のもたらした鉄砲を大量に用いて戦法に変化を与えたのも信長であった。1575年、強敵武田勝頼軍との合戦では、「五月廿一日、辰刻、取り上げ、旗首を押し立て、凱声を上げ、数百挺の鉄砲をどっとはなち懸け、責め衆を追っ払ひ、(あ)の城へ入り、城中の者と一手になり、敵陣の小屋を焼き上」げたという。

信長の政策を基本的に受け継いだ秀吉は、はじめキリスト教の布教を黙認していたが、のち(b)大名の入信を許可制にし、ついで(い)において史料Ⅱを發した。しかし、その(c)取締りは不徹底におわった。秀吉は統一政策として太閤検地・刀狩を実施するとともに史料Ⅲを出し、豊臣秀次が翌年行った戸口調査と合わせて、武士、農民、職・商人の区別を確定させた。

Ⅰ 御朱印 すなわち信長の允許状

[E] が都に居住するについては、彼に自由を与え、他の当国人が義務として行うべきいっさいのことを免除す。我が領する諸国においては、その欲するところに滞在することを許可し、これにつき妨害を受くることなからしむべし。もし不当に彼を苦しめる者あらば、断乎処罰すべし。

永禄十二年四月八日 これをしたたむ (『日本史』)

Ⅱ 一 日本は神国たる 処、きりしたん国より邪法を受け候儀、太 以 然るべからず候事。
(中略)

一 …… [E] の儀、日本の地ニハおかせられ間敷候間、今日より廿日の間に用意仕り帰国すべく候。…

一 黒船の儀は商売の事に候間、各別に候の条、年月を経、諸事売買いたすべき事。

(松浦文書)

Ⅲ 一 奉公人、侍・中間・小者・あらし子に至る迄、(d)去七月奥州 へ 御出勢より以後、新儀ニ町人百姓ニ成候者之在らば、其町中地下人として相 改、一切をくべからず。…

一 在々百姓等、田畠を打捨、或はあきない、或は賃仕事ニ罷出輩之あらば、そのもの事は申すに及ばず、地下中御成敗為るべし。… (小早川家文書)

問1 空欄 [A] ~ [E] にあてはまる語をそれぞれ答えよ。

問2 空欄 (あ) (い) にあてはまる地名の組合せを、次のうちから1つ選び番号で答えよ。

- ① あ一姉川 い一博多 ② あ一姉川 い一長崎
③ あ一長篠 い一博多 ④ あ一長篠 い一長崎

問3 下線部(a)の司祭とは史料Ⅰの『日本史』の著者である。司祭の姓名を答えよ。

問4 下線部(b)の転機となった事件を、次のうちから1つ選び番号で答えよ。

- ① 大村純忠が長崎をイエズス会に寄付していることを、秀吉が知ったため。
② スペイン船の乗組員が、自国が領土拡張に宣教師を利用していると証言したため。
③ 島原・天草地方のキリスト教信徒が団結して領主に抵抗したため。
④ オランダ船を追撃していたイギリス船が長崎に乱入し、乱暴をはたらいたため。

問5 下線部(c)の要因として正しいものを、次のうちから1つ選び番号で答えよ。

- ① 秀吉が、ゴアのポルトガル政庁やマニラのスペイン政庁に入貢を求めたため。
② 秀吉が、翌年海賊取締令を出して倭寇などの海賊行為を禁止したため。
③ 秀吉が、貿易を奨励したが、貿易と布教が一体化して行われていたため。
④ 秀吉が、支倉常長をノビスパン経由でローマ教皇の下へ使者として派遣したため。

問6 下線部(d)により屈服した戦国大名はだれか。次のうちから1つ選び番号で答えよ。

- ① 北条氏政 ② 島津義久 ③ 長曾我部元親 ④ 伊達政宗

6 次の文章を読み、あとの設問に答えよ。

宝暦・天明年間すなわち江戸中期から後期にかけて、三都の繁栄を背景として、武士や町人を担い手とする文化が栄えた。身近な政治や社会の出来事を題材とし、出版物や貸本屋の普及もあって、広く民衆のものとなっていた。

江戸深川出身の〔A〕は、売薬業を営みながら、浮世絵を描いたり様々な執筆活動を行ったりした。彼の作品の中でも深川が舞台の小説である(ア)洒落本については、(a)幕府による風紀引き締めの一環で〔A〕は手鎖^{てぐさり}50日の厳しい処罰を受け、以後は(イ)読本作家に転向した。

駿河國小島藩士で江戸小石川春日町に住んだ〔B〕は、夢に30年の栄華を見た男の小説を書いたことで有名だが、同じ作者の(ウ)黄表紙が幕府の改革を批判したものであるとの理由から、弾圧を受けた。

〔C〕は、世相や風俗を風刺する(エ)川柳を文学のジャンルとして定着させた。

18世紀半ばには、〔D〕が一枚刷りの(b)多色刷浮世絵版画を完成させ、清楚な美人画に傑作を残した。版画作成技術や出版業の発達とともに、浮世絵は黄金時代を迎える。寛政期に多くの美人画を描いた(あ)喜多川歌麿や、個性豊かに役者絵・相撲絵を描いた(い)東洲斎写楽らが、大首絵^{おおくびえ}の手法を駆使してすぐれた作品をつぎつぎに生み出した。




伝統的な絵画では、(う)円山応挙に始まる円山派が写生を重んじ、遠近法を取り入れた立体感のある作品を描いた。また一部の知識人に好まれた文人画では、(え)池大雅や蕪村がこの画風を大成した。

問1 空欄〔A〕～〔D〕にあてはまる人物名を答えよ。

問2 二重傍線部(ア)～(エ)について、その説明として正しいものを次のうちから1つずつ選び番号で答えよ。

- ① 戯作や勧善懲悪を排し、人情や世相をあるがまま写實的に描いた小説。
- ② 江戸で流行した、遊里での遊びなどを描いた短編の遊里小説。
- ③ 好色物、町人物、武家物など、享樂的な浮世(現世)を描いた風俗小説。
- ④ 前句を省略し、五七五の付け句だけを独立させた短詞。
- ⑤ 物語が主体で、勧善懲悪、因果応報の趣旨で書かれた歴史的伝奇小説。
- ⑥ 半紙5枚ほどを1冊にとじた簡単なもので、時事の風刺や滑稽のきいた絵入り小説。
- ⑦ 和歌の上の句と下の句を分けて、即興的に集団で交互に詠み連ねるもの。

問3 太波線部(あ)～(え)について、これらの人物の作品として適当なものを、次のうちから1つずつ選び番号で答えよ。



(写真①～⑨はすべて山川出版社『詳説日本史図録第7版』より引用)

問4 下線部(a)について、この弾圧が行われた際に改革を主導していた人物は誰か。

問5 下線部(b)について、版画は何と呼ばれるか。

7 次の文章を読み、下の設問に答えよ。

三井は江戸時代から呉服店や両替・為替業務を営む豪商であった。明治初期には小野組と共同で第一(a) 国立銀行の設立に関わりながらも、これとは別に三井銀行も明治9(1876)年に営業を開始した。また、同年には(b) 商社として三井物産会社も設立し、(c) 松方財政下で政府から払い下げられた [A] 炭鉱を中核として、明治25(1892)年には三井鉱山会社も設立し、これらが三井の中心事業となった。また、三井とは対称的に、三菱は土佐藩出身の [B] が一代で財をなした。土佐藩の事業を受け継いだ [B] ははじめは海運業を中心とし、台湾出兵の際の輸送を請け負ったことから大久保利通や大隈重信らの保護を受けて政商へと成長した。

しかし、日本銀行が設立されると三井銀行は政府御用達の特権を失い、福沢諭吉の甥で元(d) 鉄道会社社長であった中上川彦次郎を招いて事業の近代化をはかり、(e) 紡績業・製糸業などの分野に進出し、経営の多角化をすすめた。三菱も明治十四年の政変での大隈失脚後は、半官半民の共同運輸会社との激しい競争の結果これと合併して(f) 日本郵船会社となった。さらに後継いだ弟の弥之助の時代には、(g) 高島炭鉱の経営をはじめ、造船業や金融業など経営の多角化が行われた。これらは持株会社を中心に [C] の形をとり、政商から財閥へと成長した。

問1 空欄 [A] ~ [C] に当てはまる語句を答えよ。

問2 下線部(a)について述べた文として正しいものを、次のうちから1つ選び番号で答えよ。

- ① 太政官札や民部省札を発行した。
- ② 内務省の前島密が中心となって制度が整備された。
- ③ 当初は4行のみの設立にとどまった。
- ④ 1876年の国立銀行条例改正で兌換義務が追加された。

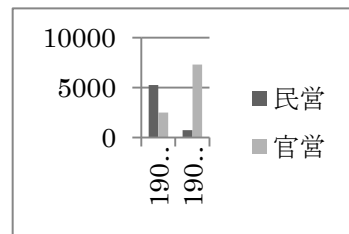
問3 下線部(b)は貿易品を取り扱った商社であるが、それから4年後の1880年に貿易金融を目的に設立され、1887年に特殊銀行となった銀行は何か。

問4 下線部(c)について述べた文として正しいものの組み合わせを、次のうちから1つ選び番号で答えよ。

- a 松方正義はデフレ政策をとったため、不況を招いた。
- b 松方正義はインフレ政策をとったため、紙幣の価値の下落を招いた。
- c 米・繭・生糸などの価格が暴落したため、困窮した農民らによる激化事件を招いた。
- d 米・繭・生糸などの価格が暴落したため、地租収入が減り、政府の財政は苦しくなった。

- ① a・c ② a・d ③ b・c ④ b・d

問5 下線部(d)に関連して、右のグラフでは1905年から1907年の間に営業キロ数で民営鉄道が激減し、官営鉄道が急増している。これは1906年に出された法令によるが、その法令とは何か。



問6 下線部(e)について古い順に並べたものとして正しいものを、次のうちから1つ選び番号で答えよ。

- I 綿糸の輸出量が輸入量を超えた。
 - II 第一回内国勸業博覧会でガラ紡が最高賞を受賞し
 - III 大阪紡績会社が設立された。
- ※縦軸は営業キロ数(km)

- ① I → II → III ② I → III → II ③ II → I → III
- ④ II → III → I ⑤ III → I → II ⑥ III → II → I

- 問7 下線部(f)は、1893(明治23)年にはボンベイ航路を開いたが、その主な目的は何か。
- 問8 下線部(g)に関連して、高島炭鉱では1888年に労働者問題が雑誌『日本人』に発表され問題化した。この頃の社会問題について述べた文として正しいものを、次のうちから1つ選び番号で答えよ。
- ① 農商務省が発行した『日本之下層社会』では、当時の貧民たちの生活の様子が分かる。
 - ② 古河が経営していた足尾銅山では鉱毒事件が起り、吉野作造が明治天皇に直訴を試みた。
 - ③ 初の社会主義政党である日本社会党が結成されたが、治安維持法により直後に禁止された。
 - ④ 高野房太郎らの労働組合期成会の働きなどもあり、19世紀末には組合が結成されはじめた。
- 問9 明治時代の社会・経済について述べた文として正しいものを、次のうちから1つ選び番号で答えよ。
- ① 政府による改革が行われ、自作農が大量に創設された。
 - ② 自作農の没落と地主の土地集積により、大地主が寄生地主化した。
 - ③ 工業生産額が農業生産額を超えて産業構造が変化した。
 - ④ 工業生産額の中では、重化学工業が軽工業を超えた。

8 太平洋戦争の開戦前後から終戦にかけての年表を読み、あとの設問に答えよ。

内閣	年代	事項
東条	1941(昭和16)年10月	日米交渉の継続をのぞむ第3次近衛文麿内閣が総辞職し、東条英機陸軍大臣が組閣。
	11月	アメリカ側から(a)日米交渉の最終案が提示される。
	12月	御前会議で対米英開戦を最終決定する。
	1942(昭和17)年4月	日本陸軍がマレー半島に上陸、海軍もハワイ真珠湾を奇襲攻撃して米英に宣戦布告。太平洋戦争が開始され、瞬く間に東南アジアから南太平洋にかけての広大な地域を次々と制圧。
	6月	総選挙を行い、政府推薦候補者を多数当選させて、当選議員のほとんどを[A]に組織させたため議会は形骸化。
小磯	1943(昭和18)年11月	[B]で主力空母4隻を失い、大敗北を喫する。 (b) <u>占領地域</u> の戦争協力を確保するために東京で[C]を開催。
	1944(昭和19)年7月	(c) <u>サイパン島</u> が陥落。東条内閣総辞職し、陸軍大将小磯国昭と海軍大将米内光政が連立内閣組織。
	1945(昭和20)年2月	クリミヤ半島の(d) <u>ヤルタ</u> で連合国側の3首脳が会談し、 <u>協定締結</u> 。
鈴木	4月	米軍が沖縄本島に上陸、沖縄全土を巻き込む戦闘の末、日本軍が全滅(6月)。 小磯内閣は総辞職し、海軍大将鈴木貫太郎が組閣。
	7月	連合国側の3首脳が会談し、[D]を発表。日本側はこれを黙殺。

東久邇	8月	6日広島・9日長崎に米軍が〔 E 〕を投下。8日にはソ連が対日宣戦を布告して参戦し、満州や朝鮮に侵攻。14日〔 D 〕受諾を連合国側に通告、翌15日ラジオ放送で天皇が戦争終結を全国民に発表。 鈴木内閣は総辞職し、皇族の東久邇宮稔彦が組閣。
	9月	東京湾内の米軍艦ミズーリ号上で(e)降伏文書に調印。太平洋戦争が終結。

問1 文中の空欄〔A〕～〔E〕に適切な語句を答えよ。

問2 文中の下線部(a)に関して、日米交渉にあたりこの最終案を提示したアメリカの国务長官は誰か。次のうちから1つ選び番号で答えよ。

- ① マーシャル ② ダレス ③ リットン ④ ハル ⑤ ランシング

問3 文中の下線部(b)に関して述べた文として誤っているものを、次のうちから1つ選び番号で答えよ。

- ① 日本の過酷な支配に対して、占領地では抗日運動が展開された。
② 姓名を日本風に改めることがすべての占領地域で行われた。
③ 日本軍の兵力不足により、朝鮮や台湾でも徴兵制が施行された。
④ 占領地域の人々へは「アジアの欧米からの解放」をうたって協力を求めた。

問4 文中の下線部(c)以後の出来事として誤っているものを、次のうちから1つ選び番号で答えよ。

- ① 大学・高等学校などに在学中の文科系学生を徴兵する学徒出陣が始まった。
② サイパン島の基地から飛来する米軍機による本土空襲が激化した。
③ 神風特別攻撃隊による米軍艦に対する体当たり攻撃が行われるようになった。
④ 米軍がフィリピン侵攻を開始し、レイテ沖の海戦で連合艦隊は全滅状態となった。

問5 文中の下線部(d)に関して述べた文として正しいものを、次のうちから1つ選び番号で答えよ。

- ① 参加したのはアメリカ、イギリス、中国の首脳であった。
② この時、日本軍の中国および仏印からの撤兵を求めることが決められた。
③ この時、ソ連の対日参戦が約束された。
④ この時、日本軍への無条件降伏と日本の戦後処理方針を勧告することが決められた。

問6 文中の下線部(e)に関して、この降伏文書に調印した日本の首席全権として正しいものを、次のうちから1つ選び番号で答えよ。

- ① 幣原喜重郎 ② 吉田茂 ③ 重光葵 ④ ひがしくにのみやなるひこ東久邇宮稔彦 ⑤ 佐藤栄作

9 次の文章を読んで以下の問いに答えなさい。

1945年10月(a)マッカーサーは、(b)幣原喜重郎首相に明治憲法の自由主義化への示唆を行った。それを受けて同月幣原内閣は、(あ)国务相を中心に憲法問題調査委員会を設置し政府案を作成した。民間でも各政党をはじめさまざまな憲法草案が作成された。1946年2月8日GHQに提出された政府案は、天皇の統治権は大日本帝国憲法のままというような保守的なものだったため、GHQは、マッカーサー草案といわれる英文の憲法草案を短期間で作成し、2月13日、日本政府に示した。マッカーサー草案は、草案の起草自体は短期間だったが、GHQでは前年から憲法改正の研究が進められており、(い)らを中心とした憲法研究会が発表した「憲法草案

要綱」に注目し評価していたといわれている。2月22日政府は、GHQ草案の受け入れを閣議決定し、3月政府は、「憲法改正草案要綱」を発表した。その後、4月に(c)戦後初の総選挙を経て次の(d)第1次吉田茂内閣によって6月に新しく構成された第90回帝国議会にその草案要綱が提出された。そして、議会と(e)枢密院の審議・修正と天皇の裁可を経て「日本国憲法」として1946年11月3日に公布され、翌年5月3日から施行された。この日本国憲法は、国民主権・平和主義・基本的人権の尊重を主な特徴としていた。天皇は、日本国民統合の(う)とされ、国民が直接選挙する国会が国権の最高機関となった。また、(f)第9条において戦争を放棄し、戦力を保持せず、国の(え)は認めないと規定した。

その後、1955年の(g)保守合同後の第3次鳩山一郎内閣は、憲法改正を目的にした憲法調査会を設置し防衛力増強を推進するために国防会議を発足させた。以後、自民党保守陣営の中では、憲法改正・自主防衛を目標とする流れと(h)軽武装・経済重視の流れとが派閥抗争を広げながら、(i)憲法擁護を唱える革新陣営との対立が続くこととなった。

問1 (あ)と(い)にはいる語句の組み合わせとして正しいものを、次のうちから1つ選び番号で答えよ。

- ① あ 松本丞治 い 片山哲 ② あ 松本丞治 い 高野岩三郎
③ あ 片山哲 い 松本丞治 ④ あ 片山哲 い 高野岩三郎

問2 (う)と(え)にはいる語句の組み合わせとして正しいものを、次のうちから1つ選び番号で答えよ。

- ① う 象徴 え 交戦権 ② う 代表 え 交戦権
③ う 象徴 え 自衛権 ④ う 代表 え 自衛権

問3 下線部(a)の説明について正しいものを、次のうちから1つ選び番号で答えよ。

- ① 日本に進駐したマッカーサーは、連合軍最高司令官として日本を直接統治した。
② マッカーサーは、内閣に対して二・一ゼネストを容認するよう指示した。
③ マッカーサーは、内閣に対して日米安全保障条約を締結するよう指示した。
④ マッカーサーは、朝鮮戦争が始まると日本政府に警察予備隊創設を指示した。

問4 下線部(b)の説明について誤っているものを、次のうちから1つ選び番号で答えよ。

- ① 幣原喜重郎は、第一次世界大戦後のワシントン会議において全権委員をつとめた。
② 幣原喜重郎は、田中義一内閣のもとで不戦条約を結んだ。
③ 幣原喜重郎は、加藤高明内閣において外務大臣をつとめ、国際協調路線をとった。
④ 幣原喜重郎は、中国の北伐に対して内政不干渉の方針をとった。

問5 下線部(c)の説明について誤っているものを次のうちから1つ選んで番号で答えよ。

- ① 女性に選挙権が与えられた初めての選挙であった。
② 満20歳以上の成人に選挙権が与えられた初めての選挙であった。
③ この選挙の結果、多数の女性議員が生まれた。
④ 幣原喜重郎を党首とする政党は過半数を確保できず、幣原内閣は総辞職した。

問6 下線部(d)で行われたことではない事項はどれか、次のうちから1つ選び番号で答えよ。

- ① 天皇の人間宣言 ② 農地改革 ③ サンフランシスコ平和条約の調印
④ 公職追放

問7 下線部(e)の説明について正しいものを、次のうちから1つ選び番号で答えよ。

- ① 枢密院は、明治憲法上に位置づけられた天皇の諮問機関であった。
② 枢密院は、憲法改正して日本国憲法下になっても内閣の諮問機関として存続した。
③ 初代の枢密院議長は、山県有朋であった。
④ 枢密院は、緊急勅令を審議・制定するなどの立法機能をもっていた。

問8 下線部 (f) の説明について正しいものを、次のうちから1つ選び番号で答えよ。

- ① 憲法第9条における戦争放棄は、当初政府はすべての戦争の放棄であると考えていた。
- ② 憲法第9条における戦力とは、当初から政府は自衛力を含まないと考えていた。
- ③ 自衛隊発足後、憲法第9条の改正によって自衛隊が憲法上位置づけられた。
- ④ 朝鮮戦争後、自衛隊の海外派遣をめぐって憲法第9条違反かどうか論争が起きた。

問9 下線部 (h) の内閣が行ったこととして誤っているものを、次のうちから1つ選び番号で答えよ。

- ① 日ソ国交回復
- ② 国際連合加盟
- ③ 新教育委員会法公布
- ④ 日韓国交正常化

問10 下線部 (i) の流れに属する内閣として池田隼人内閣がある。池田が行ったこととして誤っているものを、次のうちから1つ選び番号で答えよ。

- ① 農業基本法成立
- ② 沖縄返還
- ③ OECDに加盟
- ④ IMF8条国に移行

問11 下線部 (j) の革新陣営の運動を説明したものとして誤っているものを、次のうちから1つ選び番号で答えよ。

- ① 政府が進めていた再軍備に反対する運動が教職員組合によって各地で展開された。
- ② 社会党左派は、サンフランシスコ講和会議を前にして全面講和の実現を主張した。
- ③ 岸信介内閣による日米安全保障条約改定に際し、連日国会を包囲する反対運動が展開された。
- ④ 日本共産党は、鳩山一郎内閣に中国との国交回復を要求し連日大規模なデモを行った。

10 次の東京都心部の地図を見て、下記の問題にそれぞれ答えよ。



- 問1 地図中のAで発見された土器の様式から弥生土器と後に命名されることになった。この縄文から弥生時代にかけての遺跡を何というか。次のうちから1つ選び番号で答えよ。
① 向ヶ岡貝塚 ② 加曽利貝塚 ③ 鳥浜貝塚 ④ 夏島貝塚 ⑤ 大森貝塚
- 問2 地図中Bは江戸城である。最初に築城したのは扇谷上杉氏の家老太田道灌であった。関東管領上杉氏に関わる次の出来事で最も古いものを、次のうちから1つ選び番号で答えよ。
① 鎌倉公方足利持氏と対立した上杉禅秀が反乱を起こした。
② 足利成氏が上杉憲忠を謀殺したことを発端に享徳の乱が起こった。
③ 足利持氏と上杉憲実の対立を契機に足利義教は永享の乱を起こした。
④ 上杉氏は、扇谷上杉と山内上杉に分裂した。
- 問3 地図中C付近には赤穂浪士の墓がある泉岳寺がある。赤穂事件当時の幕府側用人は誰か。次のうちから1人選び番号で答えよ。
① 間部詮房 ② 大岡忠光 ③ 堀田正睦 ④ 柳沢吉保 ⑤ 田沼意次
- 問4 地図中D付近には貧民を対象にした医療施設の小石川養生所があったが、江戸都市政策を主導した大岡忠相の施策として正しいものを、次のうちから1つ選び番号で答えよ。
① 町火消しの設置 ② 七分積金 ③ 人返しの法 ④ 旧里帰農令
⑤ 人足寄場の設置
- 問5 地図中E付近の高輪東禅寺では、1861年仮公使館として使用されていた東禅寺が水戸脱藩士に襲われる事件が起きた。襲われた国はどこか。次のうちから1つ選び番号で答えよ。
① イギリス ② アメリカ ③ フランス ④ ドイツ ⑤ オランダ
- 問6 地図中F付近には初の鉄道が運行された始発駅新橋がある。次の出来事の中で鉄道開通以前のものを、1つ選び番号で答えよ。
① 内務省設置
② 官営富岡製糸場の開業
③ 東京・大阪間で郵便制度が開始
④ 東京・長崎間に電信開通
- 問7 地図中G付近にあった、内務省が西洋式農業・牧畜技術の導入をはかるため1878年開設された施設は何か。次のうちから1つ選び番号で答えよ。
① 三田育種場 ② 駒場農学校 ③ 農事修学場 ④ 理化学研究所
- 問8 地図中H付近には迎賓館がある。旧赤坂離宮のこの建物を設計した人物は誰か。次のうちから1人選び番号で答えよ。
① 片山東熊 ② コンドル ③ 辰野金吾 ④ ラグーザ ⑤ ライト
- 問9 地図中I付近には、東京裁判で裁かれた戦犯を収容した東京拘置所（巣鴨プリズン）があった。絞首刑となった広田弘毅に関する記述として最も正しいものを、次のうちから1つ選び番号で答えよ。
① 独ソ不可侵条約に対して「欧州の天地は複雑怪奇」と不信感を述べ、総辞職した。
② 軍部大臣現役武官制を復活させ、日独防共協定に調印した。
③ 汪兆銘の南京政府を成立させたが、陸軍の支持を失い総辞職した。
④ 日中戦争を始め、日独伊三国防共協定、さらに日独伊三国軍事同盟を締結した。
- 問10 地図中J付近では国立競技場の建て替え工事が進行している。1964年東京オリンピック開会式直前に開通したものは何か。次のうちから1つ選び番号で答えよ。
① 名神高速道路 ② 東名高速道路 ③ 山陽新幹線 ④ 東海道新幹線