

# 社会科標準問題

平成 28 年度

---

## 注意

1. 問題は 1 から 9 までであるが、そのうち 5 題を解答すること。どの 5 題を解答するかは学校の指示に従うこと。
  2. 解答はすべて解答用紙の所定の欄に指示通り記入すること。
  3. 所要時間は 50 分とする。
  4. 解答用紙の選択した（または指定された）問題番号の口に○を記入すること。
-

1 次のA・Bの文章を読み、下の設問に答えよ。

A (a)人類の誕生は600万年以上前にさかのぼり、農耕、牧畜は1万年前ごろから始まったとされている。時代が下るにつれ、人々は集落をつくり文明をきざいた。(b)都市国家の形成、金属器の登場、文字の発明は文明の誕生の重要な指標とされている。

問1 文中の下線部(a)に関する説明文の正誤の組み合わせについて、適切なものを選び。

- (I) 原人は石皿や石包丁などの磨製石器を使用していた。  
(II) 旧人は死者を埋葬する習慣があった。
- ① (I) - 正 (II) - 正      ② (I) - 正 (II) - 誤  
③ (I) - 誤 (II) - 正      ④ (I) - 誤 (II) - 誤

問2 文中の下線部(b)に関して述べた文のうち、\_\_\_\_\_部が正しいものを1つ選び。

- ①メソポタミアのウル、ウルクなどの都市国家は、ヒクソスによって形成された。  
②ヒッタイト人は鉄器を使用し、武器と戦車で勢力をほこった。  
③ハンムラビ法典は、石碑にヒエログリフと呼ばれる文字で条文が刻まれている。  
④ヘブライ人の作ったアルファベットは、ギリシア文字やラテン文字の原型となった。

B 前8世紀ごろにはギリシア本土とエーゲ海の沿岸各地に(c)ポリスが成立した。アテネでは、(d)アケメネス朝との(e)ペルシア戦争後、前5世紀に(f)民主政が確立した。前4世紀にはアレクサンドロス大王が東方遠征を行い、ギリシア人とギリシア文化はいっきよに東方へ広がって(g)ヘレニズム文化が形成された。一方、イタリア半島では前6世紀にローマで(h)共和政が樹立され、前1世紀にはローマは地中海沿岸の大部分を支配した。その後(i)帝政となったローマは文化面でギリシアの影響を強く受け、(j)法や建築の分野で様々な文化遺産を残した。

問3 文中の下線部(c)に関して述べた文の正誤の組み合わせについて、適切なものを選び。

- (I) アテネはペロポネソス同盟の盟主となり、エーゲ海に支配権をおよぼした。  
(II) スパルタでは、少数の市民がペリオイコイ、ヘイロータイと呼ばれる被征服民を支配した。
- ① (I) - 正 (II) - 正      ② (I) - 正 (II) - 誤  
③ (I) - 誤 (II) - 正      ④ (I) - 誤 (II) - 誤

問4 文中の下線部(d)に関して述べた文のうち、正しいものを1つ選び

- ①キュロス2世は全土を州に分け、サトラップをおき監察官を巡回させた。  
②ゾロアスター教における最後の審判の思想はユダヤ教やキリスト教に影響を与えた。  
③ダレイオス3世は、新都ペルセポリスを造営した。  
④ガラス器、銀器などの工芸品はシルクロードを通じて日本にも伝わった。

問5 文中の下線部(e)に関する著作『歴史』を残した人物は誰か。正しいものを1つ選び。

- ①ヘロドトス      ②ソフォクレス      ③トゥキディデス      ④ヘシオドス

問6 文中の下線部(f)に関して述べた文を読み、正しいものを1つ選び。

- ①ソロンは土地、財産に応じて参政権と兵役義務を配分する財産政治を行った。  
②ペイシストラトスは慣習法を成文化し、貴族に有利な法解釈を防いだ。  
③ペリクレスはオストラシズム(陶片追放)を実施し、僭主政治の出現を防いだ。  
④クレイステネスは無産市民に土地を分配し、僭主政治を行った。

問7 文中の下線部 (g) に関して述べた文を読み、誤っているものを1つ選べ。

- ①アレクサンドロス帝国は、大王の死後、部下の将軍たちが後継者争いを起こし、分裂した。
- ②ヘレニズム時代の哲学・思想は、世界市民主義（コスモポリタニズム）が特徴であった。
- ③セレウコス朝シリアから、バクトリア、パルティアが独立した。
- ④エジプトにはプトレマイオス朝が成立し、首都のカイロは政治と文化の中心となった。

問8 文中の下線部 (h) に関して述べた文を読み、誤っているものを1つ選べ。

- ①リキニウス・セクスティウス法では、執政官の1名を平民から選出することが決められた
- ②グラックス兄弟は大土地所有の制限と無産市民への土地の分配を行った。
- ③ホルテンシウス法では平民会の決議は元老院の承認がなくとも法律となることが決められた。
- ④カエサルはポンペイウス、レピドゥスと第一回三頭政治を行った。

問9 文中の下線部 (i) に関して述べた文を読み、誤っているものを1つ選べ。

- ①トラヤヌス帝の時代に、ローマ帝国の領土は最大となった。
- ②ネロ帝はキリスト教を公認するミラノ勅令を出した。
- ③テオドシウス帝はキリスト教を国教とした。
- ④ディオクレティアヌス帝は四帝分治制（テトラルキア）を行った。


問10 文中の下線部 (j) について。次の3つの写真の建造物のうち、ローマ人によって建設されたものが2つある。その2つを選び、さらにそれぞれの説明が正しい組み合わせを選べ。



(a)



(b)



(c)

出典： 帝国書院 “歴史写真の部屋 世界-古代”

- (I) 人間と野獣の戦いなどの見世物が行われ、無産市民の不満のはけ口ともなった。
- (II) 娯楽の場として建設され、最大のものはカラカラ帝によって作られた。

- ① (a) — (I)、(b) — (II)
- ② (a) — (I)、(c) — (II)
- ③ (b) — (I)、(a) — (II)
- ④ (b) — (I)、(c) — (II)
- ⑤ (c) — (I)、(a) — (II)
- ⑥ (c) — (I)、(b) — (II)

2 次の文章を読んで下線部に関する問に答えなさい。

中世のヨーロッパでは、有力な政治勢力を失った地域の支配者は、外敵の侵入から自分自身の財産と支配下の人々を守るため、(a)城砦(じょうさい)を建設した。城砦の建設者である領主は、領民の安全を保障する代わりに、(b)領内で強力な権力を行使して人々を支配した。また、広い支配領域を持つ有力な領主は、その支配をさらに拡大するため、中小の領主たちと(c)封建的主従関係を結ぶようになった。

このようにして形成された封建社会は、(d)フランク王国が分裂すると、各地域において様々なかたちで展開した。11世紀から13世紀にかけて(e)フランス王国では、国王を頂点として、公・伯・(f)騎士などからなる封建的ピラミッドが形成されたが、イングランド王国との(ア)を経て諸侯や騎士は衰退し、15世紀後半には封建社会から国王による中央集権国家に変容した。また、10世紀から(イ)が開始された(g)イベリア半島では、(h)キリスト教諸国が封建国家を発展させた。一方、(i)神聖ローマ帝国では領邦国家が形成され、封建社会が維持された。

問1 文中の空欄(ア)と(イ)に適する出来事の組み合わせとして正しいものを次の①～④から選びなさい。

- ① アー百年戦争 イーレコンキスタ      ② アー百年戦争 イーツフト闘争  
③ アーバラ戦争 イーレコンキスタ      ④ アーバラ戦争 イーツフト闘争

問2 下線部(a)について、中世ヨーロッパで建設された城砦を下の①～④のうち1つ選びなさい。



①



②



③



④

- ① 帝国書院『最新世界史図説タペストリー』より転載  
② 東京法令出版『ビジュアル世界史』より転載  
③、④ 山川出版『詳細世界史図録』より転載

問3 下線部(b)について、領主が領内で行使した権力に関する説明文が誤っているものを選びなさい。

- ① 領民に対して、賦役や十分の一税を課した。  
② 粉ひき水車やパン焼き窯などの施設の使用に税を課した。  
③ 領主の意思によって決断が下される領主裁判権を行使した。  
④ 領外からやってくる商人たちから通交税を徴収した。

問4 下線部(c)について、述べた下のI・IIの文章の正誤の組み合わせとして正しいものを選びなさい。

I 封建的主従関係は、ローマの従士制とゲルマンの恩貸地制度に起源がある。

II 主君が契約に違反すれば家臣は服従の拒否ができる、という双務的契約が特徴である。

- ① I-正 II-正      ② I-正 II-誤  
③ I-誤 II-正      ④ I-誤 II-誤

問5 下線部(d)について、フランク王国の発展について述べた下のI・IIの文の正誤の組み合わせとして正しいものを選びなさい。

A ゲルマン諸族はアタナシウス派を信仰していたが、フランク人のみアリウス派に改宗した。

B カールの戴冠により、ビザンツ帝国への対抗勢力としての「西ローマ帝国」が復活した。

- ① I－正 II－正      ② I－正 II－誤  
③ I－誤 II－正      ④ I－誤 II－誤

問6 下線部(e)に関連して、フランス国王について述べた文が誤っているものを選びなさい。

- ① パリ伯のユーグ＝カペーはカロリング朝の断絶をうけて、選挙によって王位についた。  
② フィリップ2世はイングランド国王ジョンからフランス国内の領土を奪った。  
③ ルイ9世はアルビジョワ十字軍を派遣して南フランスまで勢力を拡大した。  
④ シャルル7世は聖職者課税問題を有利に解決するため三部会を招集した。

問7 下線部(f)について、騎士の文化について述べた下のI・IIの文の正誤の組み合わせとして正しいものを選びなさい。

I 『アーサー王物語』や『カンタベリー物語』などの騎士道文学は口承され文章につづられた。

II 各地の宮廷をめぐり歩き、騎士の理想や愛などをうたった詩人を吟遊詩人という。

- ① I－正 II－正      ② I－正 II－誤  
③ I－誤 II－正      ④ I－誤 II－誤

問8 下線部(g)について、イベリア半島での出来事について述べた文として正しいものを選びなさい。

- ① ピレネー山脈を越えて侵入した後ウマイヤ朝の軍隊をカール＝マルテルが退けた。  
② トレドでは、アラビア語からラテン語への翻訳作業が大規模に行われた。  
③ カスティリヤ王国とレオン王国の統合により、スペイン王国が成立した。  
④ ナスル朝の首都コルドバにアルハンブラ宮殿が建設された。

問9 下線部(h)に関連して、キリスト教諸国を建設した団体と関係の深い国との組み合わせとして誤っているものを選びなさい。

- ① 第1回十字軍－イェルサレム王国      ② 第4回十字軍－ラテン帝国  
③ ドイツ騎士団－プロイセン公国      ④ テンプル騎士団－キプロス王国

問10 下線部(i)に関連して、神聖ローマ皇帝について述べた文のうち、誤っているものを選びなさい。

- ① 教会を統治に利用する帝国教会政策をとり、イタリアに介入した。  
② 皇帝ハインリヒ4世は、叙任権闘争の末に、フランス王に謝罪した。  
③ シュタウフェン朝断絶後の皇帝の不在時期を「大空位時代」という。  
④ 「金印勅書」が発布され、皇帝は七選帝侯の多数決によって選出されるようになった。

3 次の近世ヨーロッパについての文章を読み問いに答えなさい。

教会言語としての(a)ラテン語がカトリックでは典礼で用いられたことは広く知られている。そして、近世において、英語やフランス語がラテン語から「解放」されたという勝利史観をもって、俗語の興隆が語られることが多い。

実際に、ルネサンス・宗教改革を通じて、俗語の地位が向上した。たとえば、1529年に出版された(b)ダンテの『俗語論』を皮切りに、(c)ポルトガル語・イタリア語・(d)フランス語・スペイン語・ネーデルラント語・英語の自言語を賞賛した著作が多く発表されている。

これらの言語の賞賛は、自言語の表現の豊かさを強調し、他言語に対する否定的な意見を述べている。たとえば、16世紀最大の(e)人文主義者といわれる(f)エラスムスは、子どもの教育に関する自著において、フランス語を「野蛮な」言語で「人間のことばとは思えないような・・・耳障りな音」と書いている。一方で、(g)17世紀後半のアンリ・エチエンヌは「イタリア人は吐息をつくようで、スペイン人はうめくよう、ドイツ人はわめき散らし、フランス人は歌う」とフランス語の優越性を強調している。

しかしながら、ラテン語が俗語の語彙に多大な影響を与えたことも伺える。たとえば、英語において、16世紀初めの人文主義者(h)トマス・モアは「不条理」(アブサーディティ)、「誇張する」(エグザジェレイト)といった単語を作り、(i)シェイクスピアは1700語ほどの新語を作ったが多くはラテン語をもとにしたもので、「嫌悪」(アンティパシー)や「広大な」(ヴァスト)など、そのうちの3分の2が社会的に受容されている。(ピーター・バーク『近世ヨーロッパの言語と社会』岩波書店より一部要約)

問1 下線部(a)に関連して、東方正教会が典礼に使っていた言語を次のうちから1つ選べ。

- ① ヘブライ語      ② ギリシア語      ③ ラテン語      ④ ペルシア語

問2 下線部(b)について述べた次の文A,Bについて正しい組み合わせを1つ選べ。

A ロンバルディア地方のミラノ出身である。

B 『神曲』は地獄篇、煉獄篇、天国篇の三篇からなる叙事詩である。

- ① A — 正    B — 正                      ② A — 正    B — 誤  
③ A — 誤    B — 正                      ④ A — 誤    B — 誤

問3 下線部(c)について、15～16世紀のポルトガルについて述べた次の文の中から正しいものを1つ選べ。

- ① 航海王子エンリケは、アメリカ大陸東海岸の探検を行った。  
② バルトロメウ＝ディアスは、インド航路を開拓しカリカットに到達した。  
③ ヴァスコ＝ダ＝ガマは、アフリカ南端に到達し、喜望峰と名付けた。  
④ マゼランは、ポルトガル出身だが、スペイン王の援助で世界周航を試みた。

問4 下線部(d)に関連して16世紀のフランスについて述べた次の文の中から正しいものを1つ選べ。

- ① カペー朝のもと、中央集権国家への道を歩んでいた。  
② 「サンバルテルミの虐殺」で新教徒は大きな打撃を受けた。  
③ ハプスブルク家とは同盟関係を結んでいた。  
④ ルイ13世はナントの王令でユグノー戦争を終結させた。

- 問5 下線部(e)に関して、次の人文主義について述べたA,Bについて正しい組み合わせを1つ選べ。  
 A カトリック教会の神中心の世界観に対して人間そのものの美しさや価値を説いた思想である。  
 B 人文主義者たちは、ギリシア・ローマ古典研究を行ったためキリスト教そのものを否定した。
- ① A — 正 B — 正                      ② A — 正 B — 誤  
 ③ A — 誤 B — 正                      ④ A — 誤 B — 誤

- 問6 下線部(f)は、宗教改革の先駆者である（ア）に影響を与え、ローマ＝カトリック教会を厳しく風刺した『（イ）』を著した。次のうちから正しい組み合わせを1つ選べ。
- ① （ア） — ルター                      （イ） — 『愚神礼賛』  
 ② （ア） — ルター                      （イ） — 『エッセー（随想録）』  
 ③ （ア） — カルヴァン                      （イ） — 『愚神礼賛』  
 ④ （ア） — カルヴァン                      （イ） — 『エッセー（随想録）』

- 問7 下線部(g)に関連してこの時代のヨーロッパについて述べた次の文a～cが年代の古いものから順に正しく配列されているものを下の①～⑥のうちから1つ選べ。
- a グロティウスが『戦争と平和の法』を発表した。  
 b オランダの独立が国際的に承認された。  
 c 神聖ローマ皇帝に対しベーメンの新教徒が反乱を起こした。
- ① a → b → c                      ② a → c → b  
 ③ b → a → c                      ④ b → c → a  
 ⑤ c → a → b                      ⑥ c → b → a

- 問8 下線部(h)について述べた次の文A,Bについて正しい組み合わせを1つ選べ。
- A 国王の離婚問題に賛成したため、当時の最高官職である大法官の地位にのぼりつめた。  
 B 著作『ユートピア』では、第2次囲い込み運動の進行を批判した。
- ① A — 正 B — 正                      ② A — 正 B — 誤  
 ③ A — 誤 B — 正                      ④ A — 誤 B — 誤

- 問9 同じく下線部(h)が仕えたテューダー朝について、次の文の中から誤っているものをひとつ選べ。
- ① ヘンリ7世の即位により、イングランドの内乱は終結した。  
 ② ヘンリ8世は、国王至上法（首長法）によりイギリス国教会をカトリック教会から離脱させた。  
 ③ メアリ1世は、熱心なイギリス国教徒であり、宗教改革が進行した。  
 ④ エリザベス1世の治世にイギリス東インド会社が設立された。

- 問10 下線部(i)の著作でないものを次の中からひとつ選べ。
- ① 『ドン＝キホーテ』                      ② 『ハムレット』  
 ③ 『オセロー』                              ④ 『マクベス』

4 次のA～Eは、10世紀以前にモンゴル高原を本拠として活動した5つの遊牧民族に関する文である。設問に答えよ。

A：8世紀末、(ア)とシルクロードの要衝である北庭をめぐり激しく戦った。

B：トルコ系遊牧民族で、(イ)文字をもとにした遊牧民族独自の文字を初めて使用した。

C：5～6世紀に、中央ユーラシアの内陸部を(ウ)と二分した。

D：紀元前200年の白登山の戦いに勝利した後、数十年間、漢を事実上の属国とした。

E：この民族の一部族である拓跋部が華北に進出し、北魏を建国した。

問1 A～Dにあてはまる遊牧騎馬民族の名を、下の語群より番号で選べ。

①柔然 ②犬戎 ③鮮卑 ④女真 ⑤突厥 ⑥匈奴 ⑦ウイグル ⑧スキタイ

問2 (ア)にあてはまる、もっともふさわしい語句を次のうちから一つ選べ。

①扶南 ②南詔 ③吐蕃 ④渤海

問3 (イ)にあてはまる、もっともふさわしい語句を次のうちから一つ選べ。

①フェニキア ②ブラーフミー ③アルメニア ④アラム

問4 (ウ)にあてはまる民族と、(ウ)が攻撃し衰退させたインドの王朝の正しい組み合わせを次のうちから一つ選べ。(2点)

①エフタル － グプタ朝 ②エフタル － クシャーナ朝

③キルギス － グプタ朝 ④キルギス － クシャーナ朝

問5 Aに関連する説明文の正誤の組み合わせについて、適切なものを選べ。

(I) 安史の乱の際には、唐に援軍を送って、反乱の鎮圧に貢献した。

(II) ササン朝ペルシアで成立した景教が伝わり、広く信仰されていた。

①正 － 正 ②正 － 誤 ③誤 － 正 ④誤 － 誤



問6 Bに関連する説明文の正誤の組み合わせについて、適切なものを選べ。

(I) 6世紀末に東西に分裂した後、西側は隋の煬帝に服属した。

(II) Bが弱体化していた時代に、義浄が陸路でインドのヴァルダナ朝を訪れ、仏教を学んだ。

①正 - 正      ②正 - 誤      ③誤 - 正      ④誤 - 誤

問7 Cの文に関連する東アジアの説明文の正誤の組み合わせについて、適切なものを選べ。

(I) 当時、南朝の宋・斉・梁・陳は、魏が始めた九品中正による官吏採用を行っていた。

(II) 当時、朝鮮半島の北方では、高句麗が強大な勢力を誇っていた。

①正 - 正      ②正 - 誤      ③誤 - 正      ④誤 - 誤

問8 Dに関連する説明文の正誤の組み合わせについて、適切なものを選べ。

(I) 白登山の戦いでは、冒頓単于が漢の武帝を打ち破った。

(II) 後1世紀に南北分裂したDのうち、北方の一派がフン族になったという説がある。

①正 - 正      ②正 - 誤      ③誤 - 正      ④誤 - 誤

問9 Eに関連する説明文の正誤の組み合わせについて、適切なものを選べ。

(I) 北魏の太武帝は、清真教の寇謙之を重用し、中国で最初の大規模な廃仏を行なった。

(II) 北魏の孝文帝は、漢化政策を推し進めるとともに、都を平城に遷した。

①正 - 正      ②正 - 誤      ③誤 - 正      ④誤 - 誤

5 次の文章を読み、問いに答えよ。

中国の大衆小説の一分野である武俠小説は、かつては知識人から蔑視される傾向があったが、深い教養に基づいた金庸(1924～ 存命)、梁羽生(1924～2009)、古龍(1938～1985)らの作品の登場によって、現在では文学としても高い評価を受けている。中でも金庸の作品は歴史を舞台とし、かつ多民族の視点から描かれている。

『天龍八部』(1963)は北宋期を舞台に、四人の若者の冒険を描いた長編である。第一の主人公、段誉(だんよ)は(a)雲南にあった独立国の王子。第二の主人公、喬峯(きょうほう)は(b)遼と戦う英雄として名を馳せていたが実は漢人でないことが暴露され、運命が急転する。第三の主人公、虚竹(こちく)は奇禍に巻き込まれ、少林寺を破門に追いやられる修行僧。段誉・喬峯・虚竹の三人は意気投合して義兄弟の契りを交わし、苦難に立ち向かう。第四の主人公、慕容復(ぼようふく)も漢人ではなく、古の祖国復興のため暗躍する。

『射鵬英雄伝』(1957)の舞台は南宋。(c)華北は女真族の金の領土となっている。主人公ふたりは漢人だが、郭靖(かくせい)はチンギス=ハンの庇護のもとで育ち、楊康(ようこう)は金の皇族の息子として育てられた。彼らは、民族抗争を舞台に数奇な運命をたどる。その続編『神鵬剣俠(原題:神鵬侠侶)』(1959)では金を滅ぼしたモンゴルが、今度は(d)南宋を版図に収めんとして攻勢をかけている。さらにその続編『倚天屠龍記』(1961)では時代は元末へ飛ぶ。主人公・張無忌は(e)モンゴルに対する反乱勢力に身を投じる。

金庸の初期の作品『碧血剣』(1956)の時代は明末である。主人公・袁承志は父に反逆者の汚名を着せた、明の最後の皇帝・崇禎帝と満州族の頭領・ホンタイジを討とうとする。袁承志は(f)反乱軍とも協力し、崇禎帝を自決に追い込むが反乱軍は秩序を維持できず、北から攻勢をかけた清に敗北する。

最長編『鹿鼎記』(1969)は康熙帝の時代となる。

このように、フィクションながら、時代背景をたどりながら興味深く読める歴史小説のジャンルであり、一度手に取ってみることをすすめたい。

問1 下線部(a)の国は、後にモンゴル帝国に滅ぼされる。この国の名を次のうちから1つ選べ。

- ① 大理      ② 南詔      ③ 越南      ④ 大越

問2 下線部(b)の国について、適切な説明を次のうちから1つ選べ。

- ① 契丹人の耶律大石が建国した。  
② 五代の後周の建国を助けた代償として、燕雲十六州を領土に加えた。  
③ 宋をたびたび脅かし、宋が多額の銀や絹を遼に贈ることを条件に和議を結んだ。  
④ 独自の文字を持たず、西夏文字をもちいた。

問3 下線部(c)を決定づけた事件をなんと呼ぶか。次のうちから1つ選べ。

- ① 靖難の役      ② 澶淵の盟      ③ 靖康の変      ④ 土木の変

問4 『射鵬英雄伝』では全真教の関係者が活躍する。この宗教の開祖を次のうちから1つ選べ。

- ① 王建      ② 欧陽脩      ③ 司馬光      ④ 王重陽

問5 『射鵬英雄伝』の主人公、郭靖はチンギス=ハンの命で中央アジアへ遠征する。この時にモンゴル軍が征服した国を次のうちから1つ選べ。

- ① 高麗          ② ホラズム          ③ 西遼          ④ アッバース朝

問6 下線部(d)の企図を達成し、南宋を征服した時の大ハーンはだれか。次のうちから1つ選べ。

- ① フビライ          ② オゴタイ          ③ ハイドゥ          ④ モンケ

問7 下線部(e)の反乱のリーダーの一人で、明の初代皇帝となったのは誰か。次のうちから1つ選べ。

- ① 正統帝          ② 建文帝          ③ 永楽帝          ④ 洪武帝

問8 下線部(e)とほぼ同時期に、朝鮮半島でも変化が起こる。1392年に朝鮮を建国した人物を次のうちから1つ選べ。

- ① 李舜臣          ② 大祚栄          ③ 李成桂          ④ 朱元璋

問9 下線部(f)の反乱のリーダーは誰か。次のうちから1つ選べ。

- ① 呉三桂          ② 李自成          ③ 洪秀全          ④ 史思明

問10 康熙帝の事績を、次のうちから1つ選べ

- ① 山海関から侵入          ② 三藩の乱を鎮圧  
③ 辮髪（お髷）の強制をはじめる          ④ キリスト教の布教を禁止

6 イスラーム世界の形成と発展に関して、以下のA、Bの文章を読み後の間に答えよ。

A 次の史料は、イブン=ジュバイルの旅行記からの抜粋である。彼は12世紀のイベリア半島に生まれたイスラーム教徒で、(a)メッカ巡礼の途上で見聞したことを詳細に報告している。

同月一日〈西暦1183年3月27日〉は日曜日で、われわれが(b)アレクサンドリアに着いてから二日目であった。到着した日に最初見たのは、当地のスルターンに仕える役人たちが船に乗り込んできて、積んできたものすべてを記録したことである。それから船に乗っていたムスリムがひとりひとり呼び出され、名前、(身体の)特徴、国名などが記録された。各自はザカートを支払うため、所持している商品および現金の取り調べを受けた。・・・彼らのうち大部分の者は宗教上の義務(巡礼)を果たすために来ただけで、道中の食糧以外何も所持していなかった。にもかかわらず、一年以上経過した所得であったかどうか問われることもなく、ザカートの支払いを強制されたのである。・・・その間に多くの所持品が、入り乱れる人手と、ひどい混雑のために消失してしまった。このようなひどい卑しめと恥辱を受けたあと、ムスリムたちは解放された。・・・この事件は、明らかに、(c)サラフ=アッディーン〈サラディン〉の名で知られる偉大なスルターンに隠れてなされたものである。・・・

・・・そしてわれわれは前述のラビーウ月十三日木曜日〈西暦1183年8月3日〉、つまり、八月四日第一刻にウムラ門からメッカ——神がそこを守り給いますように——に入った。前述の夜の、われわれの旅の間中、満月が地表にその光線を降り注ぎ、夜はわれわれのためにその覆いをとった。あちこちからラッバイカ、ラッバイカ(ただ今参りました)という声が反響している。そして人々の祈りの声がどよめき、ひたすら神を讃えて祈願していた。時にはラッバイカの言葉が強くなり、また時には熱心な祈りの声が響いた。・・・そうこうしているうちに、前述の日の前述の時に、神の偉大なる聖域であり、神の友イブラーヒームの住まいにわれわれは到着した。・・・それからわれわれは到着のタワーフ(巡回)をし、聖なる御立台で祈り、ムルタザムのところでカアバの垂れ幕にすぎた。・・・

(藤本勝次・池田修監訳 『イブン=ジュバイルの旅行記』講談社学術文庫2009年刊)

問1 下線部(a)、(b)について述べた次の文①～④のうち、正しいものを一つ選べ。

- ① メッカに移住したムハンマドは、この地でイスラーム教団を建設した。
- ② メッカを征服したことで、ムハンマドはアラビア半島全域を支配下においた。
- ③ アレクサンドリアは、ジュバイルの巡礼時、この地を支配する王朝の都であった。
- ④ アレクサンドリアに建設されたアズハル学院では、イスラーム法学が研究された。

問2 下線部(c)について述べた次の文①～④のうち、正しいものを一つ選べ。

- ① クルド人の軍人出身である。
- ② モンゴル軍を撃退した。
- ③ 十字軍にイェルサレムを奪われた。
- ④ メッカ巡礼に向かうマンサ=ムーサを迎えた。

問3 イスラーム教徒の義務は六信五行と呼ばれているが、五行のうち、文中にある「ザカート」と「巡礼」以外の3つを挙げよ。

問4 イベリア半島はこの頃、ベルベル人の王朝に支配されていた。この王朝名を書け。

問5 イブン=ジュバイルと同じ頃にコルドバで生まれ、プラトン、アリストテレスの著書を研究し、注釈書を著わしたイスラーム哲学者はだれか。

B 15世紀から17世紀にかけて、インド洋は「イスラームの海」と呼ばれるほど活発に商取引がおこなわれ、流通の世界的中心として多くの人々を引き付けていた。しかしインド洋は決してムスリム商人だけが活躍していたわけではない。ヒンドゥー教徒やアルメニア正教徒、アラブ系やイラン系、シーア派やスンナ派等、宗教・宗派も民族も異なる様々な人々がそれぞれ共同体をつくり、交易に従事していたのである。16世紀に最盛期を現出させた(d)オスマン、(e)サファヴィー、(f)ムガルの三大イスラーム国家もまた、実に多様な人々によって構成されていた。

問6 下線部(d)について述べた次の文①～④のうち、誤りを含むものを一つ選べ。

- ① コンスタンティノープルを陥落させ、イスタンブルと改名した。
- ② マムルーク朝を滅ぼした際、メッカとメディナを保護下においた。
- ③ プレヴェゼ海戦に敗れたのを契機に、フランスにカピトゥレーションを与えた。
- ④ キリスト教徒の子弟を徴発し、スルタン直属のイエニチェリを設立した。

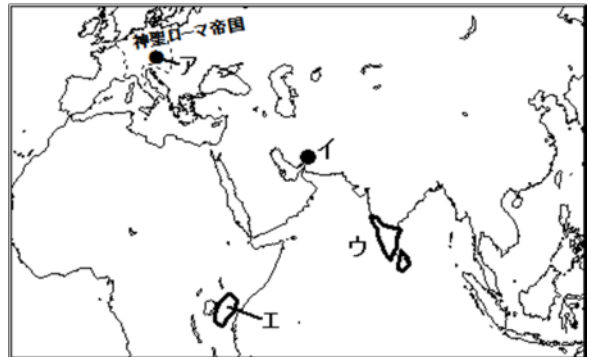
問7 下線部(e)について述べた次の文①～④のうち、誤りを含むものを一つ選べ。

- ① イスマーイールはシーア派の十二イマーム派を国教と定めた。
- ② 16世紀後半にタブリーズからイスファハンに遷都した。
- ③ アッパース1世はオスマン帝国からシリアを奪回した。
- ④ 18世紀にアフガン人の侵入により滅亡した。

問8 下線部(f)の皇帝、アクバルとアウラングゼーブは、異教徒の統治にあたって対照的な政策をおこなった。二人はどのような統治をおこなったのか、50字程度で説明せよ。

### I 16世紀の世界

問9 地図I中のアの都市について述べた文a、bの正誤の組み合わせとして正しいものを、後の①～④のうちから一つ選べ。



- a スレイマン1世治下のオスマン帝国軍が包囲し、ヨーロッパに脅威を与えた。
- b 17世紀末にオスマン帝国軍に征服された。

- ① a－正 b－正    ② a－正 b－誤    ③ a－誤 b－正    ④ a－誤 b－誤

問10 地図I中のイについて述べた文a、bの正誤の組み合わせとして正しいものを、後の①～④のうちから一つ選べ。

- a この地は「世界の半分」と讃えられた。
- b 一時、ポルトガルにより占領されていた。

- ① a－正 b－正    ② a－正 b－誤    ③ a－誤 b－正    ④ a－誤 b－誤

問11 地図I中のウ、エは共にインド洋交易で栄えた国である。国名を書け。

7 次の文章を読み、以下の問いに答えなさい。

イザベラ＝バードは、19世紀のイギリスを代表する(a)女性の旅行家で、明治時代の日本を旅行し、『日本奥地紀行』を著したことで知られている。しかし、実際には彼女の旅は日本だけにとどまらず、世界中におよんだ。彼女の旅は(b)1854年、22歳のときにアメリカとカナダを訪れたのを皮切りに始まり、続いて(c)太平洋地域のイギリス領を旅した。帰国後に旅行記を出版したところ、それが評判となった。1878年に日本を訪れた後はアジアの旅に転じた。日本からの帰りには、アヘン戦争によってイギリス領となった d を経て、(e)東南アジアのマレー半島に立ち寄った後、(f)西アジアのシナイ半島を訪れている。1889年、イザベラは2年の年月を費やして、ヒマラヤの西端から(g)アフガニスタンを訪れ、次いでイラク・イランに入り、黒海の南岸に出る旅に臨んだ。次いで、(h)1894年に激動の朝鮮・沿海州から中国への旅に挑んだ。彼女の旅は私的なものとして始まったが、いずれの旅行記も好評を得たので、次第に国の要人と交流し、その協力を得るようになった。そのため、彼女の旅程からは(i)19世紀後半の大英帝国の影響力の大きさが見えてくる。

問1 下線部(a)について、近代ヨーロッパの女性について述べた次の①～④のうち誤りを含むものを選び、記号で答えなさい。

- ①フランス革命の人権宣言にある「人間および市民」には女性は含まれていなかった。
- ②イギリスでは19世紀の選挙法改正によって女性に参政権が与えられた。
- ③19世紀後半に生産の場（職場）と消費の場（家庭）が分離し、専業主婦となる女性も現れた。
- ④第一次世界大戦で銃後を支えた女性たちは戦後に社会進出するようになった。

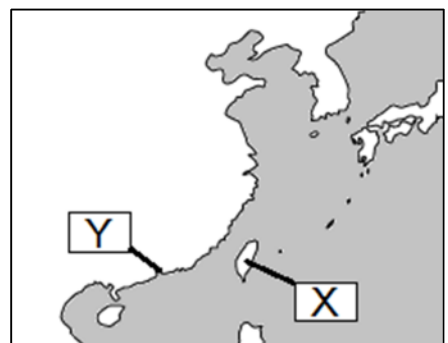
問2 下線部(b)について、この年にアメリカ合衆国では奴隷制に反対する人々が北部の諸州を基盤として新たな政党を設立した。その政党の名称を答えなさい。

問3 下線部(c)について、太平洋地域のイギリス領として正しくないものを次の①～④から選び、記号で答えなさい。

- ①ニューギニア東部      ②ニュージーランド
- ③マリアナ諸島      ④オーストラリア

問4 文中の d に入る地名と右図での位置の組み合わせとして正しいものを①～④から選び、記号で答えなさい。

- ①X－香港    ②Y－香港    ③X－台湾    ④Y－台湾



問5 下線部(e)について、19世紀後半のマレー半島について述べた次のX・Yの正誤の組み合わせを①～④から選び、記号で答えなさい。

X イギリスはペナン・マラッカ・シンガポールをあわせて海峡植民地を形成した。

Y イギリスは、この半島で主にコーヒープランテーションをおこなった。

①X=正 Y=正 ②X=正 Y=誤 ③X=誤 Y=正 ④X=誤 Y=誤

問6 下線部(f)について、このときイザベラ=バードはシナイ半島の西側にある交通の要衝を通っている。1869年に造られた紅海と地中海を結ぶ運河をなんというか。

問7 下線部(f)について、イザベラ=バードがシナイ半島を訪問した1879年には、エジプトにパン=イスラーム主義を説いたイスラームの思想家が滞在していた。その人物の名前を答えなさい。

問8 下線部(g)について、19世紀のこれらの地域について述べた次のX・Yの波線部の正誤の組み合わせを①～④から選び、記号で答えなさい。

X アフガニスタンではイギリスとフランスの対立からアフガン戦争が起こった。

Y イランのサファヴィー朝ではタバコ=ボイコット運動が起こった。

①X=正 Y=正 ②X=正 Y=誤 ③X=誤 Y=正 ④X=誤 Y=誤

問9 下線部(h)について、これらの地域で1894年以降に起こった出来事が時代順に並んでいるのは次の①～⑥のうちどれか。記号で答えなさい。

①甲午農民戦争（東学の乱）→三国干渉→戊戌の政変

②甲午農民戦争（東学の乱）→戊戌の政変→三国干渉

③戊戌の政変→三国干渉→甲午農民戦争（東学の乱）

④戊戌の政変→甲午農民戦争（東学の乱）→三国干渉

⑤三国干渉→戊戌の政変→甲午農民戦争（東学の乱）

⑥三国干渉→甲午農民戦争（東学の乱）→戊戌の政変

問10 下線部(i)について、19世紀後半の大英帝国について述べた次の①～④のうち、内容の正しくないものを記号で選びなさい。

①インド大反乱を鎮圧し、ヴィクトリア女王を皇帝とするインド帝国を成立させた。

②ウラービーの反乱を鎮圧し、エジプトを保護下においた。

③スーダンをめぐるフランスと対立し、ファショダ事件が起こった。

④自由党のグラッドストーン内閣のときにアイルランド自治法が成立した。

8 第一次世界大戦とその後の世界の動向について述べた次の文章を読み、後の設問に答えよ。

1914年6月、(a)バルカン半島北西部のサライエヴォで、セルビア人青年によるオーストリア皇位継承者夫妻暗殺事件が起こった。(b)ドイツの後押しを受けて、オーストリアがセルビアに宣戦布告したことを契機に、第一次世界大戦が始まった。この戦争は当時の複雑な同盟関係からヨーロッパ中に広がり、さらに日本やオスマン帝国などの参戦によって、(c)アジアへと拡大していった。戦闘は開戦国の予想に反して長期化し、国力の全てを戦争に傾ける総力戦となり、銃後の女性や(d)植民地の住民も動員されることとなった。膠着状態となった戦況を少しでも自国に有利なものにするために、各国は次々と新兵器を導入し、様々な(e)秘密外交を行った。1917年にアメリカが参戦し、(f)ロシアで革命が起きると戦局は大きく変化した。さらに1918年11月にはドイツでも革命が起き、共和政が宣言されて、仮政府が連合国と休戦協定を結んだことにより、4年にわたる第一次世界大戦はついに終結した。

戦後のパリ講和会議では、アメリカのウィルソン大統領が戦時中に発表した十四カ条の平和原則が議論の基礎とされた。この条約に続く(g)一連の講和条約によって、ヨーロッパには(ア)体制と称される新たな国際秩序が誕生した。さらに1921年から1922年にかけて開かれた(h)国際会議において締結された諸条約が、アジア・太平洋地域の国際秩序である(イ)体制を成立させた。1920年代には(i)平和実現に向けた取り組みが活発に行われたが、1929年に世界恐慌が起これると、第一次世界大戦後築き上げられてきた国際協調主義や軍縮の流れは断ち切れ、世界は第二次世界大戦へと向かっていくこととなった。

問1 文章中の(ア)、(イ)に入る適語の組み合わせとして、正しいものを次の①～④から1つ選べ。

- ① (ア) ウェストファリア (イ) ウィーン    ② (ア) ウェストファリア (イ) ワシントン  
③ (ア) ヴェルサイユ (イ) ウィーン    ④ (ア) ヴェルサイユ (イ) ワシントン

問2 下線部(a)に関して、第一次世界大戦前のバルカン半島情勢について述べた文として正しいものを、次の①～④から1つ選べ。

- ① ロシアはパン＝ゲルマン主義を掲げてバルカン半島への進出を狙った。  
② オスマン帝国では青年トルコ革命が起き、ミドハト憲法が停止された。  
③ バルカン同盟諸国は、イタリア＝トルコ戦争に乗じてオスマン帝国に宣戦布告した。  
④ ブルガリアは他のバルカン諸国と領土の配分をめぐる争い、大幅に領土を拡大した。



問3 下線部 (b) に関して、第一次世界大戦中にこの国が関わった主な戦闘について述べた文として正しいものを、次の①～④から1つ選べ。

- ① ドイツは大軍を中立国スイスに侵入させ、フランスへと向かわせた。
- ② アメリカ参戦に伴って、ドイツは無制限潜水艦作戦を開始した。
- ③ 初めて戦車が導入されたマルヌの戦いは、各国に膨大な被害者を出した。
- ④ タンネンベルクの戦いでは、ドイツが倍の兵力を持つロシアを破った。

問4 下線部 (c) に関して、第一次世界大戦前後の東アジアについて述べた文 A、B の正誤の組合せとして正しいものを、次の①～④から1つ選べ。

A パリ講和会議で中国が二十一か条問題の解決を求めたため、日本は山東利権を返還せざるをえなかった。

B 民族自決の気運の高まりを受けて、日本に併合されていた朝鮮では三・一運動が起こった。

- ① A - 正 B - 正      ② A - 正 B - 誤      ③ A - 誤 B - 正      ④ A - 誤 B - 誤

問5 下線部 (d) に関して、イギリスの植民地であったインドの第一次世界大戦後の動きについて述べた文として誤っているものを、次の①～④から1つ選べ。

- ① 国民会議派はカルカッタ大会で「プールナ=スワラージ」の方針を決定した。
- ② イギリスはベンガル分割令を出し、インドにおける反英勢力の弱体化を図った。
- ③ ガンディーは非暴力・不服従を説き、全インド=ムスリム連盟と共に抵抗運動展開した。
- ④ インド人の指導者達を招いて開かれた英印円卓会議の後、新インド統治法が制定された。

問6 下線部 (e) に関して、第一次世界大戦中に行われた秘密外交について述べた文として正しいものを、次の①～④から1つ選べ。

- ① ロンドン秘密条約を締結して参戦したイタリアは、大戦後フィウメの領有を認められた。
- ② イギリスは、大戦後パレスチナにユダヤ人国家の建設を認めるバルフォア宣言を出した。
- ③ イギリス・ロシア・フランスの三国は、フサイン=マクマホン協定を結んだ。
- ④ イギリスは、サイクス=ピコ協定で大戦後のアラブ地域独立を約束した。

問7 下線部 (f) の革命について述べた文として正しいものを、次の①～④から1つ選べ。

- ① 第一次世界大戦の影響で生活が困窮した労働者たちは、首都モスクワでデモを起こした。
- ② 皇帝ニコライ2世が退位した後、立憲民主党を中心に臨時政府が樹立された。
- ③ 皇帝退位後、ケレンスキー率いる臨時政府は、全交戦国に即時停戦と平和を呼びかけた。
- ④ レーニン率いるメンシェヴィキは、ソヴィエトに権力を集中することを主張した。

問 8 下線部 (g) に関して、連合国とオーストリアとの講和条約として正しいものを、次の①～④から 1 つ選べ。

- ① サン＝ジェルマン条約    ② ヌイイ条約    ③ トリアノン条約    ④ セーヴル条約

問 9 下線部 (h) に関して、この諸条約の内容について述べた文 A、B の正誤の組合せとして正しいものを、次の①～④から 1 つ選べ。

A 太平洋上の諸領地の現状維持を確認する四カ国同盟が、米・英・中・仏の間で結ばれた。

B 海軍軍縮条約によって、イギリスとフランスは対等の海軍力を有することが認められた。

- ① A - 正 B - 正    ② A - 正 B - 誤    ③ A - 誤 B - 正    ④ A - 誤 B - 誤

問 10 下線部 (i) に関して、平和実現に向けた取り組みについて述べた文として正しいものを、次の①～④から 1 つ選べ。

① 史上初の国際平和維持機構である国際連盟が成立し、ニューヨークに本部がおかれた。

② ロカルノ条約では、ドイツ西部国境の維持やラインラントの非武装化などが定められた。

③ パリ不戦条約は、戦争放棄を目的とした初の国際条約であったが、アメリカは不参加であった。

④ ドイツの賠償問題に対し、アメリカは 1924 年に返済期間延長を提案するドーズ案を打ち出した。

9 ユーロッパ統合に関わる次の文章を読んで、後の問いに答えなさい。

2016年、EU（ヨーロッパ連合）の主要国の1つであったイギリスが、国民投票によってEUからの離脱を決定した。これを機に「ヨーロッパとは何か」をあらためて考えてみたい。

もともとヨーロッパの大半は (a) 古代ローマ帝国 の属州だったが、一つの歴史世界としてのヨーロッパが形成されたのは、ローマ帝国崩壊後の中世である。なおEUの母体となるEC（ヨーロッパ共同体）の発足時（1967年）の領域は、800年前後の (b) フランク王国 の領域とほぼ等しい。

近世になると、宗教改革の進展により、ヨーロッパにおける「普遍」を体現してきたローマ教皇と神聖ローマ皇帝の権威が低下した。とくにドイツ地域を舞台とした (c) 三十年戦争 は、戦後に、神聖ローマ帝国の支配体制に少なからぬ変化を、そしてヨーロッパ外交には主権国家体制という新しい国際関係をもたらすこととなった。

フランス革命末期に権力をにぎった (d) ナポレオン は、19世紀初めヨーロッパ大陸の大半を支配した。しかしロシア遠征に失敗し、彼の帝国は瓦解した。その後は正統主義と勢力均衡を軸とするウィーン体制が19世紀半ばまでヨーロッパ外交の枠組みとなったのである。

1914年、列強のあいだで帝国主義とナショナリズムの対立が先鋭となるなかで第一次世界大戦が起こった。未曾有の物的損害と人的被害を経験したヨーロッパでは、1920年代には (e) 国際協調主義 が広がった。この頃に汎ヨーロッパ運動を始めたクーデホーフ＝カレルギーは、「ヨーロッパ統合の父」とも言われている。しかしこの協調路線は、世界恐慌による国際経済の破綻と、恐慌からの脱出をはかる全体主義の高揚によって断ち切られ、(f) 第二次世界大戦 を防ぐことはできなかった。

第二次世界大戦後のヨーロッパは、アメリカを中心とする資本主義勢力とソ連が主導する共産主義勢力との新たな対立、すなわち冷戦の深まるなかで東西に分断された。1950年代の半ば、(g) ソ連支配下の東ヨーロッパ諸国では民主化運動が高まりを見せた。一方、西ヨーロッパでは西ドイツとフランスが歩み寄り、EEC（ヨーロッパ経済共同体）が1958年に設立された。67年にはベネルクス3か国とフランス・西ドイツ・イタリアの6か国によってECが設立され、71年にはイギリスなど3か国が加盟した拡大ECが成立した。そして93年には、経済のみならず政治的統合を目指す (h) EUが発足した。

2004年には、東ヨーロッパ諸国を中心に (i) 10か国が加盟して、EUはさらなる拡大をとげた。これらの大半は旧共産圏の国々であり、冷戦終結がヨーロッパの統合に大きな影響を与えたことがわかる。現在のヨーロッパでは、移民・難民の受け入れと関連した治安や失業問題などが大きく浮上している。EU離脱を表明した今後のイギリス、そしてEUをふくむヨーロッパの動向に全世界が注目をしている。

問1 下線部(a)に関連して述べた文として正しいものを、次の中から1つ選べ。

- ①紀元前3世紀後半のポエニ戦争では、ハンニバルのローマ軍が、スキピオが率いるカルタゴ軍を破った。
- ②カエサルはガリア遠征に成功した後、終身独裁官となったが、共和主義者のブルートゥスらに暗殺された。
- ③オクタウィアヌスは、プトレマイオス朝の女王クレオパトラと協力し、アクティウムの海戦でアントニウスを破った。
- ④ローマ帝国が全盛を迎えた五賢帝時代のトラヤヌス帝は、帝国の全自由人にローマ市民権を与えた。

問2 下線部(b)に関連して。8世紀に北イタリアのランゴバルト王国から奪ったラヴェンナ地方をローマ教皇に寄進した人物を、次の中から1つ選べ。

- ①クローヴィス ②カール=マルテル ③ピピン ④カール大帝

問3 下線部(c)について述べた文として正しいものを、次の中から1つ選べ。

- ①新教国デンマーク国王のグスタフ=アドルフは、ヴァレンシュタインが率いる神聖ローマ皇帝軍を破った。  
②三十年戦争に介入したスペインではハプスブルク家が断絶し、それに乗じてポルトガルが独立を回復した。  
③フランスは、旧教国であったが、宰相リシュリューの反ハプスブルク政策にもとづき新教国側にたって参戦した。  
④ウェストファリア条約では、フランスのアルザス地方獲得やスイスが永世中立国となることを認めた。

問4 下線部(d)について。1805年、後の大陸封鎖令につながる重要な2つの戦いがあった。ナポレオン軍のもろさと強さをあからさまにした2つの戦いの組み合わせとして正しいものを、次の中から選べ。

- ①トラファルガーの海戦 — アウステルリッツの戦い  
②トラファルガーの海戦 — ライプツィヒの戦い  
③レパントの海戦 — アウステルリッツの戦い  
④レパントの海戦 — ライプツィヒの戦い

問5 下線部(e)に関する次の文章の中の(あ)・(い)の組み合わせとして、正しいものを選べ。

ドイツとフランスの対立は、第一次世界大戦の大きな要因の一つであった。しかし1925年にロカルノ条約が締結されると、両国のあいだにも国際協調の気運が高まった。条約締結に努力した当時のフランスの外相(あ)は、1926年にノーベル平和賞を受賞した。また1930年には、主力艦のみならず補助艦の制限をまとめた海軍軍縮会議が(い)で開かれた。

- ①あ：ケロッグ い：ロンドン ②あ：ケロッグ い：ワシントン  
③あ：ブリアン い：ロンドン ④あ：ブリアン い：ワシントン

問6 下線部(f)とその前後の出来事の説明として誤っている文を、次の中から1つ選べ。

- ①スペイン内戦において、イギリス・フランスは、国際義勇軍に支援を行い、フランコ将軍が率いる反乱軍と戦った。  
②ミュンヘン会談では、当事国のチェコスロヴァキアが招かれぬまま、ズデーテン地方のドイツへの割譲が認められた。  
③開戦後、独ソ不可侵条約を結んでいたソ連は、ポーランドのみならず、フィンランドにも侵攻したため国際連盟を除名された。  
④戦争中、パルチザン闘争が活発だったユーゴスラヴィアでは、戦後、その指導者ティトーが首相ついで大統領となった。

問7 下線部(g)に関して。民主化を進めようとしたナジ=イムレがソ連軍によって逮捕(その後処刑)された出来事を、次の中から選べ。

- ①ベルリン封鎖 ②ハンガリー動乱 ③プラハの春 ④ルーマニア革命

問8 下線部(h)について。EUの創設を定め、1992年に調印、翌年に発効した条約を、次の中から選べ。

- ①ブリュッセル条約 ②ワルシャワ条約  
③ヘルシンキ条約 ④マーストリヒト条約

問9 下線部(i)の中には、地中海のある島を主要な領土としている国がある。この島は16世紀前半に三大宗教騎士団の1つである聖ヨハネ騎士団の島となり、またアメリカのブッシュ(父)大統領とソ連のゴルバチョフ大統領による会談がなされ冷戦終結の宣言がされた島でもある。この島を、次の中から選べ。

- ①クレタ ②コルシカ ③シチリア ④マルタ

問10 2016年現在、EUには28か国が加盟しているが、EUに加盟していない国を、次の中から1つ選べ。

- ①スイス ②クロアチア ③オーストリア ④スウェーデン